

## 遂宁市高中 2024 届三诊考试

## 文科综合能力测试

本试卷分第I卷(选择题)和第II卷(非选择题)两部分。全卷满分300分,考试时间150分钟。

## 注意事项:

1. 答题前,考生务必将自己的姓名、班级、考号用0.5毫米的黑色墨水签字笔填写在答题卡上。并检查条形码粘贴是否正确。
2. 选择题使用2B铅笔填涂在答题卡对应题目标号的位置上,非选择题用0.5毫米黑色墨水签字笔书写在答题卡对应框内,超出答题区域书写的答案无效;在草稿纸、试题卷上答题无效。
3. 考试结束后,将答题卡收回。

## 第I卷

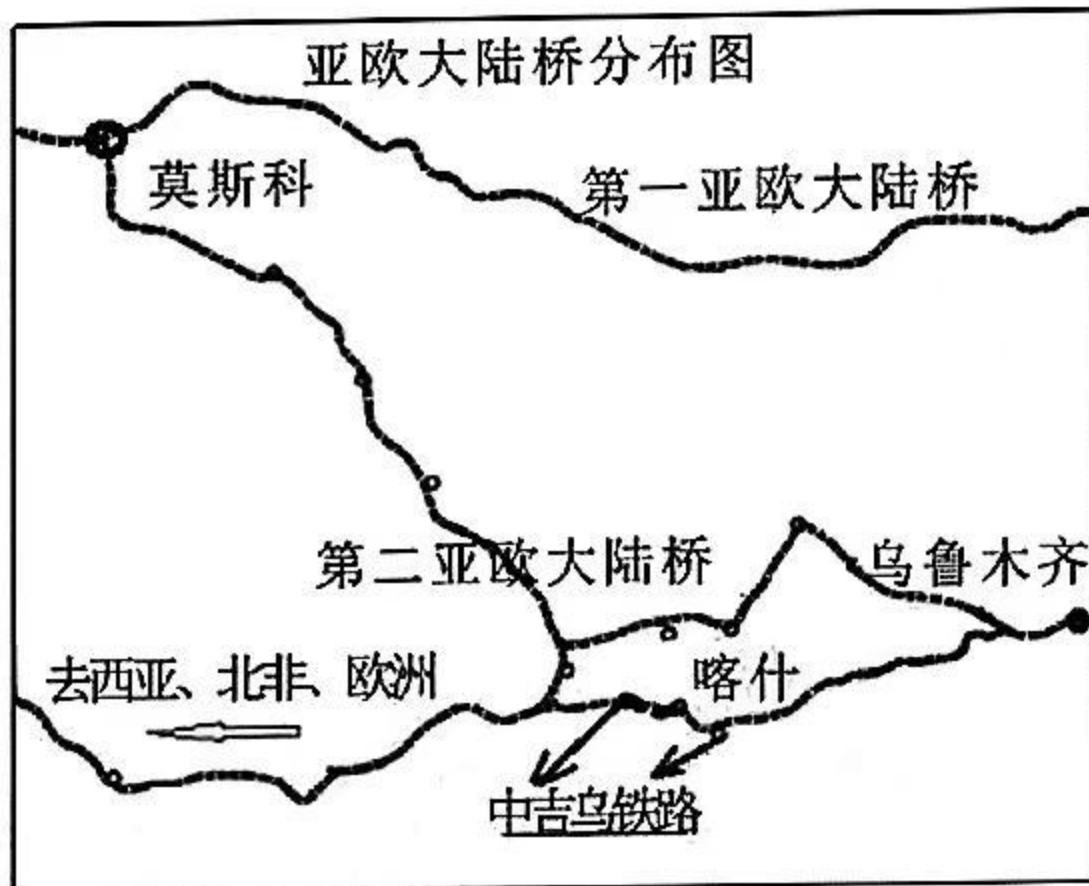
本卷共35小题。每小题4分,共140分。在每个小题给出的四个选项中,只有一项是符合题目要求的。

2023年8月,我国知名的科技企业H公司在网上悄然发布了mate60系列手机,售价5999元起。该系列手机采用我国自主生产的5G芯片和自研的鸿蒙操作系统,是我国第一款真正意义上的国产5G手机。该手机的问世,标志着西方国家对我国尖端芯片和5G技术方面的封锁宣告失败。该型手机一经发布,立即就出现一机难求的局面。据此回答1~2题。

1. 相较于其他5G手机,该型手机能够热销的主要原因是  
A. 售价低      B. 营销巧      C. 款式新      D. 品牌优
2. 未经宣传就很快出现购买热潮,说明对工业生产越来越重要的区位因素是  
A. 市场信息      B. 销售渠道      C. 产品质量      D. 科技创新

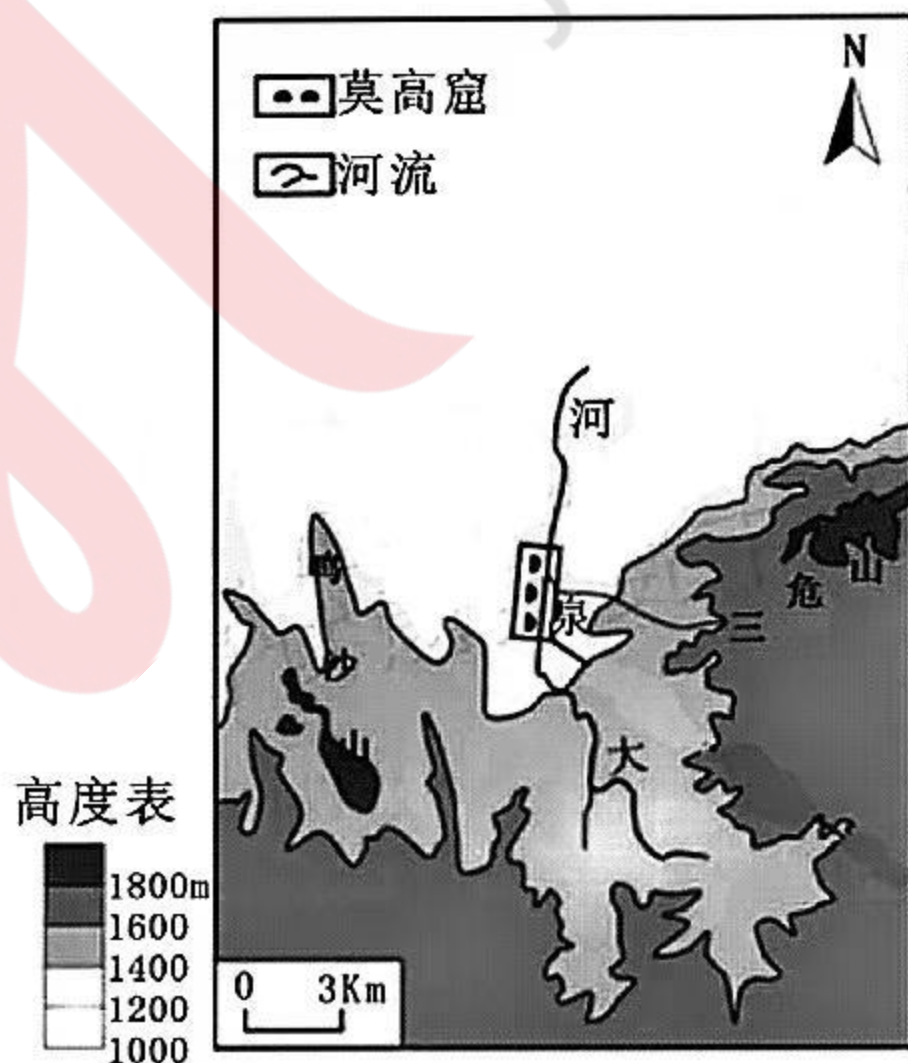
近日,吉尔吉斯斯坦国家投资局表示,经过近20年断断续续的商谈,中(中国)吉(吉尔吉斯斯坦)乌(乌兹别克斯坦)铁路终于将在2024年开工,目前,各方正在商讨该铁路建设的最佳筹资模式与管理模式。中吉乌铁路建成之后,将是中国经中亚到中东、欧洲最短的货运线路,并形成东亚、东南亚通往中亚、西亚和北非、欧洲的便捷运输通道,有力支撑一带一路建设。阅读图文信息,完成3~5题。





3. 中吉乌铁路建设面临的困难不可能是
- A. 中亚运输需求少                      B. 协调管理难度大  
C. 生态环境压力大                      D. 资金技术要求高
4. 中吉乌铁路建成后，对我国的影响有
- ① 缓解部分资源压力                      ② 对外贸易线路多元化  
③ 国内铁路压力减小                      ④ 对欧出口商品增加
- A. ①②③                      B. ②③④                      C. ①②④                      D. ①③④
5. 从对经济发展的影响看，对该铁路建设最可能持反对意见的国家是
- A. 日本                      B. 俄罗斯                      C. 伊朗                      D. 巴拿马

位于河西走廊莫高窟保护区的大泉河，出山口平均流量  $0.076 \text{ m}^3/\text{s}$ 。其径流量四季较稳定，但在夏日晴天 24h 内，该河流在莫高窟断面流量变化十分显著，呈明显的“S”形变化。大泉河莫高窟以上流域范围内降水量远少于蒸发量，气候干旱，为无人区。读图文信息，完成 6~8 题。




6. 大泉河的主要补给水源是

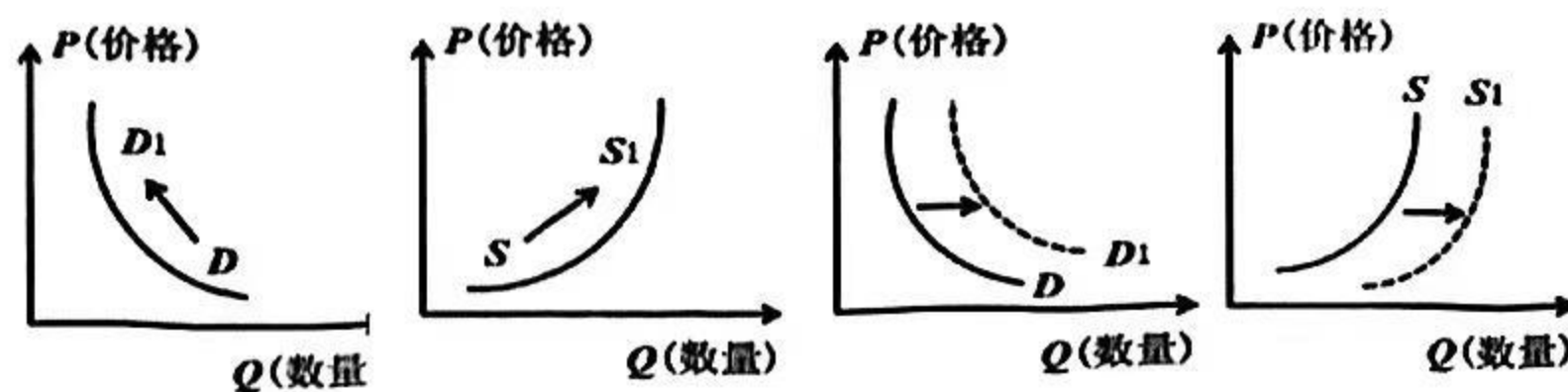


- A. 季节性积雪融水                      B. 高山冰雪融水  
C. 地下水                                  D. 雨水
7. 导致大泉河夏季晴天流量有显著的日变化的直接因素是  
A. 蒸发                      B. 气温                      C. 补给类型                      D. 人类活动
8. 夏季晴天，一天之中大泉河流量最大一般出现在 7: 00~10: 00，推测其流量最小值最可能出现的时段为  
A. 11: 00~13: 00                      B. 13: 00~15: 00  
C. 17: 00~20: 00                      D. 22: 00~24: 00

喀斯特地貌是指地下水和地表水对可溶性岩石（如石灰岩）溶蚀与沉淀、侵蚀与沉积，以及重力崩塌、堆积等作用形成的地貌。我国北方喀斯特地貌远不及南方典型和普遍，但河北秦皇岛市沙锅店地区是一个例外，这里林立的石芽如雨后春笋，挺立于地表，为北方地区所罕见（见下图），主要是巨厚的花岗岩岩墙对该地貌的发育起了关键作用。花岗岩形成于高温高压环境，岩性坚硬致密。据此回答 9~11 题。



9. 据图文信息可知，该地  
A. 石灰岩层受过挤压                      B. 发生过岩浆喷出活动  
C. 经历过断裂活动                      D. 花岗岩形成早于石灰岩
10. 石灰岩分布区的喀斯特地貌发育，南北方存在巨大差异的原因是  
A. 地形差异                      B. 岩石类型                      C. 植被状况                      D. 气候特征
11. 该山丘东北部喀斯特地貌发育成为北方典型的原因是  
A. 气温偏高                      B. 降水偏多                      C. 花岗岩挤压                      D. 地下水富集
12. 2024 年中央一号文件提出，适当提高小麦最低收购价，合理确定稻谷最低收购价。继续实施耕地地力保护补贴和玉米大豆生产者补贴、稻谷补贴政策。（图中 D、S 分别代表需求曲线和供给曲线，P、Q 分别代表价格和数量。）如果不考虑其他因素，该政策带来的影响如图表示





- ①    ②    ③    ④
- A. ①③                                      B. ①④                                      C. ②③                                      D. ②④
13. “新春战袍”马面裙，是“国潮”汹涌中的一朵美丽浪花！无论是设计师还是经营者，都有一个共识：或许马面裙只能火两三年，但“国潮”的崛起已经势不可挡。只要能设计出符合现代人穿搭习惯的新中式产品，都会有很大的市场。这启示企业
- ①生产决定消费对象，要不断研发新产品，满足消费需求  
②生产为消费创造动力，要把握消费热点，刺激消费欲望  
③消费是生产的目的是，要研究消费偏好，根据消费需求设计产品  
④消费对生产的调整和升级起导向作用，要面向市场调整产品结构
- A. ①②                                      B. ①③                                      C. ②④                                      D. ③④
14. 3月28日，CCTV-13新闻频道“在希望的田野上”栏目以《50万亩春播开展北斗助力精准耕种》为题播报某县春耕生产新闻。该县引进智能化机械，借助北斗卫星导航系统，实现播种行距更加精确均匀，提高春耕效率，保障粮食增产丰收。材料说明该县
- ①积极发展现代农业，全力保障粮食安全  
②强化农业科技支撑，提高农业生产效率  
③推动农业转变发展方式，提高农产品质量  
④加强农业基础设施建设，打造高标准农田
- A. ①②                                      B. ①③                                      C. ②④                                      D. ③④
15. 2024年的《政府工作报告》提出，从今年起拟连续几年发行超长期特别国债，专项用于国家重大战略实施和重点领域安全能力建设。下列传导路径正确的是
- A. 适度提高财政赤字率→支持重点领域建设→增加社会总供给→促进经济平稳运行  
B. 发行超长期特别国债→支持重大战略实施→带动社会投资增长→促进高质量发展  
C. 适度提高财政赤字率→增加市场货币供给→缓解企业融资难题→助力实体经济  
D. 发行超长期特别国债→加强重点设施建设→发挥货币政策作用→拉动经济增长
16. 2024年3月29日，人民网联合四川麻辣社区群众呼声等8家地方平台共同开展“我为中国式现代化献策”大型建言征集活动。各地通过“数字民意直通车”“在线投票平台”“在线民意调查”等形式开展人民民主具体实践
- ①体现我国的人民民主是最广泛、最真实、最管用的民主  
②充分保障我国公民的知情权、参与权、表达权、决策权  
③有助于提高人民群众参与全过程人民民主的意识和效能  
④推动民主现代化，是保障人民当家作主的最高实现形式
- A. ①③                                      B. ①④                                      C. ②③                                      D. ②④
17. 近日，中共中央办公厅印发了《关于在全党开展党纪学习教育的通知》，要求各级党委（党组）自2024年4月至7月深入学习贯彻修订后的《中国共



《中国共产党纪律处分条例》，要把开展党纪学习教育作为重要政治任务。这表明中国共产党

- ①推动全面从严治党向纵深发展，以严明纪律推进党的自我革命
- ②加强党的先进性和纯洁性建设，不断提高党员干部的执政能力
- ③坚持以严格标准要求党员干部，将全面推进党的建设落细落实
- ④坚持用严格法律规范党员行为，更好发挥党员的先锋模范作用

A. ①②      B. ①③      C. ②④      D. ③④

18. 4月8日，国家主席习近平在北京人民大会堂会见越南国会主席王庭惠。习近平指出，双方要共同努力，推动中越命运共同体建设取得更多成果，服务各自现代化建设，更好造福两国人民，也为促进世界的和平、稳定与发展作出更大贡献。这表明

- ①双方要以高水平互信铸牢中越命运共同体意识
- ②维护国家稳定和发展是中越双方共同利益所在
- ③越南是中国发展对外关系的头等优先战略选择
- ④促进世界和平发展是我国外交政策的首要目标

A. ①②      B. ①③      C. ②④      D. ③④

19. 2024年春晚创意节目《年锦》将汉、唐、宋、明四个不同朝代的传统纹样与华丽的舞美技术相融合，为全球观众织出一幅跨越千载的纹样服饰变迁图卷。众多中华优秀传统文化符号，正在走向更广阔的世界舞台。这说明中华优秀传统文化

- ①能超越时代限制展现出强大生命力，增强文化自信
- ②具有超越时空的魅力，推动我国国际影响力不断提升
- ③在创新中发展，更好满足海内外日益提升的文化需求
- ④不断创新传承的手段和方式，其基本特征因时而变

A. ①③      B. ①④      C. ②③      D. ②④

20. “中国龙芯之母”黄令仪，为了尽快解决国家芯片“卡脖子”问题，84岁

的她仍带领着团队奋战在科研一线，用一颗最纯粹的“中国心”打造最硬核的“中国芯”。这启示我们

- ①坚定理想信念，把人生理想融入国家发展
- ②立足伟大梦想，在奋斗与奉献中成就人生
- ③把提高科技创新能力作为人生的奋斗目标
- ④砥砺奋斗，增强社会历史责任感和使命感

A. ①③      B. ①④      C. ②③      D. ②④

21. 今年3月23日，太阳爆发X1.1级耀斑，引发了日冕物质抛射事件。国家空间天气监测预警中心及时监测到该现象，准确预报了其后发生的地磁暴，并发布预警信息。这说明

- ①意识具有主动创造性，人能够能动地认识世界
- ②人们能根据社会发展的需要认识和利用规律
- ③思维与存在具有同一性，思维能够正确认识存在
- ④规律具有客观性，要尊重客观规律，按规律办事



- A. ①②      B. ①③      C. ②④      D. ③④

22. 教育数字化是我国开辟教育发展新赛道和塑造教育发展新优势的重要突破口。近年来，中国教育部推动实施教育数字化战略行动，以互联网思维重构教育，借大数据支撑教学，用智能产品提升学习效能，促进教育高质量发展。这要求

- ①立足教学实践，运用数字技术对教育模式全面变革  
②坚持系统优化，运用互联网思维助力智慧校园建设  
③坚持因材施教，运用大数据分析定制专属学习方案  
④坚持创新思维，发挥人工智能对教学的主动创造性

- A. ①③      B. ①④      C. ②③      D. ②④

23. 随着我国人口老龄化程度的加深，多层次多样化养老服务需求不断增加，进而催生了老年人能力评估师、长期照护师、银发顾问、适老化改造评估师等养老服务新职业，其从业者真正以老年人需求为导向，用专业化、精细化的服务提高晚年生活质量。这说明

- ①生产力决定生产关系  
②经济基础决定上层建筑  
③要站在人民的立场上做出正确的职业选择  
④投身养老服务是实现人生价值的根本途径

- A. ①③      B. ①④      C. ②③      D. ②④

24. 下表为西周至春秋时期的社会现象，由此推知

周厉王三十七年 (公元前 841 年)	周厉王被逐，宣王未立，周、召二公，共和行政，凡十四年，主权不属于一人。
卫献公十八年 (公元前 559 年)	卫献公出奔，卫人立公孙剽，孙林父、宁殖相之，此虽有君，实权皆在二相。
鲁昭公二十五年 (公元前 517 年)	鲁昭公出奔，鲁国并未立君，季氏对于国政，决不能一人专断。

- A. 华夏认同观念深入      B. 原始民主传统有所遗存  
C. 周朝统治危机初显      D. 阶级关系出现新的变化

25. 董仲舒《春秋决狱》记载：一民妇（甲）的丈夫溺水而亡，甲的母亲私自做主，将甲另嫁他人。有人认为“夫死未葬，法无许嫁，以私为人妻，当弃市（死刑）”。但是，官员考虑到甲的动机，最终判决甲罪不至死。这一判决

- A. 体现了礼法之间的调和      B. 强调程序正义与公平  
C. 标志着中华法系的确立      D. 以尊卑为量刑的原则

26. 唐代两税法规定“人无丁中，以贫富为差”，居无定所的商人也要交税；还规定交纳两税后“其租庸杂徭悉省”，纳税项目减少，省去原来“旬输月送”



的麻烦和税吏催缴的痛苦。这些规定

- A. 兼顾了公平与效率  
B. 得到土地所有者的认同  
C. 增加赋税征收成本  
D. 加重了基层治理的负担

27. 清乾隆时期，受西洋透视法影响，桃花坞“姑苏版”年画年产数万张，远销日本、东南亚。受姑苏版年画透视法启发，日本江户时期浮世绘画家奥村政信绘制出浮世绘作品《唐人馆图》。由此可以证明

- A. 江南是中外互动的中心  
B. 西学东渐激发创作热情  
C. 文明交流助推艺术发展  
D. 明治维新效仿中国文化

28. 1873—1892年，轮船招商局先后与英国的太古、怡和公司签订合同，规定了三公司在中国部分航线的营业份额（如表所示）。这些合同的签订

航线 份额% 公司	长江		北洋		上海—宁波		上海—福州	
招商局	55	42	60	44	55	50	55	50
太古	45	38	-	28	45	50	-	-
怡和	-	20	40	28	-	-	45	50

- A. 暴露了洋务运动的根本缺陷  
B. 提高了轮船招商局的行业地位  
C. 反映了洋务派的妥协与退让  
D. 客观上维护了中国的经济权益

29. 列宁曾表示“你们面临着全世界共产党人所没有遇到过的一个任务，就是你们必须以共产主义的一般理论和实践为依据，适应欧洲各国所没有的特殊条件，善于把这种理论和实践运用于主要群众是农民、需要解决的斗争任务不是反对资本而是反对中世纪残余这样的条件。”中国共产党的下列做法符合列宁论述的是

- A. 领导抗日战争  
B. 指导五四运动  
C. 进行三大改造  
D. 开展土地改革

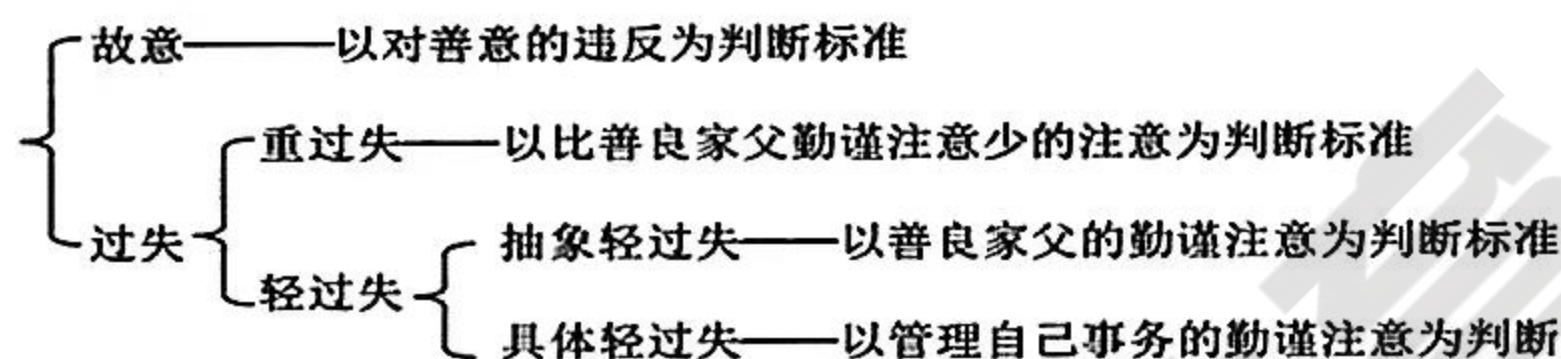
30. 1937年9月25日，漫画家蔡若虹发表了漫画《我们没有了家》（如下图）这一作品



- A. 展现了敌后军民的团结  
B. 提出了民族统一战线的方针  
C. 有助于民族意识的增强  
D. 反映了社会主要矛盾的变化



31. 根据国家三线建设规划，1964 年国家计委批准唐山铁道学院陆续迁往四川，并更名为西南交通大学。唐山铁道学院内迁是三线建设时期高校内迁的缩影，这主要是为了
- A. 培养科技人才                      B. 应对紧张形势  
C. 改善工业布局                      D. 增强国防力量
32. 罗马在《查士丁尼法典》颁布之前，对过失标准不分种类和等级，而是笼统地表述。下图所示展示了《查士丁尼法典》的追责标准。这一变化反映了《查士丁尼法典》



- A. 具有灵活变通及理性内涵                      B. 维护奴隶主贵族特权  
C. 具有严格的形式主义特征                      D. 充分保护债权人利益
33. 1797 年，英国手织机工人的周工资是 26 先令 8 便士，这个收入在当时意味着相当优越的生活水平，到 19 世纪三四十年代却只能挣到 5 先令 6 便士。这一变化主要是由于
- A. 价格革命加速社会阶层的分化                      B. 生产技术革新加剧行业竞争  
C. 大工厂制完全取代了手工工场                      D. 工业革命导致贫富差距悬殊
34. 伏特加、格瓦斯等传统饮品备受俄罗斯农民喜爱。20 世纪 20 年代前半期，苏联曾经实行禁酒政策，但酗酒和自制烧酒现象依然盛行，由此诱发的社会问题依旧突出。30 年代，苏联的档案文献中已很少提及手工酿酒问题，农民酒类消费量急剧减少。这一变化反映了
- A. 公民道德水平大幅度提升  
B. 法西斯侵略导致局势紧张  
C. 资本主义经济危机波及苏联民众  
D. 经济政策对社会产生了重大影响
35. 1960 年，美日两国签订了《日美共同合作安全条约》，以取代 1951 年的《日美安全保障条约》。该条约确认美国有权继续在日本驻军和保持军事基地，但限定双方必须就此进行协商，并且删去了旧条约中美军可以镇压日本国内的“暴动和骚乱”的条款。该条约
- A. 体现出日本对冷战态度发生转变  
B. 反映中间地带力图摆脱美国控制  
C. 折射出了世界政治格局的新趋向  
D. 根本上改变美日间的平等关系



## 第 II 卷

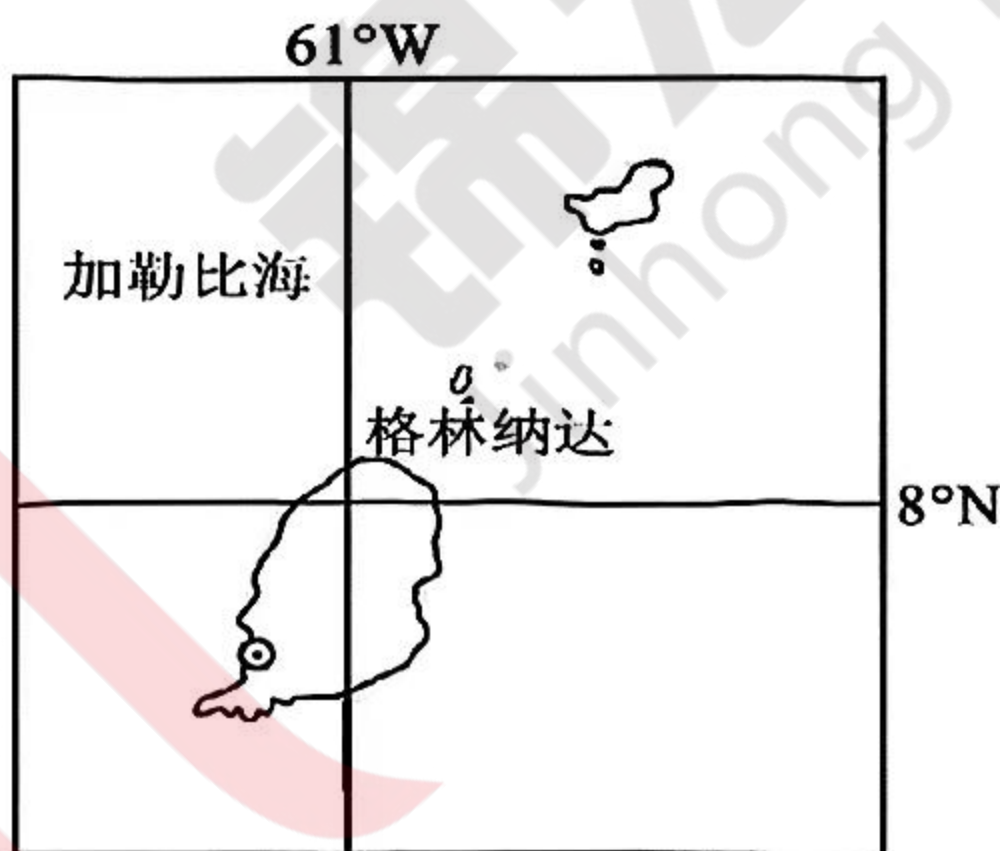
### 注意事项：

1. 请用 0.5 毫米的黑色墨水签字笔在第 II 卷答题卡上作答，不能答在此试卷上。
2. 试卷中横线及框内注有“▲”的地方，请在第 II 卷答题卡上作答。

本卷包括必考题和选考题两部分，第 36 题-第 42 题为必考题，每个试题考生都必须作答。第 43-44 题为地理选考题，考生任选其中一题作答。第 45-47 题为历史选考题，考生任选其中一题作答。

### 36. 阅读图文材料，完成下列要求。(24 分)

格林纳达(下图)总面积 344 平方千米，经济较落后。总人口约 11 万，目前老龄化较重。该国因盛产优质肉豆蔻为主的香料作物而成为著名的“香料之国”，其肉豆蔻产量一度达到世界的三分之一，几乎全部用于出口。近年受到飓风的严重破坏，且随着该国大力发展旅游业，肉豆蔻产量和出口量迅速下降，已经退居东南亚的印度尼西亚、以及南亚的印度和斯里兰卡等国之后。最近，我国政府为格林纳达制定了《国家 2030 远景规划》，建议其肉豆蔻生产和旅游业融合发展。



- (1) 根据肉豆蔻的产地分布指出其生产需要的劳动力条件。(4 分)

▲

- (2) 从劳动力方面分析格林纳达肉豆蔻出口量下降的原因。(8 分)

▲

- (3) 简析格林纳达旅游业发展对肉豆蔻生产产生冲击的原因。(6 分)

▲

- (4) 试为格林纳达旅游业和肉豆蔻生产融合发展提出具体建议。(6 分)

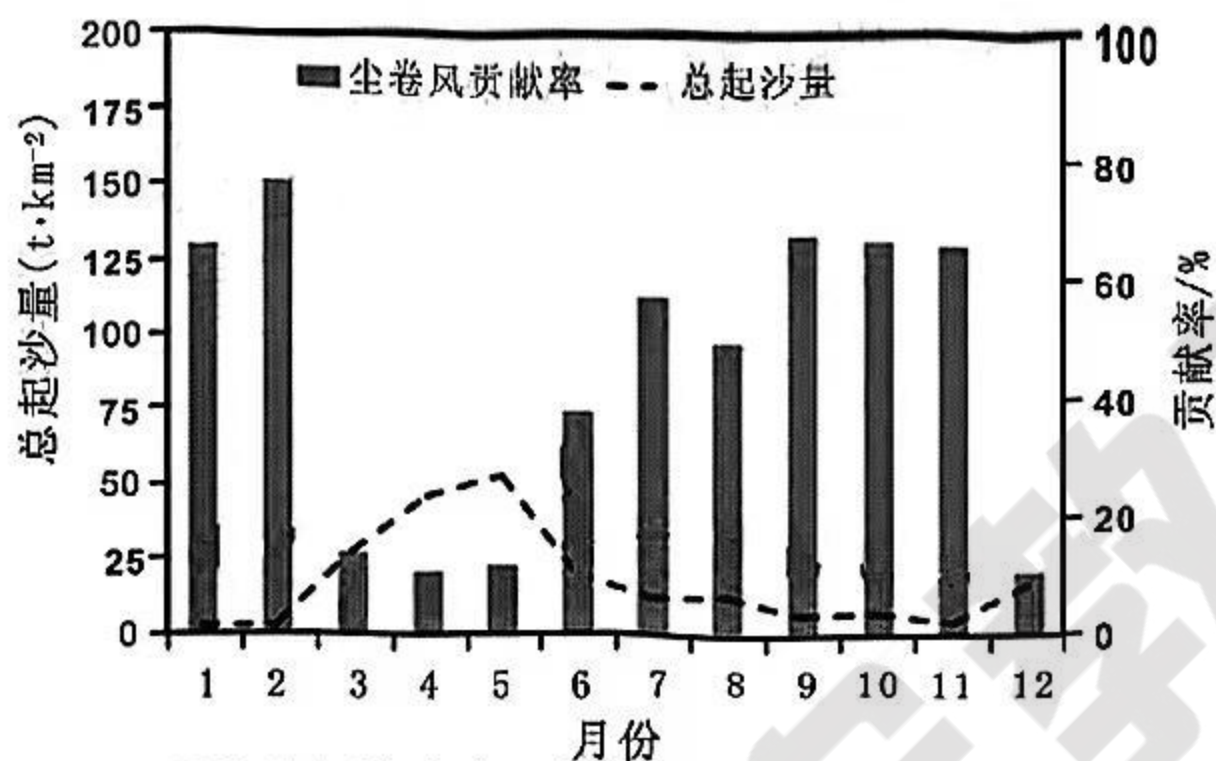
▲

### 37. 阅读图文材料，完成下列要求。(22 分)



甘肃民勤绿洲是全国大气沙尘含量的极值中心，其多来源于浮尘、扬沙、沙尘暴及大风天气。研究发现，尘卷风的起沙亦是大气沙尘的主要来源之一。尘卷风是由地面强烈增温而生成的小旋风，草地裸地均可发生，其直径一般几米左右，持续时间通常只有几分钟，以卷起地面尘沙和轻小物体形成旋转的尘柱为特征。尘卷风主要发生在晴日、无风或微风的天气条件下。

近年来，国家加大了对民勤绿洲的环境治理。读民勤绿洲十年间平均月总起沙量以及尘卷风起沙量贡献率（所占比例）分布图，完成下列问题。



平均月起沙总量及尘卷风贡献率分布图

(1) 据图判断尘卷风起沙量最大的季节并简短说明依据。(6分)

▲

(2) 简析春季尘卷风起沙贡献率最低的原因。(4分)

▲

(3) 说明尘卷风起沙未被治理的原因。(6分)

▲

(4) 专家判断，将来尘卷风起沙的贡献率会越来越大。请说明判断的理由。(6分)

▲

38. 阅读材料，完成下列要求。(14分)

锂电产业是全球高新技术发展的重要方向，是实现碳达峰、碳中和以及绿色发展的重要载体。近年来，位于成渝发展主轴黄金节点的某市，集聚资源要素，推进锂电及新材料产业加快发展，被中国有色金属工业协会授予“锂业之都”称号。

为加快建设“世界锂都”，让锂电及新材料产业成为全市经济发展的先导产业和未来经济发展的支柱产业，该市结合各县（市、区）、市直园区产业基础、承载能力、发展潜力，统筹考虑全市产业结构和布局，形成“三园一区”锂电产业链协同配套发展格局；该市政府出台了《市“十四五”锂电产业发展规划》，从投资促进、产业协作、要素保障等方面促进生产要素向优势企业集中，特别要把优势资源优先配置给规模化经营的企业，全力打造生产经营规模在全国乃至全球行业中领先的企业；引进建成锂电科技学院（全国唯一锂电专门学院），坚持多形式、多渠道、全方位引进和培养锂电及新材料产业发展急需人才和创新团队，同



时，携手清华大学、北京大学、四川大学、重庆大学等知名高校建设科技转化创新园和联合实验室，促进全产业链创新资源共享。

为加快完善“锂资源开发—锂电材料—锂电池—终端应用—综合回收利用”全生命周期产业链条，该市瞄准产业链关键环节、缺失环节，推进项目招引“精准卡位”，目前已引进培育规模以上企业 36 户，拥有国家高新技术企业、省级“专精特新”“贡嘎培优<sup>®</sup>”等优质企业 14 户，成为全国发展锂电全产业链的重要地区。

(注:2022年3月，四川省政府办公厅印发了《四川省制造业企业“贡嘎培优”行动计划》，通过加大引导和支持力度，努力打造一批资源消耗少、环境影响小、科技含量高、产出效益好、发展可持续的制造业优质企业。)

请结合材料，运用经济生活知识，说明该市是如何推动锂电产业高质量发展的。(14分)

39. 阅读材料，完成下列要求。(12分)

今年是习近平总书记创造性提出总体国家安全观十周年，总体国家安全观在新时代维护国家安全的伟大斗争中应运而生、不断发展，理论体系日臻完善，实践运用卓有成效，是新时代国家安全工作的根本遵循和行动指南。

党的十九大以来，我们贯彻总体国家安全观，有力开展维护和塑造国家安全的一系列现实斗争，成效显著。面对突如其来的新冠疫情，我们坚持人民至上、生命至上，坚持外防输入、内防反弹，开展抗击疫情人民战争，最大限度保护了人民安全；面对香港局势动荡变化，我们依照宪法和基本法有效实施全面管治权，制定实施香港特别行政区维护国家安全法，落实“爱国者治港”原则，香港局势实现由乱到治的重大转折，有力捍卫了政治安全；面对国内改革发展稳定的重任，我们全面贯彻党的二十大精神，对标新发展格局，构建新安全格局，以新安全格局保障新发展格局，牢牢掌握了我国发展和安全主动权；面对世界进入新的动荡变革期，我们对内坚持国家利益为重、国内政治优先，对外致力于推动树立共同、综合、合作、可持续的“全球安全观”，完善参与全球安全治理机制，力求国家安全与国际安全良性互动。

请结合材料，运用政治生活知识说明我国是如何贯彻落实总体国家安全观的？(12分)

40. 阅读材料，完成下列要求。(26分)

“千村示范、万村整治”工程(以下简称“千万工程”)是习近平总书记在浙江工作期间亲自谋划推动的一项重大决策，创造了推进乡村全面振兴的成功经验和实践范例。2024年中央一号文件强调，要学习运用“千万工程”蕴含的发展理念、工作方法和推进机制，有效推进乡村全面振兴，绘就宜居宜业和美乡村新画卷。

乌镇位于浙江嘉兴桐乡市，依托全域旅游带动共富增收，是“千万工程”的经典案例。

2005年8月3日，时任浙江省委书记的习近平同志来到乌镇调研古镇发展之路。这个时候，乌镇“历史街区保护和利用并举”的开发方式一波三折，不少人抵制。有的人觉得所谓历史遗产是落后的东西，保护没意义。有的人认为在保护中开发旅游，把原先平整的水泥路重新变成了石板路，平桥变成了拱桥，影响



出行起居。在这次调研座谈会上，习近平同志鼓励大家坚持“以保护历史遗产来开发旅游”的发展理念不动摇，使这条路越走越宽广。

桐乡市以乌镇全域旅游为依托，发挥核心景点的带动效应，西栅培育高端业态，与东栅中端业态错位发展，并将互联网、红色、戏剧等新元素融入旅游，实行旅游资源整体产权开发；将旅游业与新型城镇化有机融合，实施“镇区景区化、景区全域化、全域智慧化”，累计投入各类城镇基础设施建设资金约 80 亿元，水乡风情和城镇功能实现完美融合；以品质度假经济吸纳就业创业，住宿、餐饮等富民行业快速发展，并带动周边河鲜、果蔬等农业生产销售，培育形成了董家茭白等 7 大农业产业；辐射带动周边南浔、吴江等地乡村游，有效拓宽农户致富渠道。

目前，乌镇年接待游客超 1000 万人次，旅游总收入超 20 亿元，带动就业超过 5 万人，国家发展改革委发文向全国推广“乌镇模式”。

(1) 请结合材料，运用文化继承与发展的关系，说明为什么要坚持“以保护历史遗产来开发旅游”的发展理念不动摇？（10 分）

(2) 请结合材料，运用系统优化的知识分析“乌镇模式”的推广价值。（12 分）

(3) 习近平总书记指出，文化产业和旅游产业密不可分，要坚持以文塑旅、以旅彰文，推动文化和旅游融合发展。2024 年中央一号文件也明确提出要实施乡村文旅深度融合工程，推进乡村旅游集聚区建设。请结合你家乡的文旅资源特色，为家乡的乡村文旅深度融合发展提两条可行性建议。（4 分）

41. (1) 阅读材料，完成下列要求。（25 分）

材料一：欧洲出版业决定性进展发生在 15 世纪中叶印刷术出现之后。当时虽并未发生真正的“印刷革命”，但在 16 和 17 世纪，阅读习惯和文化产品消费发生了一些变化。又过了一个世纪多之后，在大革命以前的法国狄德罗和达朗贝尔的《百科全书》冲破王政时期书业管理制度的藩篱，催生了近代出版业。在 18 世纪 80 年代初期，英国伦敦成了世界书籍之都。

——摘编自让·伊夫·莫里耶《从欧洲近代出版业诞生到大众文化的勃兴》

材料二：近代中国民营出版业在社会知识精英为寻求民族自强与独立这样一个大背景下蹒跚起步。开启民智成为先进知识分子和开明官僚普遍关注的主题。启蒙首先是从翻译出版开始的。出版主体从开始时仅有官办出版机构、教会出版机构到遍布各地的民营出版机构的出现。出版内容由最初注重自然科学到后来社会科学与人文科学兼顾，这些均为中国早期工业化知识提供与思想界变革起到了积极推动作用。

——摘编自黄宝忠《中国近代民营出版业成长的社会生态分析》

材料三：1949 年《共同纲领》第四十九条提出，“发展人民出版事业，并注重有益于人民的通俗书报”。出版业被纳入意识形态治理和所有制改造的轨道。1951 年 1 月 1 日，商务印书馆、中华书局、开明书局、三联书店、联营书店把各



自的发行部门划出，组建了公私合营性质的“中国图书发行公司”，与国营性质新华书店构成了新中国出版发行的主要力量。

——摘编自刘强《论新中国初期出版业发展策略重构》

(1) 根据材料一并结合所学知识，分析近代西方出版业兴起与发展的背景。(8分)

▲

(2) 根据材料二并结合所学知识，概括近代中国民营出版业发展的特点。(8分)

▲

(3) 根据上述材料并结合所学知识，指出建国初期中国出版业发生的新变化及其影响。(9分)

▲

42. 央视春晚体现了改革开放四十多年来中国社会发展以及中国人民生活变迁的历史轨迹。阅读材料，回答问题。

时间	部分春晚的特色内容
1983年	央视第一届春节晚会亮相。相声：山村小景
1984年	节目首次出现“小品”形式；张明敏一曲《我的中国心》作为港台歌曲首次亮相。
1993年	央视春晚开始实行导演招标制。小品：《市场速写》
1997年	《春天的故事》引发全民传唱。 《公元一九九七》，演唱：韩磊、孙楠、彭羚（香港）等九位歌手
2000—2008年	反映北京申奥、抗震救灾、神舟上天等国家大事以及“空巢老人”“大忽悠”等社会现象也以各种形式呈现。
2011年	首次推出网络春晚。
2016年	出现许多反映中国梦的节目，如《丝绸之路》等。
2019年	技术创新是晚会亮点，实现了通过5G网络实时传输4K高清视频结合VR技术向全国转播分会场节目。
2021年	《向祖国报告》，嘉宾：航天科技集团五院的四位总设计师 “2020全国脱贫攻坚奖”获奖个人及组织代表

根据材料并结合所学知识，拟一个与春晚主题相关的标题，写一篇历史小论文。

(要求：格式完整，表述成文；观点明确，史论结合；逻辑严密，条理清晰。)


▲

43. 【旅游地理】阅读图文材料，回答问题。(10分)

2023年11月，国产首艘大型邮轮“爱达·魔都号”正式交付用户，使得邮轮旅游再次进入大众视线。邮轮被称为移动的“娱乐城”，娱乐表演、休闲购物、聊天交友等活动丰富多彩；航线安排多以海洋为主，行程长，节奏慢，行程舒适休闲，没有中转麻烦；服务水平较高，邮轮可以提供一站式的24小时个性化服



务。在我国，邮轮旅游虽收费较高，但性价比很高；在邮轮出游人群的年龄分布方面，中老年人（45岁以上）占比达81.06%，成为绝对主力。



简析我国邮轮旅游的游客以中老年人为主的原因。

44. 【环境保护】阅读图文材料，回答问题。（10分）

我国正在建设的平陆运河北连西江航运干线，南通北部湾，并在北部湾填海造陆配套建设大型港口。工程建设中，原有的沙坪河及钦江河道，特别是在跨越分水岭段都需要全程开挖。开挖形成的弃渣里，既有坚硬的石块、肥沃的土壤以及河底淤泥，也有土石混合物，总量超过2.2亿立方米。国家对弃渣提出了“综合利用，变废为宝；科学施工，缩短运距；减少污染，降低投资”的综合处理思路。



请根据国家对于运河弃渣的处理思路提出具体措施。

45. 【历史——选修1：历史上重大改革回眸】阅读材料，完成下列要求。（15分）

材料：1950年4月13日，中央人民政府委员会第七次会议通过了《中华人民共和国婚姻法》，这是新中国成立后出台的第一部法律。这部法律于1950年5月1日公布实施。《婚姻法》共八章二十七条，其基本精神就是“废除包办强迫、男尊女卑、漠视子女利益的封建主义婚姻，实行男女婚姻自由、一夫一妻、男女



权利平等、保护妇女和子女的合法利益的新民主主义婚姻制度”，并明确规定“结婚须男女双方本人完全自愿，不许任何一方对他方加以强迫或任何第三者加以干涉”，对于重婚、纳妾、童养媳、干涉寡妇婚姻自由等封建婚姻恶习，由于它们都是实行新婚姻制度的主要障碍，所以在《婚姻法》各章的具体内容中都明令予以禁止，这就为新中国婚姻家庭制度的改革扫清了道路。从内容上看，该法锋芒直指婚姻家庭领域的封建制度、封建思想和封建习俗，目的就是要推翻以男子为中心的“夫权”支配，保护妇女和子女的正当利益，使广大妇女摆脱封建婚姻家庭制度的长期束缚。

——摘编自何立波《新中国第一部〈婚姻法〉诞生始末》

(1) 根据材料并结合所学知识，简析新中国建立之初颁布《婚姻法》的原因。

(6分)

▲

(2) 根据材料并结合所学知识，概述新中国建立之初颁布《婚姻法》的意义。

(9分)

▲

46. 【历史——选修2：20世纪的战争与和平】阅读材料，完成下列要求。(15分)

材料：两次世界大战后的德国战争赔偿是国际政治中的焦点话题，战胜国希望以此达到削弱德国实力和弥补战争损耗的双重目的。联邦德国建立后自愿对纳粹暴政受害者进行持续性赔偿，其目的是“消除道德上的罪恶感”。赔偿对象经历了战胜国政府、以色列政府、纳粹受害者、大屠杀幸存者和被遗忘的受害者的多次转变。根据《雅尔塔协定》等规定，德国在占领时期以工业设备等实物形式支付赔偿。20世纪50年代《联邦赔偿法》发布之后，开始以德国马克、美元、欧元等货币支付赔偿。二战后的德国赔偿史，既是一段用物质补偿战胜国政府和受害者的经济史，又是一段重塑德国国际声誉和地位的政治史，还有一段推动德国民众集体反省战争罪责的社会史。

——摘编自孙文沛《二战后德国战争赔偿政策的演变及其影响》

(1) 根据材料并结合所学知识，概括二战后德国战争赔偿政策的演变。(6分)

▲

(2) 根据材料并结合所学知识，简析二战后德国战争赔偿的影响。(9分)

▲

47. 【历史——选修4：中外历史人物评说】阅读材料，回答问题。(15分)

材料：1979年，陈云写了《计划与市场问题》一文，提出在大力发展计划经济的同时，也应该发展市场经济作为补充，但是这种补充应该是积极的。在陈云看来，计划和市场都是调节经济的手段，社会主义不能离开计划经济，但是单靠计划是不行的，单一的计划经济会使社会主义经济失去活力，因此，必须要依靠市场经济来给社会主义经济增加活力。陈云在1982年，进一步论述了计划与市场的关系，这就是著名的“鸟笼经济”。陈云用“鸟”和“鸟笼”来形容计划和



市场。这个比喻意在说明，在引入市场经济搞活社会主义经济的同时，不能脱离国家计划经济的轨道，市场调节只能在国家计划的指导之下发挥作用。

——马娟娟《陈云经济思想对中国特色社会主义经济建设的启示》

(1) 根据材料并结合所学知识，简评陈云 1979 年的经济体制改革思想。(6 分)

▲

(2) 根据材料并结合所学知识，指出 1979 年陈云探索经济体制改革的核心思想，并说明其时代背景。(9 分)

▲

