

资阳市高中 2021 级第一次诊断性考试

文科综合能力测试

注意事项:

1. 本试卷分选择题和非选择题两部分。答题前，考生务必在将自己的姓名、考生号填写在答题卡上。
2. 回答选择题时，每小题选出答案后，用 2B 铅笔把答题卡上对应题目的答案标号涂黑，如需改动，用橡皮擦干净后，再选涂其他答案标号。写在试卷上无效。
3. 回答非选择题时，将答案写在答题卡上，写在试卷上无效。
4. 考试结束，将答题卡交回。

一、选择题：共 35 小题。每小题 4 分，共 140 分。在每个小题给出的四个选项中，只有一项是符合题目要求的。

地理环境是房屋建筑规划时需要考虑的重要因素，下表示意我国部分地区建筑朝向(即门窗朝向)状况。据此完成 1~2 题。

地区	位置	最佳朝向	不宜朝向
厦门	24.5° N, 118° E	南偏东 5° ~10°	南偏西 25° , 西偏北 30°
银川	38.5° N, 106° E	南至南偏东 23°	西、西北
北京	40° N, 116° E	南偏东 30° 以内, 南偏西 30° 以内	北偏西 30° ~60°
哈尔滨	46° N, 126.5° E	南偏东 15° ~20°	西、西北、北

1. 厦门建筑最佳朝向为南偏东 5° ~10° ，其主要原因是
 - A. 夏季通风条件最好
 - B. 冬季冷空气影响小
 - C. 冬季太阳辐射最强
 - D. 夏季采光条件最好

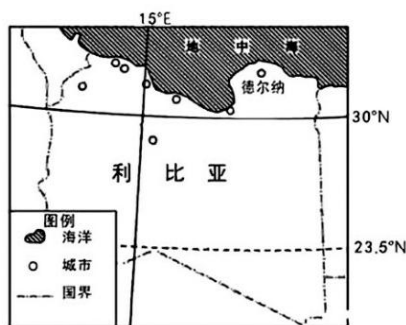
2. 上述地区房屋最佳朝向均为偏南，与其相关性最弱的理由是
 - A. 通风佳
 - B. 避北风
 - C. 降水多
 - D. 采光好

3. 只考虑太阳辐射因素，朝向正东的建筑夏季室内接受日照时间最长应位于
 - A. 厦门
 - B. 哈尔滨
 - C. 北京
 - D. 银川

2023 年 9 月 10 日，飓风“丹尼尔”由北向南袭击利比亚德尔纳古城(位置见右下图)并深入内陆，24 小时内给该地区带去了 400 毫米的降雨量，而该地区常年 9 月的降雨量仅有 1.5 毫米，气候极端变化愈发明显。下图示意利比亚地形图，据此完成 4~5 题。

4. 正常年份，德尔纳地区9月份降水少的主要原因是

- A. 盛行离岸风，水汽较少
- B. 高压控制，盛行下沉气流
- C. 寒流流经，降温减湿明显
- D. 海拔较低，水汽抬升弱



5. 飓风“丹尼尔”经过德尔纳古城的前后风向分别为

- A. 西北风、东北风
- B. 西北风、西南风
- C. 西南风、东北风
- D. 东北风、东南风

长白山天池为中国第一深湖，最深处373米，湖面海拔高度为2189.1米，被一系列玄武岩为基底的山峰包围。湖区降水集中在6~9月，所在流域年降水量1400mm，为湖泊提供0.43亿m³的水量。湖区年均溢出水量为1.23亿m³，地表没有河流汇入，湖面水位多年稳定。据此完成6~8题。

6. 长白山天池形成于

- A. 地壳断陷集水
- B. 火山口集水
- C. 河流改道
- D. 滑坡阻断河流

7. 长白山天池的主要补给水源为

- ①雨水
 - ②河流水
 - ③冰川融水
 - ④地下水
- A. ①②
 - B. ②③
 - C. ③④
 - D. ①④

8. 长白山天池水位最高月份出现在

- A. 3月
- B. 6月
- C. 9月
- D. 12月

地面长期经过剥蚀、堆积等外力作用，形成近近平坦的陆地平面称为夷平面。随着地壳变动，夷平面受到切割破坏，残留在山顶或山坡上，又称古夷平面(如下图所示)。据此完成9~11题。



9. 不易形成夷平面(或者形成时间较长)的河段是

- A. 河口三角洲
- B. 下游河床
- C. 中游冲积平原
- D. 上游河谷

10. 在每次进行大规模夷平作用的时期，该地区

- ①以内力作用为主
 - ②以外力作用为主
 - ③地壳相对活跃
 - ④地壳相对稳定
- A. ①③
 - B. ①④
 - C. ②③
 - D. ②④

11. 太行山地区有多级古夷平面的存在，表明该地区地壳经历了

- A. 间歇性抬升
- B. 持续性抬升
- C. 间歇性下降
- D. 持续性下降

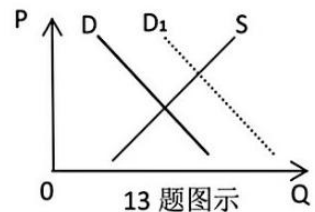
12. 手工制作的油纸伞需要手工贴布、绣花等工艺，产量比较低，具有很高的艺术价值和收藏价

值，而机器制作的油纸伞制作速度快，品质稳定，价格相对较低，更适合于普通消费者购买和使用。与手工制作相比，机器制作的油纸伞优势在于

- ①制作速度快，单品价值大
- ②生产线制作，品质更稳定
- ③工艺较复杂，艺术价值高
- ④制作成本低，价格较划算

- A. ①② B. ①③ C. ②④ D. ③④

13. 2023 年，中秋国庆双节联动，释放假日经济新活力。不考虑其他因素，假设其他条件不变，（注：D 为需求，S 为供给，D、S 为变动前，D1 为变动后）下列经济现象符合右图变化趋势的是



- A. 中秋国庆双节叠加，游客集中出行对民宿行业的影响
- B. 中秋国庆双节过后，机票价格“一言不合”就大跳水
- C. “贺中秋·迎国庆”购房优惠活动，吸引了众多购房者
- D. 中央启动成品粮油储备投放，保障“双节”市场供应

14. 2023 年，中央在安排财政就业补助资金 667.6 亿元(比去年增加 50 亿元)用于支持地方就业创业的同时，也积极指导各地统筹用好各项就业补助资金和失业保险基金。上述政策

- ①加大了就业资金保障力度
- ②提高了地方企业经济效益
- ③解决了地方就业创业问题
- ④凸显了国家就业优先导向

- A. ①② B. ①④ C. ②③ D. ③④

15. 外汇存款准备金率是指金融机构交存央行的外汇存款准备金与其吸收外汇存款的比率。2023 年 9 月 15 日，中国人民银行决定从即日起，下调金融机构外汇存款准备金率 2 个百分点，即外汇存款准备金率由现行的 6% 下调至 4%。适时下调外汇存款准备金率意味着

- ①机构外汇资金运用能力增强
- ②金融市场预期稳定性增强
- ③财政政策平衡外汇作用初显
- ④金融体系外汇流动性收紧

- A. ①② B. ①③ C. ②④ D. ③④

16. 2023 年是我国提出共建“一带一路”倡议十周年。十年来，我国与 150 多个国家、30 多个国际组织签署了 200 多个合作文件，形成 3000 多个合作项目，拉动近万亿美元规模投资。十年辉煌成绩昭示，共建“一带一路”，关键在互联互通。实现互联互通，相关国家必须

- ①深化政策沟通，实行统一经济政策
- ②加强设施联通，重塑全方位开放格局
- ③扩大资金融通，健全多元投资体系
- ④提升贸易畅通，推动贸易投资便利化

- A. ①③ B. ②④ C. ①② D. ③④

17. 2023 年 10 月 11 日，国家税务总局发布最新数据显示，今年前 8 个月全国新增减税降费及退税缓费超过 1.15 万亿元，预计全年可减轻市场经营主体尤其是企业负担超 1.8 万亿元。“减税降费及退税缓费”旨在

- ①优化财政支出结构，提高资金使用效率
- ②激发市场主体活力，稳住宏观经济大盘
- ③助力企业纾困解难，扩大税基涵养税源
- ④全面优化营商环境，减少制度性交易成本

- A. ①② B. ①④ C. ②③ D. ③④

18. 非法改装以及使用劣质锂电池是引发电动自行车安全事故的主要原因。2022年,国家消防救援局共接报电动自行车(电动助力车)火灾1.8万起,其中因电动自行车充电电池故障引发的火灾3242起。为减少电动自行车电池安全事故,政府应该
- ①严格按照国家标准生产、组装、流通电动自行车锂电池
②充分发挥市场决定作用,筑牢电动自行车质量安全底线
③不断完善企业产品准入制度,严厉打击假冒伪劣锂电池
④加强锂电使用安全宣传教育,倡导拒绝使用非法改装产品
- A. ①② B. ①③ C. ②④ D. ③④
19. 尽管国货美妆逐渐在海外“出圈”,但从全球市场看,国际品牌在品牌效应和市场份额上仍占据绝对优势。面对激烈的国际竞争,国货美妆企业如何利用跨境电商渠道走向国际市场,下列推导正确的是
- ①拓展潜在国际市场 ②参加国际电商活动
③提高企业品牌国际知名度 ④完善跨境电商产业生态
- A. ①—③—④ B. ④—②—① C. ①—②—③ D. ②—③—①
20. 备案审查是指文件制定机关在文件颁布后,在法定期限内报人大常委会备案,并由人大常委会依照法定程序进行监督审查的活动。2023年,各级人大常委会将进一步做好备案审查的研究、处理和反馈工作,畅通民意表达渠道,提升民主含量质量。人大常委会依法加强备案审查工作说明
- ①备案审查是人大常委会的最主要职责 ②全过程人民民主有丰富实践形式
③法治手段是解决涉民问题的重要方式 ④人民民主是全体公民共享的民主
- A. ①④ B. ①③ C. ②③ D. ②④
21. 为贯彻落实《中华人民共和国噪声污染防治法》,省生态环境厅起草了《四川省噪声污染防治条例(征求意见稿)》并向社会广泛征求意见,相关单位和个人的意见建议均可通过电子邮件或书面形式反馈。系列举措
- ①体现了依法治国和人民当家作主的统一 ②保障了公民决策权利,推进噪声污染治理
③推动了公民通过民主决策参与污染治理 ④履行了公民法定义务,提高污染治理质效
- A. ①③ B. ①④ C. ②③ D. ②④
22. 2023年四川省人民政府将新建、改建1万个普惠性托位列入全省30件民生实事,加大3岁以下婴幼儿托育服务保障力度。政府强化托育服务能力建设有利于
- A. 保障幼儿各项权益,满足人民所需 B. 扩大托育服务供给,推进幼有所育
C. 增加政府职能权限,建设服务政府 D. 推动托育服务转型,塑造政府形象
23. 2023年8月17日,上海首个“政务公开观察站”授牌仪式在上海市虹口区白玉兰广场举行。虹口区设立政务公开观察站
- ①更好保障公民知情权、表达权、监督权 ②便于公民监督政府,维护基本民主权利

③有利于改进工作作风，提高政府公信力 ④防止行政权力滥用，杜绝政府工作失误

A. ①② B. ①③ C. ②④ D. ③④

24. 春秋时期，许多人观察国家命运以至个人祸福，都着眼于是否守礼。齐大夫仲孙湫说：“鲁不弃礼，未可动也。”单成公与韩宣子相会时“视下言徐”，举止稍微不合礼仪规定，叔向就推断说：“单子其将死乎！”这类现象的出现是因为
- A. 儒家主流思想影响较大 B. 礼乐文明得到了完整保存
- C. 社会动荡需要重整秩序 D. 社会转型推动了礼治进步
25. 汉朝有许多因擅长文章辞赋而被录用在朝廷任职的士人，如武帝朝的司马相如、东方朔、枚皋，宣帝朝的王褒，成帝朝的扬雄等。这表明两汉
- A. 察举制重视文学素养 B. 文学发展渐趋成熟
- C. 开辟了新的选官方式 D. 文官选拔途径多元
26. 宋代，中央曾多次派人到各地测绘地图，编制地理档案，并要求各地每闰年一造府州县地图呈送朝廷；同时还严格设置了呈送档案的规制内容，包含所在地区的领土面积、郡邑数量、道路物产、历史风俗等。宋代地理档案的编制
- A. 体现了政府对边疆的重视 B. 有助于提升政府治理能力
- C. 维护了社会的稳定与繁荣 D. 缓解了中央和地方的矛盾
27. 明清时期，山西票号在选择伙计时，确定了“用乡不用亲”的原则，一般只聘用同乡人，并且要由当地有身份的乡绅或资质丰厚的商铺进行担保，担保人要对被保人负连带责任。这一举措
- A. 增强了票号的社会信誉 B. 促进了商帮的形成发展
- C. 强化了儒家的伦理观念 D. 不利于商品经济的发展
28. 下表是《中国近代经济史统计资料选辑》关于 1871 年—1893 年间中国部分商品的出口统计，该表反映出这一时期

时间	出口商品的种类和数量			
	茶叶	蚕丝	大豆	棉花
1871—1873	1022159 公担	37529 公担	57506 公担	8486 公担
1891—1893	1055064 公担	59946 公担	760522 公担	290417 公担

- A. 对外贸易呈现出超趋向 B. 中国与世界市场的联系紧密
- C. 传统自然经济开始解体 D. 民族资本主义得到初步发展
29. 1898 年 3 月初，康有为向光绪帝进呈了他编纂的《日本变政记》，此书按时间先后叙述了 1868—1890 年日本在政治、经济、军事、外交等多方面的历史事件，同时在列举日本变政事迹时，又用按语评考了其意义和可取之处。康有为进呈此书旨在
- A. 开拓普通民众的视野 B. 倡导清廷向日本学习
- C. 唤醒国人的救亡意识 D. 促成维新变法的开展

30. 1921年，北京工人在“五一”劳动纪念日举行了公开游行示威，工人们发表了号召性的演说，1500名工人组成的游行队伍举着写有重要标语的旗帜，唱着革命歌曲，喊着“增加工资，缩短工时”的口号沿街行进。这反映出当时

- A. 马克思主义得到有效传播
B. 国民革命运动迎来了高潮
C. 中共的组织领导能力强大
D. 工人的政治目标十分明确

31. 右图是大连市图书馆内收藏的中国近代影像资料——1933年川陕省苏维埃政府工农银行发行的货币图片，该货币的发行反映了



- A. 中央红军在四川建立了根据地
B. 中共探索出了正确的革命道路
C. 四川革命形势得到了较大发展
D. 经济建设是党中央的工作中心

32. 新中国成立之初，许多城市居民怀有“亲美”“崇美”“恐美”思想，为此政府果断的驱逐从事反华活动的宗教人士，接办美国津贴的学校，取缔收听“美国之音”，阻禁美国电影，同时还加大对苏联电影的介绍和引入。这些措施

- A. 消除了美国文化在华的影响
B. 构建了社会主义核心价值观
C. 彰显了社会主义改造的力量
D. 巩固了新生的人民民主政权

33. 1981—1985年，浙江民营中小企业快速发展，这些企业大多是从家庭作坊和“前店后厂”的小企业开始，逐步形成了以专业化市场为依托的企业集群。1985年，浙江已有26.4万户农民个体企业和农民联户企业。浙江的大好经济形势主要得益于

- A. 城市经济体制的改革
B. 经济政策的适时调整
C. 现代企业制度的建立
D. 市场经济体制的建立

34. 有学者指出：先秦时期的政治说服模式是一种“谏诤模式”，是一种“下对上”“一对一”的人际传播模式，它偏倚于文字表达；同时期的希腊则是一种“演说模式”，是一种公开的、“一对多”的大众化传播模式，它偏倚于口头传播。两种政治说服模式的差异主要基于

- A. 地理环境上的分野
B. 经济发展水平的差异
C. 社会形态上的不同
D. 民众人文素养的高低

35. 公元前3世纪后，罗马逐渐成了多个民族和国家进行交易的市场，原有城市狭隘的公民观念逐渐遭到破坏，罗马公民本身也逐渐被改造为有世界观念的“世界公民”，于是万民法便逐步产生了。由此可见万民法的产生

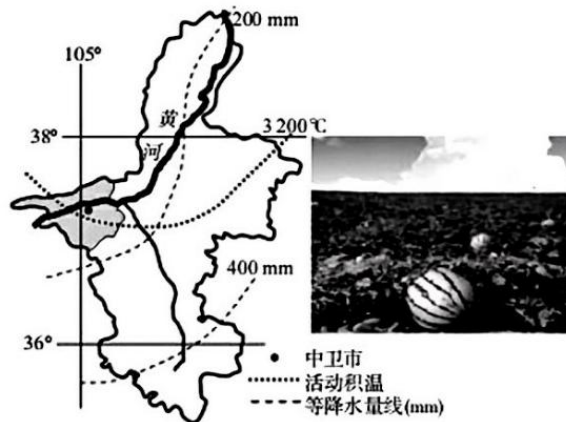
- A. 源于境内各族权力意识增强
B. 缓和了罗马境内的阶级矛盾
C. 彰显了罗马法的普适性原则
D. 巩固了罗马的军事独裁统治

二、非选择题：包括必考题和选考题两部分。第 36~42 题为必考题，每个试题考生都必须作答。第 43~47 题为选考题，考生根据需求作答。

(一) 必考题：共 135 分

36. 根据图文材料，完成下列要求。(22 分)

压砂是西北地区独创的旱作模式，是在裸露的沙地上人为铺上一层 10~15 厘米厚的碎石砂砾(富含矿物质)以提高土地生产力的农业生产技术。宁夏中卫市沙坡头区采用压砂技术生产的硒砂瓜在不施肥、不使用农药的情况下，种植的西瓜个头大，汁水多，糖度高，富含多种微量元素。虽然硒砂瓜为当地创收不少，但多年大规模的种植，导致当地生态环境严重恶化，西瓜的口感也严重下降。2021 年 6 月，宁夏中卫市政府提出“坚决有序退出压砂地种植，依法保护修复生态环境，促进生态绿色持续发展”。下图为宁夏积温和降水量分布图。



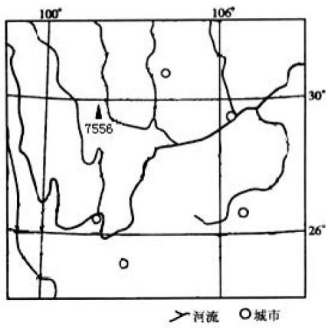
(1) 从压砂技术角度出发，分析中卫硒砂瓜品质优异的原因。(8 分)

(2) 分析宁夏大规模持续压砂种植西瓜对生态环境带来的负面影响。(6 分)

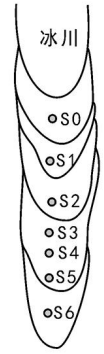
(3) 请为宁夏中卫的区域可持续发展提出建议。(8 分)

37. 阅读图文材料，完成下列要求。(24 分)

横断山脉最高峰贡嘎山海拔为 7556 米(位置见下图左)，其东坡海螺沟是中国唯一的冰川森林公园，沟内拥有低纬度地带海拔最低的冰川和世界第二大冰瀑布(冰川流动在陡坡段呈坠落或滑落状态)，冰川下限的海拔约 2850 米。极地或高山冰川退缩区形成的冰川裸地是研究植被原生演替的理想场所。海螺沟冰川退缩区在长达 2km 的范围内形成了一个具有完整植被原生演替序列的区域。下图中为贡嘎山远眺景观图。下图右为 2017 年绘制的海螺沟冰川退缩区不同原生演替阶段样地植被特征图。



样地	退缩时间	现今主要树种组成
S0	2015年	—(裸地)
S1	1998年	川滇柳、冬瓜杨、沙棘幼树
S2	1980年	冬瓜杨、川滇柳、沙棘小树、云冷杉幼苗
S3	1966年	冬瓜杨、川滇柳、沙棘中树、大树、云冷杉幼树、小树
S4	1958年	冬瓜杨大树、云冷杉小树、中树
S5	1930年	云冷杉中树、大树、冬瓜杨大树
S6	1890年	云冷杉顶级群落



(1) 贡嘎山具有“鹤立鸡群的身姿，金字塔般的山顶”，描述其形成过程。(6分)

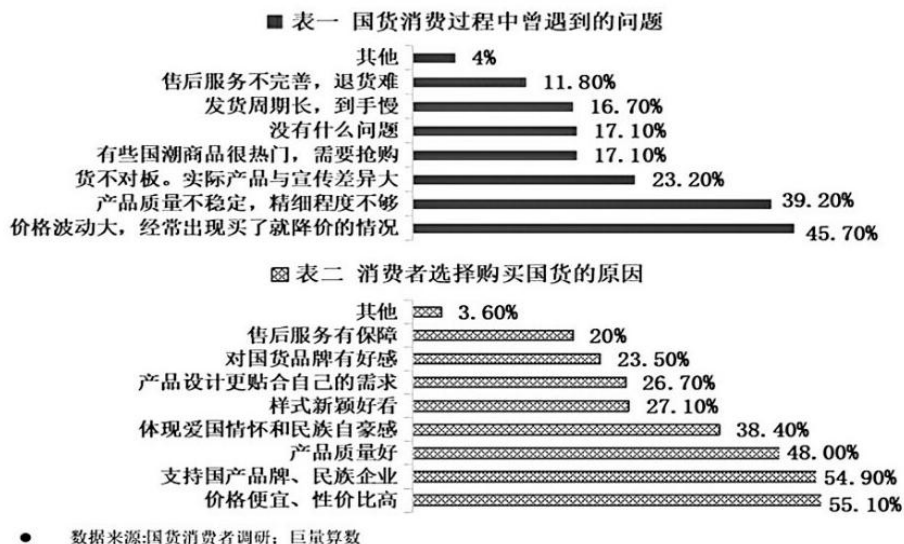
(2) 分析海螺沟冰川与森林共存的主要原因。(6分)

(3) 据材料指出海螺沟冰川退缩区最具种间竞争力的树种，并说出你的理由。(6分)

(4) 说出海螺沟冰川退缩的原因，并推测未来 S0 地气温和空气湿度的变化趋势。(6分)

38. 阅读材料，完成下列要求。(14分)

材料一 国货消费者调研数据表



材料二 面对传统品牌市场竞争加剧，大品类消费品细分品类缺少强势品牌等现实困境，新消费时代国货品牌应该在新市场定位、新产品创新、新渠道打造、新消费群体选择等方面多下功夫，通过新品研发和技术创新，细分品类拓展新晋品牌发展空间，打造集群品牌知名度，从消费需求入手打出“大爆款”，构建消费者对国货品牌新认知。

结合材料，运用经济生活知识，解读国货消费者调研数据蕴含的经济信息，(6分)并说明在新消费时代国货品牌如何助推品类升级提高市场竞争力(8分)。

39. 阅读材料，完成下列要求。（12分）

2023年9月5日，据某网站报道，经过数十年发展，中国数字经济取得了令人瞩目的成就，数字经济总量稳居全球第二，为促进中国经济高质量发展发挥了重要支撑作用。

目前，我国持续推动适度超前数字基础设施建设，已建成全球规模最大、技术领先的网络基础设施。数字经济核心技术攻关进一步加强，数字技术加大在农业、工业和服务业等各领域的渗透和应用，成为产业转型升级的重要驱动力。同时，政府在保障网络安全、完善治理体系等方面持续发力，维护了良好数字营商环境，数字经济发展的市场活力不断增强。另外，中国与“一带一路”沿线国家广泛开展数字服务贸易合作，以务实举措积极构建数字合作新格局。

结合材料，运用经济生活知识，简要分析数字经济对中国经济高质量发展的支撑作用。（12分）

40. 加强乡村建设，既需要推进乡村建设体制机制创新，也离不开基层“放管服”改革加持。阅读材料，完成下列要求。（26分）

材料一：中共中央办公厅、国务院办公厅印发的《乡村建设行动实施方案》强调，乡村建设是实施乡村振兴战略的重要任务，也是国家现代化建设的重要内容。

加强乡村建设，必须通过完善村民参与乡村建设程序和方法推进乡村建设机制创新，依托村民会议、村民代表会议等，引导村民全程参与，共同缔造幸福生活。在项目谋划环节，组织村民议事，保障村民参与决策。在项目建设环节，鼓励村民投工投劳，吸纳更多农村低收入群体就地就近就业。在项目管护环节，推行“门前三包”，以村民自管方式维护美好环境。

材料二：山东省临沂市兰陵县按照“能放则放、权责一致、重心下移、减少层级”原则，将高频民生事项下沉乡镇，构建县乡一体审批服务机制，不断将“县乡同权”改革推向深入。乡镇便民服务中心作为承接主体，积极落实承接机构和人员，加强承接能力建设，推动群众办事“就近办理”“一次办好”，充分满足群众“就近办”需求。通过数据赋能，在县乡两级政务服务大厅设置事项综合受理窗口，实现分领域无差别“一窗受理”，不断提升群众“掌上办”体验感。

推广该县“放管服”改革的典型经验，有助于推动形成全社会关注改革、参与改革的良好氛围。

(1)完善村民参与乡村建设机制是创新乡村建设推进机制的重要组成部分，是共同缔造幸福生活的重要抓手。结合材料一，运用民主管理相关知识加以说明。（12分）

(2)结合材料二，运用政府相关知识，分析“县乡同权”改革值得推广的原因。（10分）

(3)乡村建设是实施乡村振兴战略的重要任务，也是国家现代化建设的重要内容。请你就如何加强乡村建设提两条政策性建议。（4分）

41. 阅读材料，完成下列要求。（25分）

材料一 江南制造总局一开始便聘用美国人科而担任全局总管，洋匠七人担任各工厂的主管，他们是生产技术上的实际当家人。后来又聘用英国人担任全局工程事务顾问，各分厂厂长。洋匠当家

的情况，直到1903年也仍然照旧。该局添用的机器设备，大部分向外国购买，从1867至1904年间，向外国购置机器的费用，共达规银2,003,645两。英国是该局机器设备和原材料的主要供应者，该局实际上成了英国阿姆斯特朗军械厂的附属，在英国人心中，也确实把它看作是自己的势力范围。该局的船厂和福州船政局的轮船技术逐步提高的过程中，李鸿章奏请停止造船，转而向外国大量购置轮船，经办官员从中收受大量回扣。

——摘编自黄逸峰、姜铎《论洋务运动引进西方近代技术的经验教训》

材料二 1953年6月，我国政府与原苏联政府签订了海军订货协定(简称“六四协定”)，通过“转让制造”方式引进了苏联军用舰艇制造技术，建造了一批当时来看较为先进的战斗舰艇，由此开启了我国船舶工业的现代化奠基发展之路。在“转让制造”这一过程中，我国对当时江南、沪东、求新、芜湖、武昌、广州等船厂进行了技术改造，新建了船用高中速柴油机，仪器仪表，特辅机，水声设备，水中兵器等一批关键配套厂。在这批新建配套厂中，有6个属于苏联成套技术援助的156项国家重点建设项目。在造船技术方面，焊接普遍替代了传统的铆接工艺，船体分段和总段建造法取代了整船散装法，船舶工艺流程改进，机械化程度提高，造船周期缩短，造船质量有了保证。到1959年，116艘军用舰艇基本完工，其战斗性能相当于国际上20世纪40年代末50年代初的水平，连同其他军用船舶，10年内我国船舶工业共生产军船484艘(中国船舶工业总公司办公厅政策研究室，1994)。这一时期，船舶科学研究所、上海船舶工业学校和造船学院等船舶科研设计机构和学校从无到有创建起来，在一些大学还设置了造船系科。苏联曾多次派专家前来指导、协助，我国也选派了近100名干部工人赴苏联学习，通过请进来、走出去和边干边学的办法，我国船舶技术管理干部和工人队伍也逐步壮大起来。

——摘编自胡文龙《中国船舶工业70年：历程、成就及启示》

(1)根据材料一，概括列强操控江南制造总局的措施，并结合所学知识说明列强能操控该企业的原因。(12分)

(2)根据材料并结合所学知识，指出与晚清相比，新中国船舶工业初创的特点。(8分)

(3)根据材料并结合所学知识，谈谈你对中国船舶工业发展的认识。(5分)

42. 阅读材料，完成下列要求。(12分)

材料 2005年，对出版界具有震撼力的出版物恐怕首推《话说中国》了，同年5月，中央电视台对该丛书进行了特别报道和评论。该书的宗旨是将“历史还给人民”，从形式和内容上体现了历史与现代的对接，在策划模式上标志着我国出版业的一次划时代的变革。下图是该丛书的分卷目录。

第一卷	原始社会、夏商：创世在东方
第二卷	西周：诗经里的世界
第三卷	春秋：春秋巨人
第四卷	战国：列国争雄
第五卷	秦西汉：大风一曲振河山
第六卷	东汉：漫漫中兴路
第七卷	三国西晋：群英荟萃
第八卷	东晋南北朝：空前的融合
第九卷	隋唐：大唐气象
第十卷	唐五代十国：变幻中的乾坤
第十一卷	宋：文采与悲怆的交响
第十二卷	辽西夏金元：金戈铁马
第十三卷	明：集权与裂变
第十四卷	清一：落日余晖
第十五卷	清二：枪炮轰鸣下的尊严
第十六卷	总索引

根据材料并结合所学知识，任选一个分卷目录，对其进行阐释。（要求：史实准确，史论结合，逻辑清晰）

43. 【地理—选修 3:旅游地理】（10分）

旅游露营是指在旅游过程中，利用帐篷、睡袋、房车等户外装备进行户外过夜，达到享受自然和户外休闲体验的娱乐活动。随着我国经济的高速发展和家庭汽车的普及，大量的露营基地应运而生，让露营与旅游融合，形成了一个创意旅游产业。

露营基地建设中选择址尤为重要，请你从游客体验的角度为其提出合理的建议。（10分）

44. 【地理——选修 6:环境保护】（10分）

农村饮水安全是乡村振兴重点关注问题，由于天然来水与用水需求过程不匹配，我国部分农村地区缺水严重，极端干旱期保障生活用水安全仍面临困难。我国农村饮用水中有害物质含量超标的人数有 1.9 亿多人，部分地区农民饮用高氟水、高砷水、苦咸水，致骨骼变形乃至瘫痪，皮肤病、癌症、智力低下等地方病的问题十分突出。

说出我国农村饮水安全面临的主要问题，并提出相应解决措施。（10分）

45. 【历史——选修 1:历史上重大改革回眸】阅读材料，完成下列要求。（15分）

材料 清末，邮政事业受制于海关，因而相形杂乱，发展缓慢。光绪三十四年邮传部与邮政总办帛黎筹议改良邮政事宜，“其内容在扩张于邮路谋委派信之普及，并加增送函次数，以期灵便。尚拟创订各省邮部章程，分三等；一等邮局长由部奏派，二等邮局长由各省督抚调用，三等邮局长由地方官采担保金方法用之管理邮政。”宣统二年邮传部设法从海关税务司收回邮政接管，邮政区域亦改以行政区域为标准，总计邮界十四，副邮界三十六，共为五十区。对各地邮政中存在的积弊，邮传部厉行整顿。为了保护地方邮务的发展，还咨文各地方官员“切实保护”，并制订了“地方官保护邮政办法”十条。晚清地方邮政发展很不均衡，邮传部对边疆邮政向来持积极发展态度。宣统元年三月，新疆巡抚电请展设甘肃凉州以西至新疆迪化一带邮局，邮传部“徇其请”。宣统元年十一月，邮传部将加入万国邮政同盟列入计划，1914年中国终于加入。

——摘编自苏全有《邮传部与清末邮政事业的近代化》

(1) 根据材料并结合所学知识，指出清末邮政事业发展的表现。(8分)

(2) 根据材料并结合所学知识，简析清末邮政改革的作用。(7分)

46. 【历史——选修3：20世纪的战争与和平】阅读材料，完成下列要求。(15分)

材料 1950年2月27日，格里芬考察团离美。至4月22日，他访问了印度支那(中南半岛地区)、新加坡和马来亚、缅甸、泰国及印度尼西亚，根据这些国家的政治、经济和财政状况，提出援助建议。援助重点为“立竿见影”的项目，首先为农、林、渔、整治耕地、垦荒和水利领域，其次是动力、运输、公路、通信、工业和发展计划，再次是公共卫生、医疗，最后是教育。援助总额约6600万美元；其中，印度支那2350万，马来亚和新加坡450万，缅甸1222.8万，泰国1142万，印度尼西亚1444.5万。格里芬考察团推动了美国政府对东南亚国家的援助。1950年6月5日，美国国会通过了《1950年对外经济援助法案》，经总统批准生效。
——摘编自刘连芬《论杜鲁门时期的美国东南亚政策》

(1) 根据材料并结合所学知识，分析美国匆忙通过《1950年对外经济援助法案》的原因。(8分)

(2) 根据材料并结合所学知识，评价20世纪50年代初美国的东南亚政策。(7分)

47. 【历史——选修4：中外历史人物评说】阅读材料，完成下列要求。(15分)

材料 洪亮吉(1746—1809)，今江苏常州人，诗人、学者，精通考据学、经学、史学、舆地学和人口学等。他反对信天命、讲鬼神，提出为学要“推本述原，实事求是”。他认为，天地万物是客观存在，万物自生自灭，既不以人欲而存，也不以人欲而灭。乾嘉时期，阶级矛盾尖锐，农民起义频繁，洪亮吉不甘沉默，倡言变革。1799年，他提出改革地方和中央的行政制度，改革官吏选拔和考试办法，打击贪官污吏，但他的建议不仅没被采纳，反被革职流放新疆。他不怕打击，写了不少文章探讨解决危机的办法。他认为农民起义是腐朽的官吏逼出来的。他揭露当时“田与屋之数，常处其不足；而户与口之数，常处其有余”，且地方官绅又肆意兼并，“一人而据百人之屋，一户而占百户之田”。面对人口暴增带来的社会问题，他建议开垦荒地，减轻赋税，抑制兼并，禁止浮靡，推广社会救济。洪亮吉的言论反映了客观实际，具有经世致用的典型性。

——摘编自李喜所《鸦片战争前的今文经学与经世致用思潮》

(1) 根据材料并结合所学知识，分析洪亮吉经世致用思想产生的原因。(4分)并概括指出洪亮吉经世致用思想的内容。(4分)

(2) 根据材料并结合所学知识，评析洪亮吉的经世致用思想。(7分)