

# 宜宾市普通高中 2021 级第一次诊断性测试

## 文科综合能力测试

本试卷共 12 页，45 题，全卷满分 300 分。考试时间 150 分钟。

### 注意事项：

1. 答题前，考生务必将自己的姓名、考生号等填写在答题卡和试卷指定位置上。
2. 回答选择题时，选出每小题答案后，用 2B 铅笔把答题卡上对应题目的答案标号涂黑。如需改动，用橡皮擦干净后，再选涂其他答案标号。回答非选择题时，将答案写在答题卡上，写在本试卷上无效。
3. 考试结束后，请将答题卡交回。

一、选择题：本题共 35 道小题，每小题 4 分，共 140 分。在每小题给出的四个选项中，只有一项是符合题目要求的。

可可树原产于赤道附近的热带雨林地区，喜高温、忌大风，幼树怕强光。19 世纪，马达加斯加引种可可树，目前已培育出多个优良品种，成为全球著名的可可豆产地。该国可可种植园多采用可可树与果树、阔叶树混种模式。图 1 示意马达加斯加位置。据此完成 1~2 题。

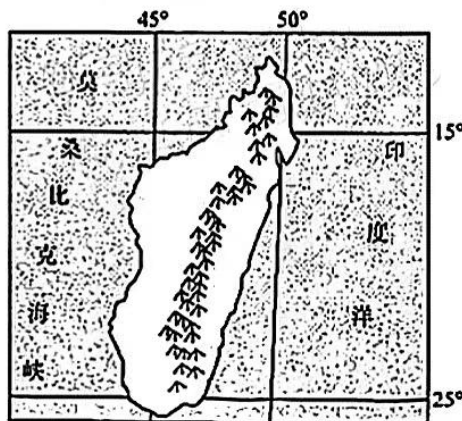


图 1

1. 推测马达加斯加可可种植园主要分布在该国的  
A. 东北部                      B. 西北部                      C. 东南部                      D. 西南部
2. 种植园中可可树与果树、阔叶树混种的主要目的是  
①提高可可豆品质    ②提高复种指数    ③降低劳动力成本    ④增加园区收入  
A. ①②                      B. ②③                      C. ③④                      D. ①④

加拿大蒙特利尔地下城是全球最大、最繁华的地下“大都会”，提供的服务包括购物中心、旅馆、办公、银行等。其始建于 1962 年，经过不断的扩展和完善，现已形成总长度约 32 公里、总面积达 400 万平方米的地下商业街，日客流量高达 50 万人次。气候是影响地下城修建的重要因素。图 2 示意蒙特利尔市位置，图 3 示意地下城位置。据此完成 3~5 题。

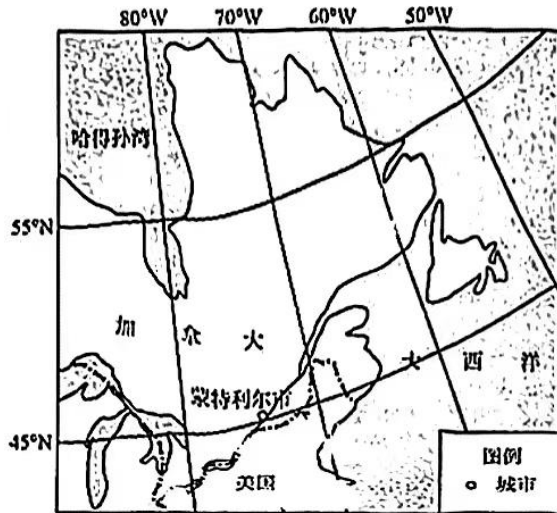


图 2



图 3

3. 影响蒙特利尔地下城修建的主要气候条件是蒙特利尔市
- A. 太阳辐射强      B. 飓风强度大      C. 气温年较差大      D. 年降水量小
4. 地铁修建对蒙特利尔地下城发展的主要作用是
- A. 提升消费水平      B. 提高服务等级  
C. 便于商品集散      D. 扩大服务范围
5. 地下城修建对蒙特利尔市产生的效益主要有
- ①提高土地利用效率    ②提高城市大气质量    ③提高地铁修建技术    ④提高城市工业产值
- A. ①②      B. ②③      C. ③④      D. ①④

鼎湖山国家级自然保护区位于广东省，属于亚热带季风气候区，区内植物丰富。为了解植物多样性在植物群落演替中的变化规律，科学家选取了保护区内三个不同演替阶段的常绿阔叶林、马尾松林（人工林）和针阔叶混交林进行研究。研究表明，在自然状况下，其演替方向是马尾松林—针阔叶混交林—常绿阔叶林，森林的物种丰富度由物种的迁入和物种的灭绝两个过程决定。表 1 为三个森林群落的统计数据。据此完成 6~8 题。

表 1

林型	海拔 (m)	坡向	植物种数 (种)	植物个体数 (棵/100m <sup>2</sup> )		
				乔木	灌木	草本
常绿阔叶林	230~350	西北	152	23.6	173.6	110
针阔叶混交林	100~200	西南	77	19.8	283.2	265
马尾松林	50~150	东南	49	10.8	163.2	365

6. 该自然保护区的天然林属于
- A. 针阔叶混交林      B. 常绿阔叶林      C. 针叶林      D. 落叶阔叶林
7. 森林群落演替的过程中
- A. 物种多样性先增后降      B. 灭绝的物种多于迁入的物种  
C. 乔木的优势不断增加      D. 草本植物的个体数不断增加
8. 推测该保护区内植物群落演替现象产生的主要原因是
- A. 气候变化      B. 人类活动      C. 地貌变化      D. 生物入侵

抚仙湖位于云南省滇中盆地中心，是我国最大的深水型淡水湖。该湖通过海口河泄水，注入南盘江。受湖泊水位和人为调控的影响，海口河下泄水量变化很大。图4示意抚仙湖近30年湖泊补给量、湖面蒸发量和湖泊蓄水变量变化过程。据此完成9~11题。

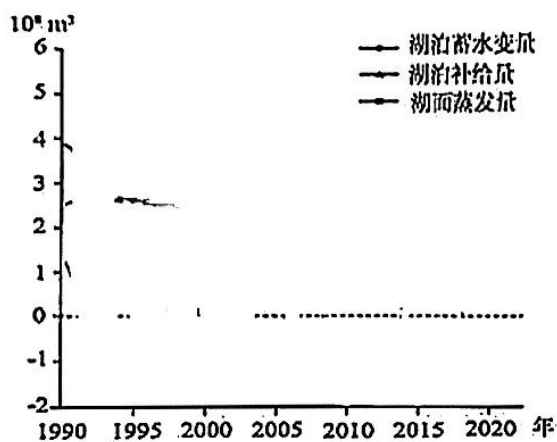


图4

9. 图示时间段抚仙湖水位最高的年份是  
 A. 1994年                      B. 2001年                      C. 2008年                      D. 2018年
10. 影响抚仙湖蓄水量变化的主要因素是  
 A. 湖面蒸发                      B. 湖水下渗                      C. 人为调控                      D. 降水补给
11. 根据抚仙湖下泄水量的变化，推测2010年以来南盘江可能  
 A. 水量减少                      B. 含沙量降低                      C. 水质改善                      D. 流速加快
12. 菲利普斯曲线体现的是失业率和通货膨胀率之间的变动关系。如图5，若菲利普斯曲线由A向B移动，对其原因的推导正确的是

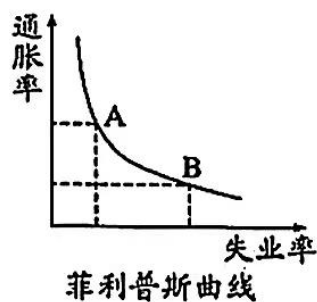


图5

- ①产能过剩，产品积压  
 ②社会总需求持续下降  
 ③企业营利空间收缩  
 ④企业缩小生产规模  
 ⑤裁员和减少吸收劳动力  
 ⑥社会总需求不断增长
- A. ⑥-①-④-③-⑤  
 B. ②-①-③-④-⑤  
 C. ⑤-①-③-④-②  
 D. ②-③-④-①-⑤
13. “双碳目标”是我国为应对全球气候变暖而率先提出的碳达峰和碳中和目标：二氧化碳排放力争2030年前达到峰值后不再增长；力争2060年前通过植树、节能减排等各种方式，实现二氧化碳“零排放”。要如期实现“双碳”目标，我国需
- ①优化能源结构，发展绿色能源产业  
 ②开展国土绿化行动，提高生态系统碳汇能力  
 ③增强政府主体作用，推动经济高质量发展  
 ④深化供给侧结构性改革，发展先进制造业
- A. ①②                      B. ①④                      C. ②③                      D. ③④

14. 2023 年政府工作报告明确提出：“要促进民营企业健康发展，破除各种隐性壁垒，一视同仁给予政策支持，提振民间投资信心。”这有力地驳斥了社会上各种否定民营经济的奇谈怪论，宣示了党和政府大力促进民营经济发展壮大的坚定决心。促进民营经济发展
- ①有利于提升民营企业的市场主体地位
  - ②有利于激发民营企业创新、创造活力
  - ③可采取提高民营企业增值税起征点的方式
  - ④可采取提高民营企业养老保险费率的方式
- A. ①③      B. ①④      C. ②③      D. ②④
15. 消费是生产的目的和动力。三年疫情后，国内消费亟需恢复和增长，为此，国家发改委发布了关于恢复和扩大消费 20 条措施，为国内经济恢复性增长带来利好。下列扩大消费的措施与预期目的对应正确的是
- ①各地不得新增汽车限购措施——节约资源和保护环境
  - ②支持刚性和改善性住房需求——刺激房地产市场持续繁荣
  - ③推进供给端技术创新和电子产品升级换代——推动电子产品消费
  - ④完善农村电子商务和快递物流配送体系——促进农村消费市场发展
- A. ①②      B. ①③      C. ②④      D. ③④
16. 第三届一带一路高峰论坛近日在北京举行。此次论坛吸引了 150 多个国家的领导人和代表参会，高峰论坛期间形成了 458 项成果。各方期待继续加强合作，推动共建“一带一路”进入高质量发展的新阶段。这就需要“一带一路”沿线国家
- ①坚持互利共赢理念，推动更加普惠韧性的全球发展
  - ②坚定维护多边贸易体制，推动建设开放型世界经济
  - ③深化全球领域交流合作，主导国际贸易的持续繁荣
  - ④遵循国际市场规则原则，消除贸易歧视和贸易摩擦
- A. ①②      B. ①③      C. ②④      D. ③④
17. 个人养老金制度是我国社会保障体系建设顶层设计的一个重要制度安排。自 2023 年起，个人所得税综合所得年度汇算新增个人养老金抵扣项，在缴费环节个人向个人养老金资金账户的缴费按照 12000 元/年的限额标准，在综合所得或经营所得中据实扣除。这一举措有利于
- ①切实减轻个人所得税负担
  - ②构筑应对老龄化的最后一道防线
  - ③充分发挥商业保险规避风险的功能
  - ④完善多层次多支柱养老保险体制
- A. ①②      B. ①④      C. ②③      D. ③④
18. 近年来，中国直播电商行业市场规模持续扩大，已成为商家推广产品、消费者接触品牌的重要途径。2023 年 10 月，人民日报刊文指出，当前直播电商与中国品牌正在进入高质量交融发展新阶段。直播电商良性发展的积极意义是
- ①助力国货品牌发展，促进供应链效率提升
  - ②培养直播带货明星，实现产品价值的提升
  - ③推动线上线下融合，拓宽销售和消费渠道
  - ④巩固头部电商地位，成就流量经济的繁荣
- A. ①②      B. ①③      C. ②④      D. ③④

19. 近年来, 山东法院坚持诉源治理, 主动融入“党委领导、政府负责、社会协同、公众参与、法治保障”的社会治理大格局, 积极参与山东省一站式矛盾纠纷多元化解机制建设, 促进矛盾纠纷止于未发。由此可见
- ①转变政府职能是化解矛盾的重要条件  
 ②法院公正司法能促进社会公平正义  
 ③多元共治方能形成治理合力, 提高治理效能  
 ④化解矛盾纠纷需要积极创新社会治理机制
- A. ①②      B. ①③      C. ②④      D. ③④
20. 金融是国民经济的血脉。近期中央金融工作会议强调: 要坚持党对金融工作的统一领导; 全面加强金融监管, 防范化解风险, 推动我国金融高质量发展, 建设金融强国。为此, 需要
- ①政府营造良好的金融环境, 为金融提供优质服务  
 ②各级党委健全组织保障体系, 开创金融工作新局面  
 ③人大代表全面加强金融监管, 防范化解金融风险  
 ④政协推进金融领域立法, 为金融发展保驾护航
- A. ①②      B. ①④      C. ②③      D. ②④
21. H市公安局智慧侦查中心在全省率先建成“1+4+N”情报指挥行动合成作战体系, 打造立体化、信息化治安防控模式, 实行中心城区巡处一体化, 做实“1、3、5”分钟快反圈, 最大限度提高街面见警率、管事率。此举是在
- ①推进群防群治, 开创警民巡防共治共管新局面  
 ②增加职能权限, 取得公安机关维稳护安新成果  
 ③创新治安管理模式, 形成整体联动防控新格局  
 ④科技赋能与科学用警, 实现指挥调度扁平高效
- A. ①②      B. ①③      C. ②④      D. ③④
22. 习近平总书记对新疆工作作出重要指示: 要牢牢把握新疆在国家全局中的战略定位, 把依法治疆、团结稳疆、文化润疆、富民兴疆、长期建疆各项工作做深做细做实, 努力打造促进中西部地区高质量发展的示范样板, 构建新疆融入国内国际双循环的重要枢纽。由此可见
- ①实行民族区域自治制度是促进新疆高质量发展的根本举措  
 ②建设中国(新疆)自由贸易试验区必须在法治轨道上进行  
 ③打造中国(新疆)自由贸易试验区是国家发展全局的核心  
 ④新疆要实现高质量发展必须主动服务和融入国家重大战略
- A. ①②      B. ①③      C. ②④      D. ③④
23. 亲望亲好, 邻望邻好。十年来, “中巴经济走廊”“孟中印缅经济走廊”、中柬“钻石六边”合作架构等不断推进, 周边国家搭乘中国发展的快车, 发展振兴之路越走越宽。中国积极践行亲诚惠容理念的行动力得到周边国家广泛认同。可见
- ①中国与周边国家间的关系由竞争走向合作  
 ②亲诚惠容的理念契合周边各国的共同利益  
 ③深化合作使世界多极化趋势得到不断加强  
 ④中国为促进世界和平与发展作出重要贡献
- A. ①②      B. ①③      C. ②④      D. ③④

24. 春秋战国时期，孔子弟子子贡主张“与时转货资”，越国范蠡主张经商应“候时转物，逐什一之利”，魏国大臣白圭主张以“乐观时变”“人弃我取，人取我与”之法经商，均牟取巨额利润。据此可知，当时
- A. 商人社会地位明显提高                      B. 商业经营理念有所发展  
C. 士人阶层普遍从事经商                      D. 经商谋利引领社会思潮
25. 魏晋南北朝时期，魏明帝规定注律只能采汉代儒学家郑玄之说，不能杂用其他解释；晋律也规定“凡为驳议，当合经传”；北朝凡有疑狱，皆付中书以经义量决。这反映了当时
- A. 儒学经义成为法律条文                      B. 儒家正统地位空前强化  
C. 国家律令的儒学化趋向                      D. 社会教化重于法律建设
26. 唐代，世人多以能与世家大族通婚为荣；至宋代，上自宗室高官，下至村氓凡夫，嫁娶无不言财为先，婚姻聘财、嫁妆较之前代，数额更大，“风俗侈靡，日甚一日”。这一变化，说明宋代
- A. 门第观念基本湮灭                              B. 商品经济更加活跃  
C. 社会风气日趋低俗                              D. 社会价值观理学化
27. 清朝雍乾时期，在聚族而居地区，“于族长之外，设立族正，官给印照，责令约束族丁”。族正既不同于族长，又不同于政府官员，具有双重身份，成为政府与宗族之间的媒介。这一制度的推行，旨在
- A. 加强基层社会治理                              B. 强化强宗大族的势能  
C. 革新地方行政区划                              D. 弱化政权族权的结合
28. 据表 2 中有关鸦片战争的三组史料信息可知

表 2

道光帝	“连衅”，“犯上作乱”者是不能长久的。
费正清（美国学者）	认为鸦片战争根本上是北京愿不愿意和英国订立平等国家关系的问题。
陈旭麓（史学家）	对国人来说，这场战争是一块界碑，铭刻着中世纪古老的社会在炮口逼迫下赶往近代的最初一步。

- A. 历史结论受人物视角的影响                      B. 历史评价缺乏客观依据  
C. 历史事件是多种因素的结果                      D. 历史解释反映历史真实
29. 1906 年清政府宣布预备立宪，次年在地方各省筹设咨议局。《咨议局章程》规定，各省咨议局议员由州县选举产生，有决议本省预算、决算、税法、公债等权力，又规定地方督抚对“咨议局之议案有裁夺施行之权”。咨议局的设立，从侧面反映了
- A. 中央地方的权力制衡                              B. 民主政治的首次实践  
C. 立宪派掌握地方实权                              D. 晚清社会的制度转型
30. 图 6 是 1932 年上海综合性刊物《礼拜六》刊登的一则关于中国亚浦耳电器厂的广告。对该广告解读正确的是
- A. 电器产业成为民族工业主导  
B. 借鉴蒸汽时代科技成果  
C. 爱国运动推动民族工业发展  
D. 民族工业得到独立发展



图 6



二、非选择题：本题共 10 道小题，共 160 分。按照要求作答。

36. 阅读图文材料，完成下列要求。（22 分）

“充电难”是制约消费者购买新能源汽车的重要原因，完善充电桩建设是缓解这一问题的重  
要举措。2015 年以来，北京市新能源汽车保有量增长迅速，预计到 2025 年全市累计保有量可达  
200 万辆。充电桩数量将由现在的 29 万个增长到 70 万个。目前五环内商业区附近的公共充电桩  
快充（充电时长半小时左右）占比最高可达 90%。图 8 示意 2019 年北京市部分行政区公共充电  
桩充电需求高峰时段分布。




图 8

- (1) 指出五环内、外公充电桩充电需求高峰的昼夜差异，并从土地利用类型的角度说明原因。（8 分）
- (2) 分析五环内商业区附近的公共充电桩快充占比高的原因。（8 分）
- (3) 说明北京市积极推进充电桩建设对新能源汽车产业发展的意义。（6 分）

37. 阅读图文材料，完成下列要求。（24 分）

地壳运动、水系演化、物源供给等是冲积扇形成和演化的重要影响因素。黄水沟河发源于天山，河流出山口以上流域面积 4311 平方千米。经科学家考察发现，黄水沟河及周边地区发育了独特的“品”字形复合冲积扇。图 9 示意考察区的冲积扇演化过程。



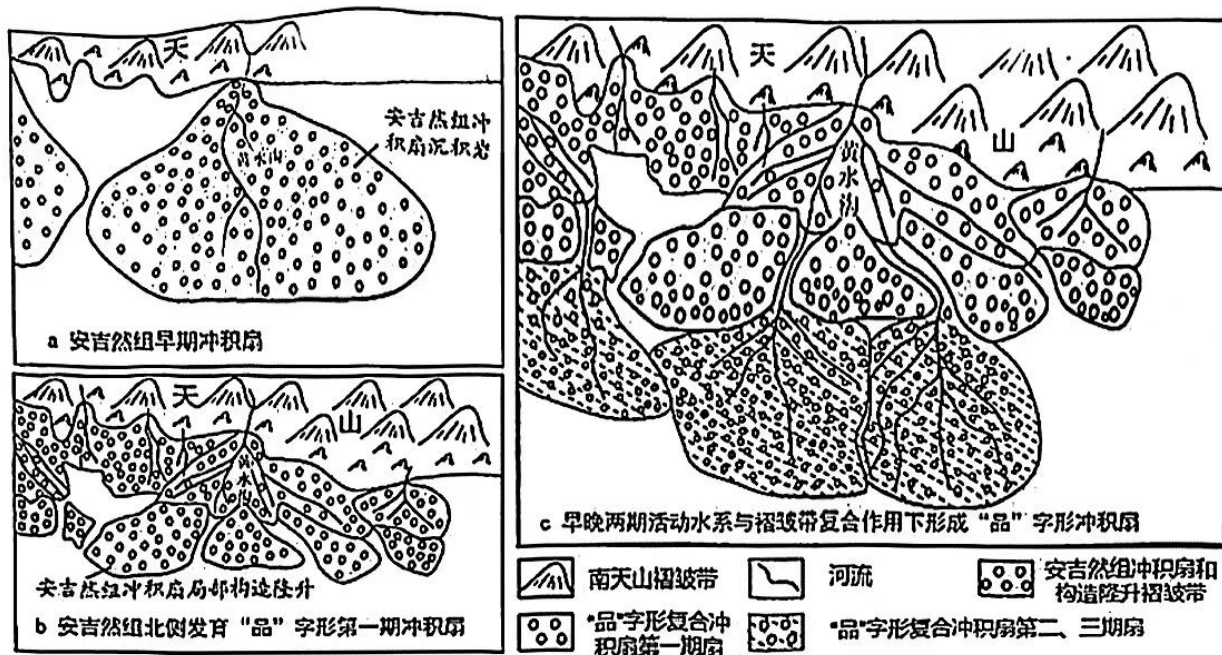


图 9

- (1) 从内、外力角度，描述安吉然组冲积扇沉积岩的形成过程。（8分）
- (2) 推测安吉然组冲积扇局部隆升后形成的地质构造名称，并指出该地质构造的受力方向。（4分）
- (3) 说明安吉然组冲积扇局部隆升对“品”字形第一期冲积扇发育的影响。（6分）
- (4) 与“品”字形第一期冲积扇相比，指出第二、三期冲积扇沉积物的主要特征，并说明其成因。（6分）

38. 阅读材料，完成下列要求。（14分）

近年来，随着全民健身与全民健康深度融合，户外运动逐渐成为人民群众喜闻乐见的运动方式，户外运动产业实现快速发展。一是参与人数持续增加。各类户外运动协会组织、户外运动俱乐部等发展迅速，带动户外运动参与人数不断增加，截至2022年底，全国户外运动参与人数已超过4.5亿人。二是产品供给日益丰富。基本形成了山水陆空全覆盖的户外运动产品供给体系，登山、徒步、马拉松、自行车、滑雪等一大批户外运动项目蓬勃发展，涌现出形式多样的线上线下产品。三是场地设施逐渐完善。滑雪场、山地户外营地以及公园、绿道、健身步道等户外活动场地大幅增长。

2022年11月18日，国家体育总局、文化和旅游部等八部门联合印发的《户外运动产业发展规划（2022—2025年）》明确，要在完善顶层设计、加强统筹协调、优化发展环境、培育市场主体等多个方面发力，推动户外运动产业高质量发展。

结合材料和所学经济知识，分析开展户外运动带来的经济效益和社会效益。

39. 阅读材料，完成下列要求。（12分）

人民调解，是指人民调解委员会通过说服、疏导等方法，促使当事人在平等协商基础上自愿达成调解协议，解决民间纠纷的活动。人民调解组织扎根基层、遍布城乡社区，人民调解员来自群众、熟悉社情民意。与行政调解、司法调解相比，人民调解具有程序便捷、方法灵活、不伤感情、不收费等优势和特点，能够最大限度实现矛盾纠纷及早发现、及时就地且快速有效化解，在矛盾纠纷多元化解机制中发挥着基础性作用。

“远亲不如近邻，楼上楼下要和和气气，说不定以后还要互相帮衬。”人民调解员潘明杰语重心长地叮嘱因楼上住户深夜弹钢琴而引发矛盾的邻居。“凡是能解开的结，就不要用刀割断。”大到五六千万元的遗产纠纷，小到几元钱的消费纠纷以及“争气不争财”的邻里纠纷，潘明杰“解”起来得心应手。人民调解是基层社会治理的重要力量和抓手，发挥着维护社会和谐稳定“第一道防线”的作用。

结合材料和政治生活知识，分析说明人民调解制度在基层社会治理中的制度优势。

40. 阅读材料，回答问题（26分）

民族要复兴，乡村必振兴。

2022年6月，习近平总书记在四川考察时，首站便来到了眉山市东坡区太和镇永丰村。“要加强乡村卫生体系建设，保障好广大农民群众基本医疗。”这是习近平总书记在永丰村考察时，对当地干部的嘱托。总书记强调，要加强现代农业科技推广应用和技术培训，把种粮大户组织起来，积极发展绿色农业、生态农业、高效农业。

近年来，在村支部的带领下，永丰村通过“产学研”攻关和成果转化，研发和示范推广一批具有领先水平的新品种、新技术，实现“千斤粮万元钱”目标；永丰村全面推进农村厕所革命、垃圾革命、污水革命的治理，“白墙黛瓦、水清稻香、美田弥望”的美丽乡村初见雏形，“农村不比城里差”——这是游客来到永丰村给出的评价。“现在村里环境好咧，垃圾有专人清理；生病了就近到村卫生站，药品不贵还能刷医保；家家都建了新房，有现代化厨房、卫生间和24小时热水；乡村文化“活”了起来，村民精神“富”了起来”，提起如今的幸福生活，村民林某赞不绝口。

- （1）实施乡村振兴战略必须始终坚持以人民为中心理念。结合材料，运用政治生活知识进行说明。（10分）
- （2）结合材料，运用经济生活有关知识，分析永丰村是如何实现“新发展”的。（12分）
- （3）全面推进乡村振兴必须坚持党的领导、人民为中心，也需要新时代青年挺膺担当。某校举办主题校会，请你以“我·党·人民”为关键词拟一个发言提纲。要求主题鲜明、条理清晰、简明扼要、联系实际。（4分）

41. 阅读材料，完成下列要求。（25分）

材料一

社会达尔文主义由英国人赫伯特·斯宾塞在19世纪60年代左右提出，认为自然界的优胜劣汰、适者生存原则适用于人类社会。19世纪70年代后，该思想先后传入美、日。美国拥护者认为，政治活动最强者是“生存斗争”的获胜者；经济生活得到幸福和成功，是自由经营者证明他较无能的穷人更“适合”。19世纪后期，美国拥护者还提出大公司兼并小公司是“生存斗争”的一部分，殖民地是强国繁荣和生存所必需的，诸土著民族软弱、低劣，需要优越强大民族的保护和指导。日本拥护者加藤弘之还认为，天赋人权思想不适应时代，获得民权要靠竞争；想获得更多权利，就要积极支持国家参与世界竞争，而战争不过是一种激烈竞争而已。

——摘编自【美】斯塔夫里阿诺斯《全球通史：从史前史到21世纪》

- (1) 根据材料一并结合所学知识，概括19世纪中晚期西方流行的社会达尔文主义的观点，综合分析其影响。（13分）

材料二

鸦片战争后，传统中国温情脉脉的“礼”和以德为本的宇宙观逐渐被颠覆。19世纪末，社会进化论传入中国并逐步影响思想界。深受加藤弘之影响的梁启超认为“世界之中……强者常制弱者……欲自由权者……惟当先自求为强者而已”，这一认识成为激发民族主义和改革意识的启蒙理论。到1918年末，梁启超游历欧洲深受震撼，西方现代文明幻灭的悲观氛围代替了西方进步的乐观，其对进化论的信仰亦随之动摇，提出“国界必当尽破，世界必为大同”，认为民族主义时代虽为现代国家发展的大势所趋，但未来世界将归于万国大同主义时代。晚年梁启超摒弃社会达尔文主义，而复归传统的天下主义。

——摘编自高力克《梁启超社会达尔文主义思想析论》

- (2) 根据材料二并结合所学知识，概括梁启超在不同时期对社会达尔文主义的认识并分析其原因。（12分）

42. 阅读材料，完成下列要求。（12分）

“战略与策略是我们党领导人民改造世界、变革实践、推动历史发展的有力武器。正确运用战略和策略，是我们党创造辉煌历史、成就千秋伟业、战胜各种风险挑战，不断从胜利走向胜利的成功秘诀。”“策略为战略实施提供科学方法……把战略的原则性和策略的灵活性有机结合起来，灵活机动、随机应变、临机决断，在因地制宜、因势而动、顺势而为中把握战略主动。”

——摘自习近平《推进中国式现代化需要处理好若干重大关系》

请结合新民主主义革命时期某一阶段的史实，说明中国共产党为实现该阶段战略目标所采取的灵活策略，实现了战略主动，不断从胜利走向胜利。（要求：明确指出该阶段党的战略目标，持论有据，论证充分，表述清楚，结论合理）

43. 阅读图文材料，完成下列要求。（10分）

人工影响天气主要包括人工增雨、人工减雨等，是目前减少局部自然灾害，以及对重大户外活动实施气象保障的重要手段。其原理是适量的催化剂（如碘化银）可以促进水汽凝结，产生降

水；或过量的催化剂产生高浓度微粒，使水汽冻结成更小的冰晶，从而抑制云和降雨的发展。图10示意南京市某年8月16日18:00~22:00某大型活动期间人工增雨、减雨影响天气作业分布。

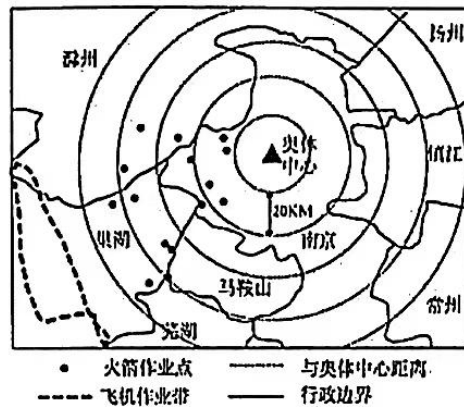


图10

- (1) 描述此次人工影响天气火箭作业点的分布特征。(4分)
- (2) 推测该时段人工影响天气作业区的风向，并简述此次人工影响天气的作业过程。(6分)

44. [历史——选修1：历史上重大改革回眸] (15分)

材料

1570年，张居正获悉蒙古俺答汗之孙来降，指示山西总督王崇古务必了解详情，若俺答汗诚心款贡，可“假以封爵，许其贡市”，但要“坚壁清野，扼险守要以待之”。

次年，朝廷封俺答汗为顺义王，在边境开市，随即在蓟镇、宣府、大同、辽东等地屯田募兵，大力修筑长城及附属设施。对于东北女真各部，张居正认为其依赖互市获得生活生产用品，“准其贡市，以示羁縻”，并限制各部入境，分化制衡即可。万历年间，云南、贵州等地土司构争，朝廷派抚按官调停拟约，要求土官务必“感恩悔祸，各保疆土，如违约启衅剿除不赦”；又在广西设学，大书圣祖教民榜文。

——摘编自刘祥学《明朝民族政策演变史》等

- (1) 根据材料并结合所学，概括张居正处理周边民族关系的不同措施。(8分)
- (2) 根据材料并结合所学，简要评价张居正的民族政策。(7分)

45. [历史——选修4：中外历史人物评说] (15分)

材料

苏轼(1037-1101)，元佑四年任杭州知州，恰逢杭州大旱、饥疫并发。苏轼奏请朝廷，免去本路上供米的三分之一，用于救济饥饿之人。次年春，苏轼一方面降价出售官仓粮，置粥分药，救治百姓；另一方面，募集钱财二千缗和自资黄金五十两，建造治病场所，储备钱粮，以防疫病……供应城内居民用水的六井年久失修，淤塞废置，苏轼请教精通水利的僧人子珪，予以修缮……城内有汇聚江中湖水的茅山河和接受湖水的盐桥河，苏轼组织人员疏通二河，以通航运。同时，苏轼将救荒剩余钱财招募工役，修筑堤坝，后又在堤坝种木芙蓉、杨柳，望之如画，杭州人称为“苏公堤”。

——摘编自林语堂《苏东坡传》

- (1) 根据材料，概括苏轼治理杭州的措施。(8分)
- (2) 根据材料并结合所学，分析苏轼治理杭州取得成效的原因。(7分)