

## 2023—2024 学年度上期高 2024 届入学考试


## 历史试卷

考试时间：60 分钟

满分：100 分

## 一、单项选择题（22 小题，每题 3 分，共 66 分）

1. 商朝时期，中央王室与各族首领组成管理阶层；地方派遣的职官和归服方国诸侯，是形式上的支配与被支配关系，未必有血缘关系。到西周时期，即使与地方上的诸侯无血缘关系也通过联姻与王室形成甥舅关系。据此可知，西周时期（ ）
- A. 宗法贵族政治影响力式微                      B. 统治方式出现根本变化  
C. 确立了中央集权的新体制                      D. 王政统治得到一定强化
2. 据《史记·周本纪》载，周武王“率戎车三百乘，虎贲三千人，甲士四万五千人，以东伐纣”。而战国晚期，秦、齐、楚等诸侯国都拥有人数近百万的军队，连七国中最小的韩国也有 30 万兵力。这一变化主要是因为（ ）
- A. 军事理论的形成      B. 生产方式的变革      C. 政治制度的演进      D. 地形地势的利用
3. 孔子在社会伦理上强调尊卑有别，等级分明，但在教育上却主张“有教无类”，认为不分贫富贵贱，人人都有受教育的资格。这一差异表明孔子（ ）
- A. 重视教育对社会秩序的作用                      B. 具有比较超前的政治理念  
C. 有意推动私学的兴起和发展                      D. 教育理念与伦理观相矛盾
4. 据《史记·封禅书》记载，秦统一六国之后，政府所属的“祠官”对全国山川的官方祭祀进行了统一安排，关东地区列入官方祭祀的对象有山五川二，关西地区则是山七川四。秦朝这一安排（ ）
- A. 强化了秦人的统治地位                      B. 体现了儒学影响力扩大  
C. 改变了祭祀的社会功能                      D. 反映了经济发展的差异
5. 清初学者王夫之说：“秦以私天下之心而罢侯置守，而天假其私以行其大公。”即置郡县为“行其大公”。民初学者章太炎说：“古先民平其政者，莫遂于秦。”“平其政”即“使人们在政治上平等”。“行其大公”和“平其政者”体现在（ ）
- A. 百姓不再是封君的属民                      B. 政务处理的高度程序化  
C. 依据才干政绩任免官吏                      D. 郡县制更利于皇帝集权
6. 秦始皇曾五次巡游天下以昭告王权所在，并以“五德终始”说来论证秦代周的合理性，但当山东豪杰为恢复封建揭竿而起时，民间则是一呼百应。这说明当时（ ）
- A. 皇帝制度违背了历史潮流                      B. 治国理念变化导致秦朝社会动荡  
C. 地方豪强是反秦主要力量                      D. 新型国家形态尚未获得有效认同
7. 秦王朝建立至汉武帝初年，铁器的应用已经扩展到了社会生活的各个领域，制作的铁器物美价廉。而在汉武帝实行盐铁官营后，官府制造生产的铁器农具，质量不佳且价格较高，妨碍农事。这说明（ ）
- A. 盐铁官营不利于百姓生活                      B. 适当竞争有助于经济发展  
C. 垄断专营易引发官商勾结                      D. 官营工匠的技术水平不高
8. 魏晋以来佛教、道教广泛传播，宋人李觏认为原因在于“儒失其守，教化坠于地”；张载认为佛道追求的彼岸是虚幻的，与“吾儒”水火不容。由此可知，李觏、张载主张（ ）
- A. 儒法并用以维护君权                      B. 立足考据以重建学风

- C. 复兴儒学以回应挑战 D. 杂糅佛道以构建理学
9. 唐代朝廷经常举行儒释道三教讲论，由皇帝担任主持人，参与辩论的是三教中最有声望和学问的“通人”。参与各方为了攻击对方、树立本教威望，莫不广引对方经典以资辩驳，许多人因此开始兼明三教。这( )
- A. 反映了唐开放包容的文化风气 B. 巩固了唐代儒学的统治地位
- C. 导致了社会主流价值观的混乱 D. 说明统治集团统治思想动摇
10. 著名经济史专家林文勋根据主要流通商品的变化，将中国古代商品经济的发展分为秦汉“盐铁时代”、唐宋“茶盐时代”、明清“粮棉时代”几个不同的阶段。这一演变趋势反映了( )
- A. 商品流通规模的不断扩大 B. 商品流通种类的逐渐增多
- C. 全国统一的商品市场形成 D. 农业与市场联系日益密切
11. 明末，利玛窦和徐光启合译了《几何原本》，江南数学家纷纷参与研究，许多学堂还将其作为教科书。同一时期，采用西洋透视法的桃花坞（位于今苏州）“姑苏版”年画年产数万张，远销日本、东南亚。这反映了( )
- A. 江南文化的世界因素 B. 南方经济地位的提高
- C. 传统科技的领先优势 D. 土洋结合趋势的扩大
12. 1899年南通大生纱厂开业，其生产的机纱推动了周边农民家庭手工棉纺织业发展。棉纺织业发展对机纱的大量需求，又在大生纱厂濒临破产之际挽救了纱厂，并推动它走上迅速扩展之路。这一现象反映( )
- A. 机器大生产导致了小农经济破产 B. 个体手工业阻碍机器大生产发展
- C. “织”“耕”分离瓦解了自然经济 D. 个体手工业可纳入新的经济体系
13. 右图为《劳动音》创刊号的封面《革命火种》。该刊物封面上是一个火炬照耀下的锤子、铁镐、齿轮、禾苗、稻穗所组成的图案，天空中的朵朵白云，如同紧握的拳头。该封面内容( )
- A. 表明马克思主义开始传播
- B. 寓意着工农大众团结起来
- C. 明确反映出党的中心任务
- D. 为国共合作营造舆论氛围
- 
14. 抗战胜利后，国民政府将日伪纺织企业合并，成立了国有的中纺公司。政府高层解释称，商民在抗战之后，对于所接收之敌伪纱厂，“即便有人承购，事实上仍需由政府予以维持，等于仍由政府自行拨款接办，国库并不因出售纱厂而有大量之收入”。这反映了此时期( )
- A. 政府试图缓解民族工业困境 B. 国家实行对轻纺工业的统制
- C. 民族资本主义工业开始衰落 D. 政府在经济中主导地位加强
15. 1962年下半年起，我国国民经济开始稳步增长。1963年，国家在财力尚有困难的情况下，积极改善职工待遇；全民所有制工业企业全员劳动生产率连续三年分别提高26.7%、20.1%和22.5%。这反映了我国( )
- A. 落后面貌的彻底改变 B. 调整发展的重要成果
- C. 经济体制的全面改革 D. 市场经济的显著作用
16. 15—16世纪，佛罗伦萨一年有数十个宗教节日。在这些节日里，人们戴着各种假面具扮演各种宗教神话中的角色，进行奇迹剧的演出和游行，沉浸在如痴如醉的欢乐中，类似的“狂欢节”活动在意大利风行一时。这反映出当时的意大利( )
- A. 狂欢演出成为娱乐主流 B. 教会引导市民文化品味

- C. 节日庆典巩固宗教信仰
- D. 世俗精神融入宗教活动

17. “商业革命”激起了欧洲国家之间商业竞争和对海洋的控制权，引发了英西战争、英荷战争、英法七年战争等大国之间的战争，促进了西欧各国国家制度的建立和完善。材料意在说明（ ）

- A. 传统商路变更激化欧洲国家间矛盾
- B. 以西欧为中心的国际秩序已初步建立
- C. 新航路开辟影响了西欧的社会生活
- D. “商业革命”推动欧洲民族国家的形成

18. 据统计，1851—1871 年英国女性在商业、公共管理、医药和教育领域的就业人数从 95000 人增加到 138400 人，增长率达 45.68%；1851—1911 年女性职员在全部职员中比例从 2%增加到 20%。材料表明（ ）

- A. 英国实现了男女政治权利平等
- B. 妇女在就业竞争中占优势
- C. 工业革命促进了妇女角色转变
- D. 妇女的参政意识逐步增强

19. 新政期间，因最高法院多次否决总统提出的法案，罗斯福提出增加最高法院法官的改革方案。右图为表现这一改革方案的漫画，它表明（ ）

- A. 三权分立体制遭到破坏
- B. 行政权力扩张引发担忧
- C. 美国新政取得显著成效
- D. 最高法院维护宪法权威



20. 下表为 1928 年、1932 年和 1937 年苏联拖拉机数量与农业集体化发展状况统计表。它反映出苏联社会主义建设的特点是（ ）

时间	拖拉机数量（万台）	参加农业集体组织农户占全国农户比例（%）
1928 年	2. 7	1. 7
1932 年	14. 8	61. 5
1937 年	56. 1	93. 0

- A. 优先发展重工业
- B. 工业化和农业集体化同时并举
- C. 国民经济发展不平衡
- D. 农业集体化滞后制约工业化发展

21. 20 世纪 70 年代末，英国掀起国有经济私有化浪潮；与此同时，英国政府出台了包括《广播电台法》《运输法》《渔业法》《电讯法》《石油天然气法》《能源法》等涉及各行各业的相关法律和法规。这表明英国政府（ ）

- A. 放弃了国家对经济的干预
- B. 开创了“知识经济”发展模式
- C. 坚持自由放任的经济政策
- D. 调整资本主义的运行机制

22. 下表为世界银行对发展中国家和发达国家国民生产总值年平均增长率统计表。

时期	发展中国家	发达国家
20 世纪 50 年代	4. 7%	4. 1%
20 世纪 60 年代	5. 8%	5. 1%
20 世纪 70 年代	5. 3%	3. 2%

表中现象的出现（ ）

- A. 改变了两极对峙的格局
- B. 与新科技革命密切相关
- C. 表明世界贫富差距缩小
- D. 有助于国际关系民主化

二、材料分析题（2 小题，共 34 分）

23. 阅读材料，回答问题。（24 分）

## 材料一

四川古代交通闭塞，“蜀道之难难于上青天”。盆地内多山地、丘陵，将广袤的地域分隔成众多的小平坝（即小盆地），一平坝到另一平坝并不方便。四川人民为了消除空间阻隔，不断开拓交通路线。至两宋时期，由于都城都在四川东面，唯以长江水路为主体的峡路横贯东西，是四川与中央政府的唯一通途，成为四川最重要的交通路线。峡路是转输蜀布帛、粮草、川盐和纲马的重要漕运路线，也是军事上的重要通道。但峡路转输成本高昂，民困不支，且水路险恶，事故频发。

——据蓝勇《四川古代交通路线史》等整理

## 材料二

1904年，川人设立川汉铁路公司，着手筹办铁路。虽尝试过官办、商办、官商合办等多种方式，但至1910年，该公司只筹到所需路款的约十分之一，开工日期一推再推。1911年，清政府宣布“铁路国有”，通过向四国银行团借款官办，剥夺了川汉铁路公司的筑路权，保路运动随即发生。民国成立后，北洋政府、国民政府屡有兴工之议，但至解放前，未能铺设一寸铁轨。

——据宓汝成《近代中国铁路史资料》《中华民国铁路史资料》整理

## 材料三

为实现西南人民自清末以来40余年的愿望，展示中国共产党领导下新生人民政权的力量，成渝铁路于1950年6月15日正式开工修建。1952年7月1日，也即中国共产党成立31周年纪念日，新中国第一条由自己设计、自己建造，材料零件全部为国产的成渝铁路在重庆、成都两地同时举行隆重的全线通车庆祝大会。它的建成，是中国筑路史上的一个伟大创举。

——摘编自俞荣根等《当代重庆简史》

- (1) 根据材料一并结合所学知识，指出四川古代的交通状况，说明四川峡路交通在宋代的地位与作用。（10分）
- (2) 根据材料二并结合所学知识，分析清末川汉铁路在筹办过程中为何充满曲折。（7分）
- (3) 根据材料三并结合所学知识，概括成渝铁路修建的历史意义。（7分）

## 24. 阅读材料，完成下列要求。（10分）

## 材料

15—17世纪，伴随着中、西方社会的变化，传统绘画有了新突破。

中国古代自画像称为“自写真”，最早记载于《后汉书》。宋元始有零星作品传世，但多将人物融入山水背景或群像中。明清时期，部分士人挣脱“无我”枷锁，画中人物也从背景中独立出来。画家借助像赞、题记表达自我。苏州人沈周的自画像呈现了眼睛、额头、皱纹和老年斑等更为个性的面部特征。绍兴人徐渭在自画像上写道，“吾年十岁手植青藤”“流光荏苒，两鬓如霜”“合作此图，寿藤亦寿吾”。江南画家唐寅、陈洪绶等也有自画像传世。

西方在古希腊罗马时期出现少量自画像。15世纪以来，意大利人热衷于古典文化，并效法古罗马人定制艺术品以获得不朽荣誉，自画像作为一个独立门类发展起来。画家多在宗教、历史等场景中插入自己的形象。威尼斯人改进了制镜技术，阿尔伯蒂的《论绘画》分析了数学、几何学与绘画的关系，推动了自画像写实风格的发展。画中人物脱离场景，独立呈现。丢勒、提香等人绘制了多幅自画像。丢勒在自画像上写道：“我，丢勒，在28岁时用永不褪色的颜料画下了我自己。”16、17世纪后，欧洲出现自画像收藏热潮，伦勃朗一人就创作了70余幅自画像，莱奥波尔多·德·美第奇则收藏了79幅自画像。

阅读材料、提取信息，结合所学并自拟论题，阐释15—17世纪自画像的发展所折射出的中、西方时代特征。（要求：信息提取充分，史论结合，逻辑清晰。）

## 2023-2024 学年度上期高 2024 届入学考试 政治试卷

考试时间：60 分钟      满 分：100 分

第 I 卷（选择题，共 48 分）

一、选择题（下列各题的四个选项中只有一项是最符合题意的，每小题 3 分，共 48 分）

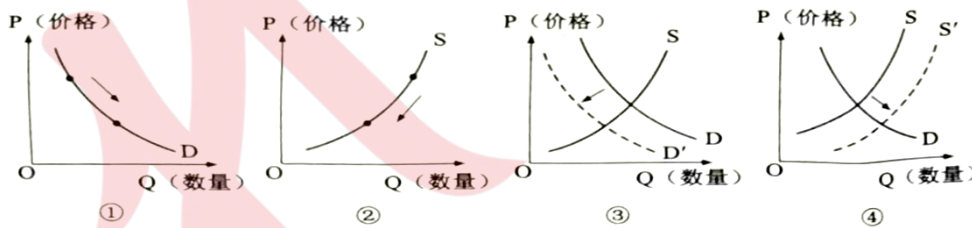
1. 根据中国质量协会发布的水热水器、油烟机、空调、电视等多个家电产品的 2022 年用户满意度监测报告显示，具有语音控制、手机 App 控制等智能功能多的家电比非智能家电销量更好，用户满意度更高。相比非智能家电，消费者更青睐智能家电，是因为（ ）

- ①智能功能增加了家电的使用价值，让消费者有更好的体验
  - ②智能功能减少家电生产的社会必要劳动时间，降低了价格
  - ③智能家电与非智能家电存在功能上的替代关系，使用便捷
  - ④智能功能提高了家电的社会劳动生产率，增加家电有用性
- A. ①②                      B. ①③                      C. ②④                      D. ③④

2. 2023 年 7 月 26 日，美联储宣布再次加息 0.25%，将美国联邦基金利率提升至 5.25-5.5% 区间。这是自 2022 年 3 月启动加息以来的 11 次加息，为 22 年以来的最高水平。不考虑其他因素，美国的加息政策带来的影响传导正确的是（ ）

- ①美元存款收益上升→美国居民消费意愿削弱→美国企业倒闭→工人失业
  - ②国际资本流入美国→美元升值→中国在美国商品价格下降→我国出口美国商品增多
  - ③美元存款利率提高→流通中货币量减少→缓解通胀→物价上涨
  - ④美元借贷成本提高→住房贷款负担加重→购房需求减少→房价下跌
- A. ①②                      B. ①④                      C. ②③                      D. ②④

3. 2023 年 3 月以来，燃油汽车促销降价引起市场的广泛关注。业内人士认为，在燃油车购置税减半政策退出、国六 B 排放标准实施在即、新能源汽车不断冲击的情况下，燃油车车企只能通过降价促销来求生存、抢占更多市场份额。在不考虑其他因素的情况下，下列图示（D 为燃油汽车需求曲线，S 为燃油汽车供给曲线）能正确反映这一经济现象的是（ ）



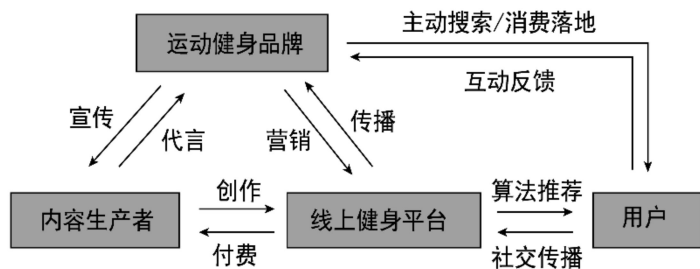
- A. ①→④                      B. ③→②                      C. ③→①                      D. ③→④

4. 《2022~2023 年中国汉服产业现状及消费行为数据研究报告》显示，2022 年，汉服经济市场规模达 125.4 亿元人民币，同比增长 23.4%，2025 年有望达到 191.1 亿元。崭露头角的汉服经济吸引了一批汉服爱好者的目光，并催热了原本不被看好的“妆娘”“簪娘”等相关职业。这说明（ ）

- ①生产决定消费的对象和方式，为消费创造动力
- ②新的消费热点往往能够带动相关行业的成长
- ③求异心理所引发的消费可以推动新产品的出现
- ④消费对生产有重要的反作用，消费拉动经济增长

- A. ①②                      B. ①③                      C. ②④                      D. ③④

5. 线上健身是指运用智能手机或可穿戴设备上的第三方应用程序，帮助用户记录和分享运动健身数据、指导运动项目学习、配置运动资源的运动健身方式。读《线上健身产业示意图》，下列传导路径正确的是（ ）



- A. 内容生产者加强创作→线上健身平台增加收费→用户健身积极性增强  
 B. 健身平台广告定向投送→用户健身成本下降→线上健身需求增加  
 C. 互动反馈健身效果→运动健身品牌供给增加→线上健身平台竞争力提升  
 D. 健身平台激活运动资源→线上健身需求增加→线上健身产业规模扩大

6. 坚定实施扩大内需战略、培育完整内需体系，是加快构建以国内大循环为主体、国内国际双循环相互促进的新发展格局的必然选择，是促进我国长远发展和睦治久安的战略决策。下列扩大内需的路径中合理的是（ ）

- A. 实施减税降费政策→助企纾困→提高供给质量→扩大内需  
 B. 畅通经济循环→吸引全球资源要素→培育出口竞争优势→扩大内需  
 C. 促进民营品牌国际标准接轨→增加中高端有效供给→培育新型消费→扩大内需  
 D. 建立假冒伪劣产品惩罚性巨额赔偿制度→完善消费体制机制→释放消费潜力→扩大内需

7. 《国企改革三年行动方案（2020~2022年）》实施的三年来，我国国有企业聚焦战略安全、产业引领、国计民生、公共服务等功能，既着力调整存量结构，又发力优化增量投向。中国空间站全面建成，首架C919大飞机正式交付，白鹤滩水电站全面投产……一大批重大工程、重大项目捷报频传。由此可见（ ）

- ①国有经济是我国国民经济支柱，在国民经济中起主导作用  
 ②发展、壮大国有经济对增强我国经济实力具有关键性作用  
 ③国有经济掌握着国家经济命脉，是社会主义经济制度的基础  
 ④我国坚持公有制为主体、多种所有制共同发展的基本经济制度

- A. ①②                      B. ①③                      C. ②④                      D. ③④

8. 某村依托乡村种植业与非集体资本合作，进行混合所有制改革，以土地、厂房等集体资产入股占比55%，引进某智农实业有限公司，以技术、人才入股占比45%，有效破解了当前农村基层组织缺乏收入、治理能力弱、农民增收慢等问题，使新农村建设焕发出勃勃生机。对材料解读正确的是（ ）

- ①土地等生产要素入股，促进了新型农村集体经济发展  
 ②完善农村生产关系，为非公有制经济发展注入新动能  
 ③流转集体土地的所有权，充分发挥适度规模经营优势  
 ④“混改”集聚农村优势资源要素，创新了农村经营方式

- A. ①②                      B. ①④                      C. ②③                      D. ③④

发展农村集体经济，可以促进乡村产业的兴旺，乡村振兴是乡村振兴的重中之重，要落实产业帮

扶政策，做好“土特产文章”。回答9-10小题。

9. 今年以来，广东韶关借助2023年中央一号文件“培育发展预制菜产业”的政策东风，发挥食用菌、香芋、竹笋等特色农产品优势，完善农业社会化服务体系，联农带农，推出“韶州家宴”食用菌预制菜品牌，受到市场热捧，小菌菇激发出乡村振兴大“蘑”力。材料说明（ ）

- ①发展壮大农村集体经济要敏锐抓住“农村特色”
- ②产业融合和创业就业需要借助更多的政策红利
- ③农业社会化服务体系是农村市场的“粘合剂”
- ④惠农政策实现了“小生产与大市场”的有效对接

A. ①②                      B. ①③                      C. ②④                      D. ③④

10. 扎根“土”，体现“特”，形成“产”，从发展产品向发展产业转变，从追求数量向追求质量转变，从发展一产向一、二、三产融合转变，是全国各地农村特色产业发展的“通项公式”。这一“通项公式”（ ）

- A. 准确揭示了农村产业振兴与全面乡村振兴的关系
- B. 正确把握了事物发展过程渐进性与飞跃性的统一
- C. 把“特色产业”的发展控制在一定“度”的范围内
- D. 彻底否定过去农业发展途径，走新型农业化道路

11. 2023年8月1日，国家发展改革委等部门发布《关于实施促进民营经济发展近期若干举措的通知》，该通知聚焦促进公平准入、强化要素支持、加强法治保障、优化涉企服务、营造良好氛围等五个重要方面，提出28条具体举措。举措的施行有利于（ ）

- ①巩固我国社会主义基本经济制度的基础
- ②发挥民营经济是中国式现代化的生力军作用
- ③优化营商环境，激发公有制经济的活力
- ④推动破解民营经济发展中面临的突出问题

A. ①③                      B. ①④                      C. ②③                      D. ②④

12. 2023年3月，国家主席习近平在中国共产党与世界政党高层对话会上首次提出全球文明倡议，强调要共同倡导尊重世界文明多样性、共同倡导弘扬全人类共同价值、共同倡导重视文明传承和创新、共同倡导加强国际人文交流合作，引发国际社会积极反响。这是基于（ ）

- ①文化多样性是人类社会的基本特征，是人类文明进步的重要动力
- ②全球文明倡议将有力推动文明交流互鉴，促进不同文明相互认同
- ③不同文明包容共存、交流互鉴，能够推动人类社会现代化进程
- ④世界政党高层对话日益成为世界各国文化交流和传播的主要途径

A. ①②                      B. ①③                      C. ②④                      D. ③④

13. 第31届世界大学生夏季运动会于2023年7月28日至8月8日在四川省成都市成功举办。本届大运会会徽主体在英文字母“U”的基础上，糅合了古蜀文明的象征元素“太阳神鸟”和中国文化的特色元素“凤凰”，展现人们自强不息、蓬勃向上的精神风貌，寄托了人们放飞梦想的希望。会徽由朱红、明黄、翠绿、湖蓝四个渐变色块组成，与国际大体联标志元素一脉相承。会徽的设计（ ）

- ①说明传统文化通过创新方显时代价值
- ②源自于人们对美好生活的追求和向往



③体现了艺术与现实、主观与客观的统一

④融合不同文化元素，承载深远文化内涵

A. ①②

B. ①④

C. ②③

D. ③④

14. 2023年2月8日，深圳市发布《深圳市积分入户办法》的通知。《办法》中积分入户指标由居住情况、参加社会保险年限情况、见义勇为、负面行为、违法行为等指标组成，入户总积分为各项指标累计积分。此外，该《办法》还指出，获得市级以上（含市级）见义勇为表彰的加30分。这一做法的亮点在于（ ）

①社会主义核心价值观为社会提供道德滋养

②创新社会主义核心价值观教育方式和方法

③推进理想信念教育常态化动态化和制度化

④发展文化事业以维护人民的基本文化权益

A. ①②

B. ①④

C. ②③

D. ③④

15. 沿着从增量市场试点先行到“存量+增量”市场推广，再到将试点推广至全市场的“三步走”改革路径，全面实行注册制制度规则历时四年，终于在2023年2月17日正式发布实施，资本市场改革发展的新局面由此打开。全面注册制的实施历程（ ）

①表明人们难以改造规律所发生作用的形式和条件

②是基于共性理论与个性实际相结合，是具体的历史的

③体现了对抗性矛盾的解决过程往往不是一帆风顺的

④反映了推进上层建筑变革往往要考虑诸多复杂因素

A. ①③

B. ①④

C. ②③

D. ②④

16. 穿上潜水服，戴好潜水镜，绑上安全绳，背好氧气瓶……27年来，防汛潜水抢险突击队队员徐某某奔走在江河湖堤，累计里程上万公里，“问诊”病险涵闸、封堵闸门千余次，与洪水生死搏斗，守护美丽家园，获评敬业奉献类“中国好人”。徐某某的事迹告诉我们（ ）

①对社会的贡献是衡量一个人社会价值的“标尺”

②只有与困难生死搏斗的人生才称得上是幸福的人生

③要把维护人民的利益作为自己最高的价值追求

④价值选择因人而异，实现人生价值的途径各不相同

A. ①②

B. ①③

C. ②④

D. ③④



## 第 II 卷（选择题，共 52 分）

## 二、非选择题（52 分）

## 17. 阅读材料，完成下列要求。（16 分）

材料一 2013-2019 年我国最终消费支出对 GDP 增长贡献率和居民恩格尔系数的变化



注：最终消费支出对 GDP 增长贡献率是指消费（最终消费支出）增量与国内生产总值增量之比。

材料二 2019 年 11 月，第二届中国国际进口博览会在上海举行，共有 155 个国家（地区）、26 个国际组织、3 893 家企业参加，超过 50 万名境内外专业采购商到会洽谈采购，累计意向成交额 711.3 亿美元。进博会设置装备、食品、医药、健康、服务等展区，与大众品质生活的消费密切相关：从新抗癌药到智能化的医疗设备，从体现绿色概念的护肤品到高科技垃圾粉碎机，从可穿戴外骨骼机器人到有助于创建“养老型城市”的康养产品等，集中反映了当前消费的新热点、新趋势。

(1) 解读材料一包含的经济信息。（4 分）

(2) 结合材料并运用经济知识，说明消费变化对我国生产将产生的重要影响。（12 分）

## 18. 阅读材料，完成下列要求。（12 分）

广东是中小企业和个体工商户大省。目前，全省市场主体超过 1500 万户，约占全国的 1/10，其中，中小企业、个体工商户分别超过 630 万户、830 万户。近年来，广东省通过强化减税降费、融资担保、政府采购、财政扶持等举措，切实帮助中小企业减负，缓解融资难题，支持广东省中小企业创新创业。2022 年上半年，广东省新发放小微企业贷款“首贷户”达 2.43 万户，贷款金额 804.87 亿元；新增投入 3 亿元，综合运用贴息、政府性融资担保降费奖补和代偿补偿等，加大对实体经济特别是受疫情严重影响行业和中小微企业、个体工商户的金融支持力度。

结合材料，运用“我国的生产资料所有制”的有关知识，分析说明广东省采取有力措施为中小企业和个体工商户纾困解难的主要原因。

19. 阅读材料，完成下列要求。(24分)

党的二十大报告中指出：“团结奋斗是中国人民创造历史伟业的必由之路”。团结奋斗是一百年来中国共产党人、中国人民、中华民族锤炼铸就的宝贵精神品质。

中华优秀传统文化中蕴含着团结奋斗精神。团结奋斗的优良传统启迪中国人民精诚团结、不懈奋斗，建立起统一的多民族国家。作为马克思主义政党，中国共产党把实现共产主义作为最高理想，把为中国人民谋幸福、为中华民族谋复兴作为初心使命，这种远大志向和抱负赋予中国共产党人始终把团结奋斗鲜明写在自己的历史答卷上，形成了党的团结奋斗优良传统，同时结合新形势不断开创出团结奋斗的新局面。

党的百年历史，是一部党领导人民团结奋斗、赢得伟大胜利的历史。土地革命战争时期，我们党号召“唤起工农千百万，同心干”；抗日战争时期，抗日民族统一战线旗帜下“四万万人齐蹈厉，同心同德一戎衣”；新中国成立后，我们党强调正确处理人民内部矛盾，号召团结全国人民，争取一切国际朋友的支援，为了建设一个伟大的社会主义国家而奋斗；党的十一届三中全会强调解放思想，实事求是，团结一致向前看，号召为把我国建成现代化的社会主义强国而奋勇前进。党的十八大以来，习近平总书记反复强调：“团结就是力量，奋斗开创未来；能团结奋斗的民族才有前途，能团结奋斗的政党才能立于不败之地。”

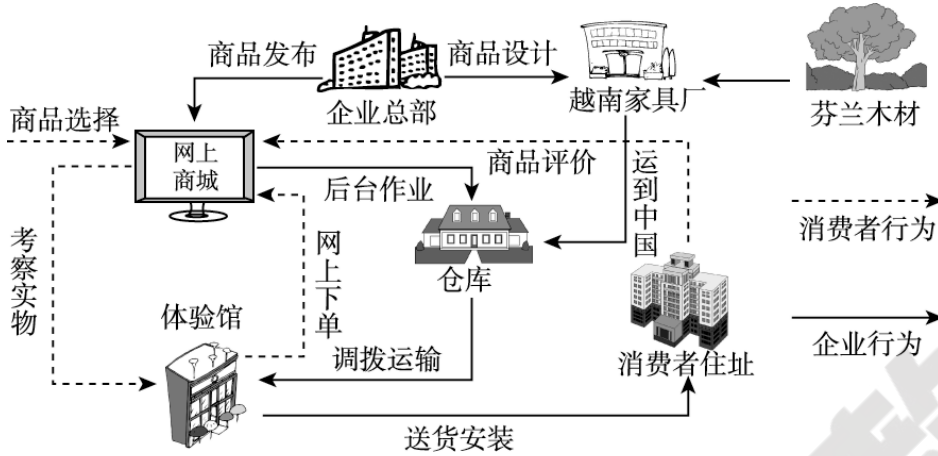
(1) 传承和弘扬团结奋斗精神对建设中国特色社会主义文化意义重大，结合材料运用文化生活的知识加以说明。(12分)

(2) 结合材料，运用社会历史主体的知识，分析中国共产党是如何领导人民团结奋斗，创造历史伟业的。(12分)

## 成都七中 2023-2024 学年度高三上入学考试地理试题

本卷共 20 小题。每小题 3 分，共 60 分。在每个小题给出的四个选项中，只有一项是符合题目要求的。

下图示意我国某家具企业的设计、生产和销售等流程。读图，完成下面小题。

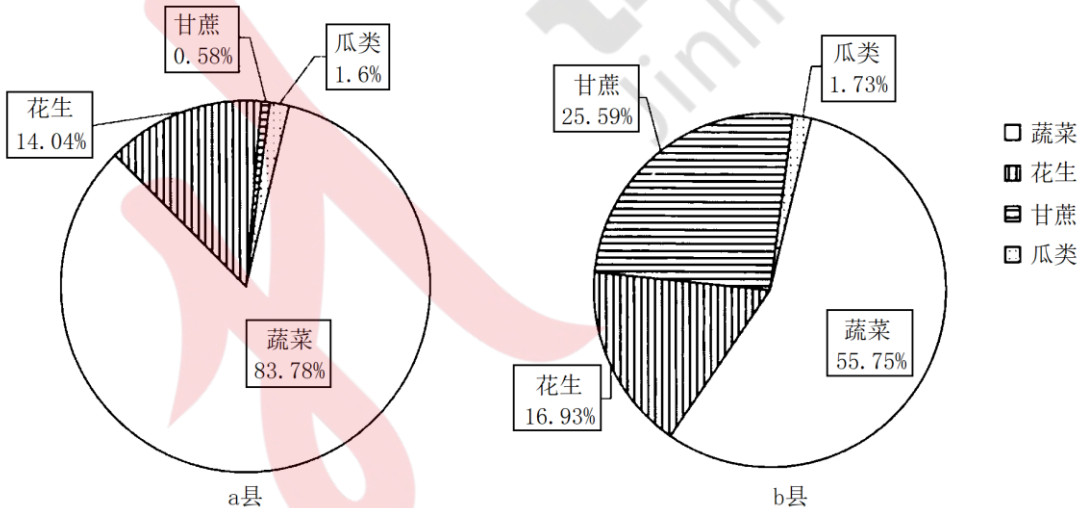


1. 该企业把家具加工选择在越南，主要是因为越南（ ）
 

A. 原料充足                  B. 劳动力廉价                  C. 市场需求大                  D. 加工水平高
2. 该企业在城市布局体验馆时考虑的最主要因素是（ ）
 

A. 信息网络                  B. 环境舒适度                  C. 交通通达度                  D. 生产地距离

耕地非粮化是指土地经营者将耕地用于非粮食种植的农业生产行为。下图示意我国某省 a、b 两县非粮食耕地作物种植结构。读图，完成下面小题。



3. 该省最可能是（ ）
 

A. 吉林                  B. 山东                  C. 江苏                  D. 广东
4. a 县耕地非粮化的主要驱动力是（ ）
 

A. 土地条件                  B. 气候条件                  C. 经济效益                  D. 政策导向

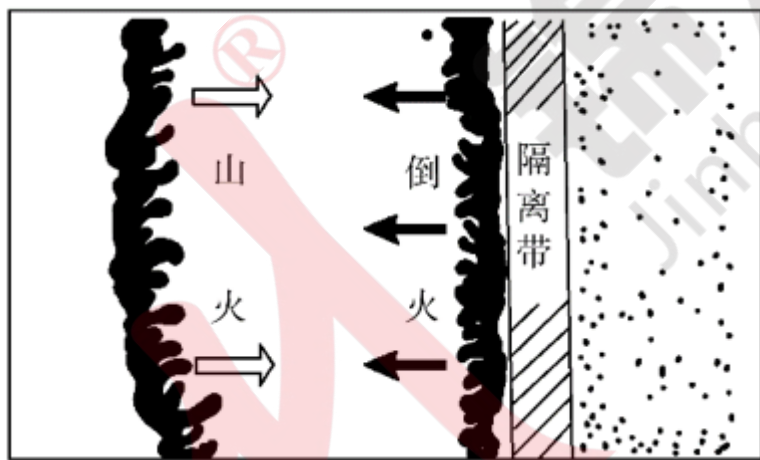
5. 为保障粮食安全，能有效防止耕地非粮化的措施是（ ）
- A. 提高粮食收购保护价格                      B. 扩大城郊农业规模
- C. 加强农田配套设施建设                      D. 完善土地流转机制

家住我国某山山下的小明在日记中写道：“今天农历腊月初十，星期二，晴，早晨 7:30 出门上学，我们山下室外气温为零下 5°C，冻得直打哆嗦，我给住在山坡（山顶海拔为 3500 米）的爷爷打电话，他却说他那里室外温度只有零下 2°C，我还惊奇发现，在北京时间 13:00 左右课桌上水杯的影子刚好朝向正北。”

据此完成下面小题。

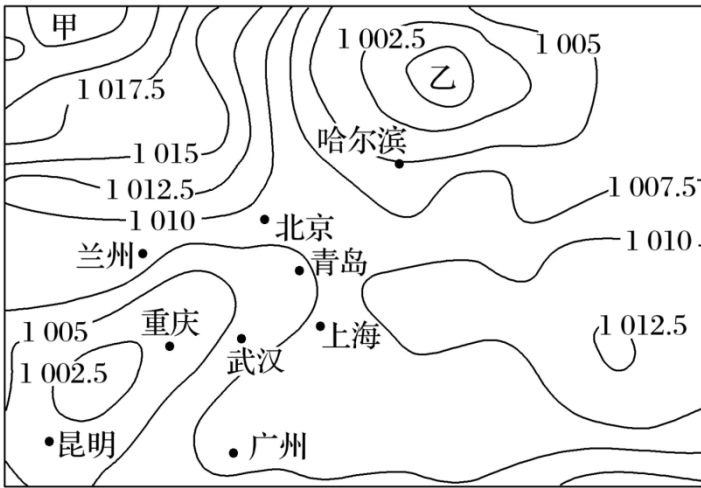
6. 小明所在地的山脉可能是（ ）
- A. 太行山                      B. 巫山                      C. 贺兰山                      D. 昆仑山
7. 当天该地夜间山下气温比山坡气温低的原因可能是（ ）
- A. 山坡上冷空气下沉到山下                      B. 山坡夜晚阻挡冷空气而增温
- C. 山下夜间大气逆辐射较强                      D. 山下白天接受太阳辐射较少

截至 2020 年 2 月初，澳大利亚东南部爆发的林火已燃烧了 5 个多月。消防人员常采用喷水、喷洒灭火剂、复土、扑打和砍伐隔离带等方式扑灭森林大火，也会用“点倒火”方式快速灭火。下图示意“点倒火”灭火方式。据此完成下面小题。



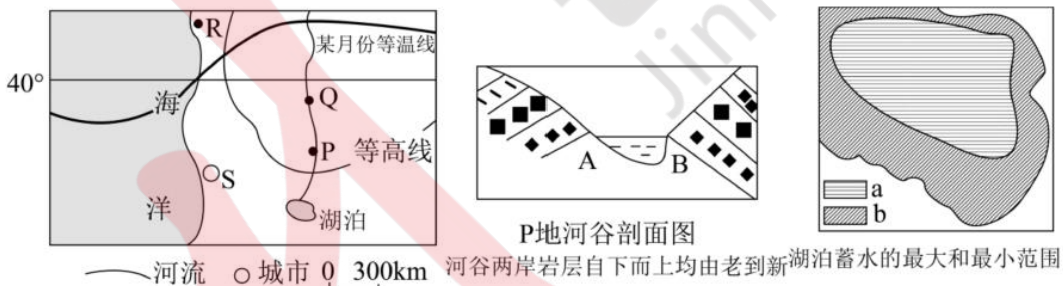
8. 根据图中采用“点倒火”灭火方式，判断该地此时（ ）
- ①吹西风 ②吹东风 ③风力较大 ④风力较小
- A. ①③                      B. ②④                      C. ①④                      D. ②③
9. 澳大利亚此次森林过火后可能会（ ）
- A. 优化森林生态环境                      B. 降低森林虫害风险
- C. 增加木材蓄积量                      D. 抑制优势树种生长

读东亚部分地区某时刻地面等压线图（单位：百帕），完成下面小题。



10. 此时，盛行西南风的是（ ）
- A. 哈尔滨                      B. 北京                      C. 青岛                      D. 重庆
11. 与乙地相比，甲地该日（ ）
- A. 气温较高                      B. 气压较低                      C. 降水较多                      D. 昼夜温差大
12. 此时，最有可能出现降水的地区是（ ）
- A. 内蒙古高原                      B. 云贵高原                      C. 珠江三角洲                      D. 长江三角洲

读“世界某区域图”，如果左图所示河流和湖泊均以雨水补给为主，且 P 地所在水文站测得流量的季节变化比 Q 地较大。完成下面小题。



13. 下列说法正确的是（ ）
- A. 河流的流向是由 Q 向 P
- B. R 地植被主要为亚热带常绿阔叶林
- C. S 城常年受西风控制
- D. S 城附近海域可能有寒流流经
14. 关于下列说法正确的是（ ）
- ①图中等温线为七月份等温线 ②图中等温线为一月份等温线 ③此时湖泊水位为 a ④此时湖泊水位为 b

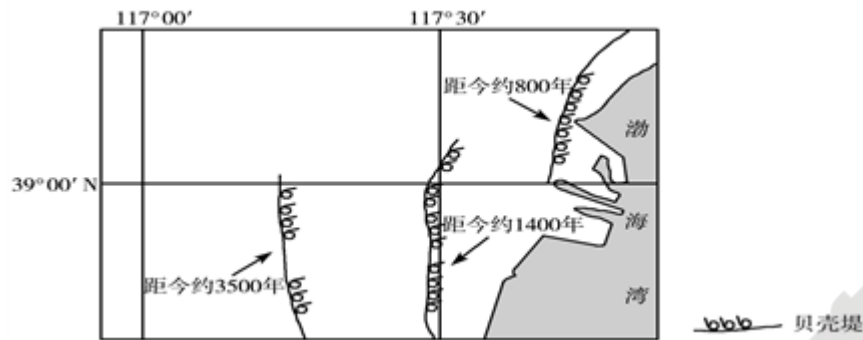
- A. ①③                      B. ①④                      C. ②③                      D. ②④

15. 关于P地河谷剖面的叙述正确的是 ( )

- ①河谷地质构造为向斜②河谷地质构造为背斜③A地位于河谷西岸④B地位于河谷西岸

- A. ①③                      B. ①④                      C. ②③                      D. ②④

贝壳堤由死亡的贝类生物在海岸带堆积而成。在沿海地区经常分布着多条贝壳堤，标志着海岸线位置的变化。下图示意渤海湾沿岸某地区贝壳堤的分布。据此完成下列各题。



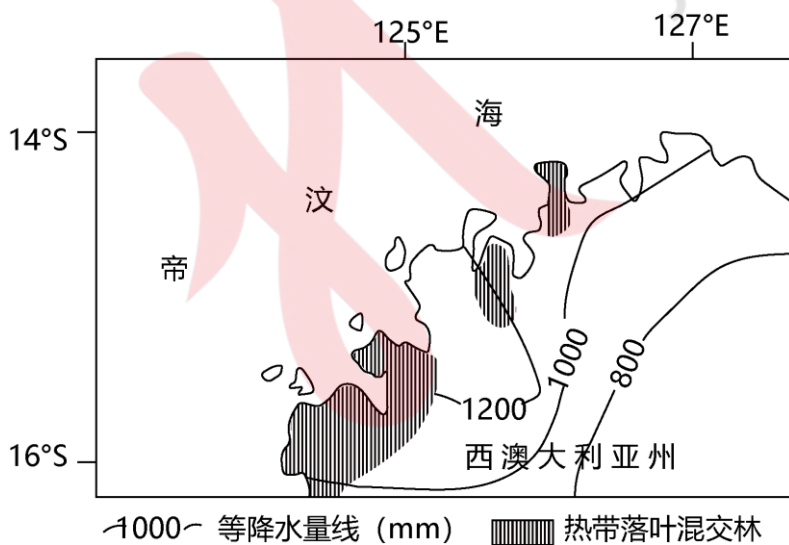
16. 在任一条贝壳堤的形成过程中，海岸线( )

- A. 向陆地方向推进                      B. 向海洋方向推进  
C. 位置稳定                              D. 反复进退

17. 沿岸流动的海水搬运河流入海口处的泥沙，并在贝壳堤外堆积。由此( )

- A. 形成新的贝壳堤                      B. 加大贝壳堤距海岸线的距离  
C. 形成河口三角洲                      D. 迫使河流改道

澳大利亚西北部沿海狭窄地带分布有热带落叶混交林。研究表明，该地热带落叶混交林是在末次冰期时迁移扩散至此。右下图示意澳大利亚西北部热带落叶混交林的分布。据此完成下面小题。



18. 该区域的热带落叶混交林种群最可能源自 ( )

- A. 马来群岛                      B. 新西兰北岛                      C. 亚马孙雨林                      D. 马达加斯加岛

19. 该区域的热带落叶混交林开始集中落叶的时间是（ ）

- A. 1~2月  
B. 4~5月  
C. 7~8月  
D. 10~11月

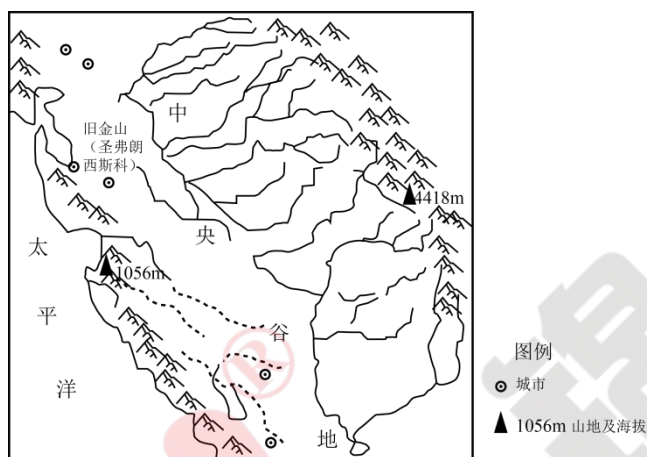
20. 限制该区域热带落叶混交林向内陆扩展的主要因素是（ ）

- A. 热量  
B. 光照  
C. 地形  
D. 水分

**第II卷（非选择题，本卷共3个小题，共40分。请把答案写在答题卡规定的区域）**

21. 阅读图文材料，完成下列要求。

美国加州位于美国西部，加州发达的灌溉技术使其成为美国第一大农产品生产州，其水果、蔬菜、坚果产量占美国总产量的一半以上，该地还是世界上最优质车厘子的产区，但是受水果本身的特征影响，该地水果采摘依然需要大量的劳动力。如图示意加州地形。



- (1) 简述加州东部地形特征对河流产生的影响。
- (2) 分析加州是世界上最优质车厘子产区的原因。
- (3) 与美国相比，说明中国水果的市场优势。
- (4) 提出缓解加州水果采摘时期劳动力缺乏的有效措施。

22. 旅游地理

下图为青海-甘肃西北大环线自驾游线路设计，全线旅游资源众多，全程2600公里左右，沿途均为国道或者高速公路连接，在青海境内平均海拔在3000米左右，自驾时间大约7-8天左右。此自驾线路深受各地自驾游客喜爱。以下是沿途主要景点。



评价该旅行社设计的旅游路线的优点。

23. 阅读图文材料，完成下列要求。

材料 1：荷兰（图 1）地处大西洋沿岸，地势较低，常遭受风暴潮袭击。1953 年 1 月 31 日夜间至 2 月 1 日凌晨，荷兰遭遇由强风引发的风暴潮，适逢涨潮，水位异常抬升，有些地方浪高接近 7 米。夜间持续的暴雨导致河水泛滥，在洪水和海浪的夹击下，无数房屋被毁，数千人丧生，数万人流离失所。

材料 2：菲律宾（图 2）每年都要遭遇大约 20 次台风，莱特岛是菲律宾遭受台风和地质灾害的重灾区之一。长期以来，莱特岛居民在附近的山上乱砍滥伐。2006 年 2 月，当地连续两周暴雨，发生了大规模的泥石流，导致数百人丧生，千余人失踪。

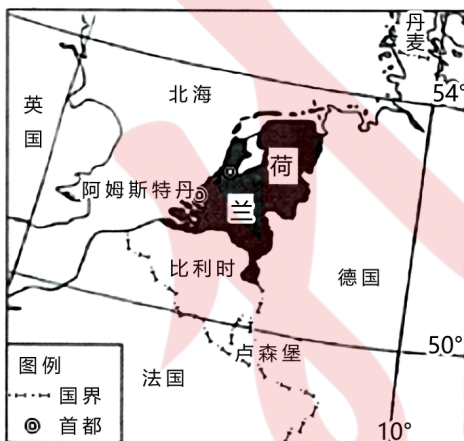


图1

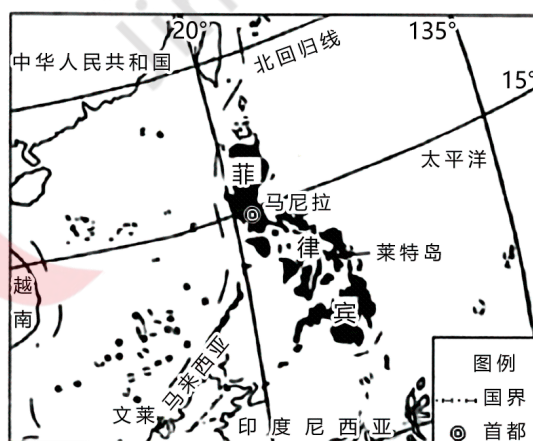


图2

- (1) 据材料 1 分析该次风暴潮危害严重的原因。
- (2) 从地理位置角度分别说明荷兰常受风暴潮影响、菲律宾常受台风影响的原因。
- (3) 据材料 2 说明不合理的人类活动、气象灾害、地质灾害三者之间的关联性。