

成都市 2020 级高中毕业班第三次诊断性检测 文科综合

本试卷分选择题和非选择题两部分。第 I 卷（选择题）1 至 8 页，第 II 卷（非选择题）9 至 14 页，共 14 页；满分 300 分，考试时间 150 分钟。

注意事项：

1. 答题前，务必将自己的姓名、考籍号填写在答题卡规定的位置上。
2. 答选择题时，必须使用 2B 铅笔将答题卡上对应题目的答案标号涂黑，如需改动，用橡皮擦擦干净后，再选涂其它答案标号。
3. 答非选择题时，必须使用 0.5 毫米黑色签字笔，将答案书写在答题卡规定的位置上。
4. 所有题目必须在答题卡上作答，在试题卷上答题无效。
5. 考试结束后，只将答题卡交回。

第 I 卷（选择题，共 140 分）

一、选择题：本大题共 35 小题，每小题 4 分，共 140 分。在每小题给出的四个选项中，只有一项是符合题目要求的。

将城市空置建筑加以改造，改变其用途以适应时代需求，这种现象被称为“适应性再利用”。据统计，2022 年底美国大都市区写字楼空置率达 19%，公司办公室使用率仅 50%。在 2022 年的 217 个写字楼转换改造项目中，近一半改造为生命科学实验室，其改造费用高于新建费用。据此完成 1~2 题。

1. 导致公司办公室使用率不高的原因是
A. 就业压力增大
B. 远程办公的兴起
C. 土地租金上涨
D. 市中心的空洞化
2. 生命科学实验室选择空置写字楼转换改造而非新建，主要是为了
A. 节省研发费用
B. 提升公司竞争力
C. 缩短投产周期
D. 靠近高端消费人群

图 1 为北方某小麦农田景观，其田垄用于田地分界和防止灌溉水漫流，宽约 30—45 厘米。为提升种粮综合效益，山东省率先在肥城市实施“大田无垄”种植模式，优选 50 亩以上种植大户的田地作为试点，减垄、去垄，并增设微喷带、立杆式等喷灌设施。据此完成 3~5 题。




图 1

3. 肥城实施减垄、去垄的直接目的是
A. 改善灌溉条件
B. 调整田面坡度
C. 增加土壤厚度
D. 增加种植面积
4. 山东省选择在肥城试点“大田无垄”种植模式，主要是因为肥城
A. 政策优惠
B. 规模经营户多
C. 交通便利
D. 农业科技发达
5. 充分发挥“大田无垄”种植模式的优势，关键在于
A. 配套技术装备
B. 拓宽销售渠道
C. 提高劳动效率
D. 提升育种技术

大兴安岭某林区曾发生重度火灾（地表植被完全毁坏），现恢复为兴安落叶松人工林。某研究团队在该林区开展了火烧迹地植被恢复对林内小气候调节作用的研究。图 2 示意火灾后第 3 年和第 13 年该林区兴安落叶松人工林 9 月 5cm 和 10cm 深度土温日变化情况。据此完成 6~8 题。

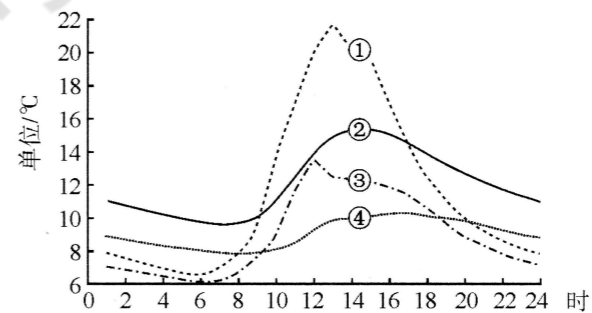


图 2

6. 图中代表火灾后第 13 年 9 月 10cm 深度土温日变化曲线是
A. ①
B. ②
C. ③
D. ④
7. 火灾后第 3 年和第 13 年，该林区 9 月 5cm 深度土温日变化差异明显，是因为第 13 年
①林冠截留太阳辐射增强
②正午太阳高度较小
③林内空气热量散失变快
④林内地表风速变慢
A. ①②
B. ②③
C. ①④
D. ③④
8. 火烧迹地植被恢复初期的冬季，对兴安落叶松人工幼林危害最大的是
A. 大风天气多
B. 积雪厚度大
C. 土壤水分差
D. 病虫害多

三峡水库采用“汛期排浑，汛后蓄清”的运作方式。监测发现，水库运行后下游河道冲淤情况发生显著变化。图3示意2004—2018年，水库下游某河段四个时期不同粒径组泥沙冲淤量的变化（淤积量大于冲刷量为正值，冲刷量大于淤积量为负值）。据此完成9~11题。

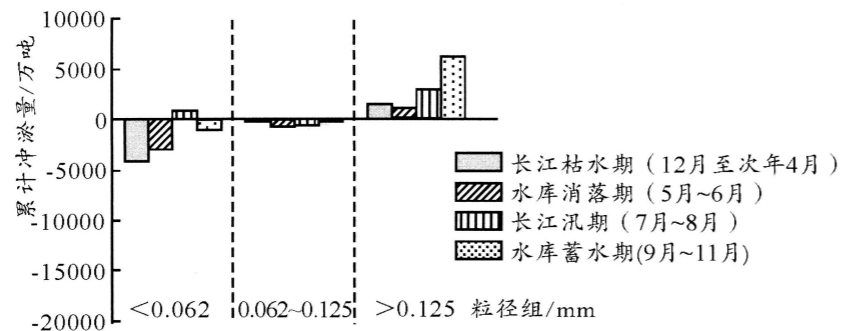


图3

9. 正常年份，三峡水库平均水位最低的时段是
A. 12月至次年2月
B. 3月至5月
C. 6月至8月
D. 9月至11月
10. 2004—2018年，该河段河床沉积物的平均粒径
A. 先变大，后变小
B. 变大
C. 先变小，后变大
D. 变小
11. 2004—2018年，该河段的河床
A. 蓄水期降低
B. 消落期抬高
C. 汛期降低
D. 枯水期降低
12. 2023年，氛围经济火爆出圈。围炉煮茶、露营等活动营造的氛围及体验式、沉浸式消费，附加社交、情怀、文化、娱乐、治愈等元素，备受人们青睐。在某电商平台，灯、画、音响等商品，被商家标上与“氛围感”相关的关键词后，获得了超30%以上的交易指数增长。对此认识正确的是
①这类商品的价值主要来自于经营者营造的独特“氛围感”
②人们进行氛围消费时追求情感满足超越产品本身的功能
③氛围消费流行说明我国居民消费已由生存型转向享受型
④发展氛围经济要找准产品文化特色与消费需求的契合点
A. ①③
B. ①④
C. ②③
D. ②④
13. 近年来，某省政府相关部门鼓励民营企业参与电力、铁路、石油、天然气等重点行业领域相关业务，实施中小企业数字化赋能专项行动，积极为中小微企业解决融资难等问题。此举意在
①坚持平等对待国企民企，促进两者优势互补合作共赢
②推动国企民企融合发展，共同主导经济整体运行态势
③帮助民营企业排忧解难，促进民营经济持续健康发展
④参与民营企业经营管理，支持民营经济不断发展壮大
A. ①③
B. ①④
C. ②③
D. ②④

14. “灯塔工厂”是将自动化、工业物联网、数字化、大数据分析、5G等技术有机结合的现代化工厂。比如，某厂运用大数据和先进视觉检测技术，创新产品研发方式，升级制造流程和物流调度模式，使订单响应周期缩短35%，生产效率提高35%，产品质量性能提高36%。截至2023年3月，我国有“灯塔工厂”50家，排名全球第一。建设“灯塔工厂”会对经济社会发展产生广泛影响，其传导过程正确的是
①精准把握市场需求→引导居民消费发展方向→提高产品供给的针对性
②整合全产业链资源→优化生产流程促进提质增效→塑造企业竞争优势
③创新工业发展模式→用数字技术赋能产业升级→提升制造业整体实力
④提高生产的智能化水平→减少企业的用工需求→延缓人口老龄化进程
A. ①②
B. ①④
C. ②③
D. ③④
15. 2023年，财政部要求：有条件的地方可以通过现有的资金渠道对家电“以旧换新”、绿色智能家电下乡等予以支持；对于购置期在2023年的新能源汽车继续免征车辆购置税；支持农产品供应链体系建设，支持一批国家综合货运枢纽建设，推动物流降本提效。上述举措的共同作用是
A. 实施积极财政政策，着力扩大国内需求
B. 增加重点领域投入，有效带动社会投资
C. 加大减税降费力度，改善社会消费预期
D. 持续优化营商环境，激发企业发展活力
16. 2015版立法法规定，设区的市可以在城乡建设和管理、环境保护、历史文化保护等领域，制定符合地方实际的地方性法规和政府规章。随着时间的推移，上述规定已难以满足地方发展的要求。2023年全国人大再次修法时对此进行了调整，增加了“基层治理”事项，同时将“环境保护”修改为“生态文明建设”。此举意在
①适应改革发展实际需要，扩大地方相关部门立法权限
②坚持民主集中制，强化全国人大在立法中的主导作用
③完善立法体制机制，引导基层群众积极参与地方立法
④贯彻全面依法治国方略，提高地方政权机关治理能力
A. ①②
B. ①④
C. ②③
D. ③④
17. 某市政协成立政协委员工作站，积极开展“微协商”活动。由政协委员、社区网格员、居民代表等组成“民意收集团”，及时发现群众关心的热点难点问题，然后通过专题协商议事活动，发动各方力量共同谋划破解之道。这有利于
①密切联系群众，提高政协委员管理社会事务能力
②完善基层群众自治制度，保障人民群众的自治权
③发展全过程人民民主，提升基层社会治理的效能
④加强和改进民主协商工作，维护社会的和谐稳定
A. ①②
B. ①③
C. ②④
D. ③④

18. 2023年3月,断交长达七年的沙特和伊朗两国在中国斡旋下达成和解,决定恢复关闭多年的外交使馆和代表机构。4月6日,两国外长在北京宣布,即日起恢复外交关系并签署联合声明。这一成果

- ①是中国推动构建人类命运共同体的生动实践
- ②实现了中东国家间从冲突对抗走向对话合作
- ③为国际社会解决安全问题提供了有益的启示
- ④标志着世界格局和国际秩序发生了深刻改变

A. ①② B. ①③ C. ②④ D. ③④

19. 2023年4月1日,某市文化部门主办的“2023年百场非遗进社区”活动拉开帷幕。烙画、剪纸、糖画……几十位非遗项目传承人施展技艺,为居民带来一场非遗盛宴。不少居民还亲自动手,体验非遗技艺,感受其中的奥妙。这一活动的意义在于

- ①推动传统文化融入日常生活,实现创新性发展
- ②采用喜闻乐见的方式,丰富人民群众文化生活
- ③创新文化传播途径,促进文化市场繁荣和发展
- ④让群众感受传统文化的魅力,增强文化认同感

A. ①② B. ①③ C. ②④ D. ③④

20. 2023年3月15日,习近平总书记在中国共产党与世界政党高层对话会上发表主旨讲话,首次提出全球文明倡议并指出,人类社会创造的各种文明,都闪烁着璀璨光芒,为各国现代化积蓄了厚重底蕴、赋予了鲜明特质,并跨越时空、超越国界,共同为人类社会现代化进程作出了重要贡献。为此,各国应该

- ①促进交流融合减少各民族文化之间的差异
- ②坚持尊重和包容的态度对待其他民族文化
- ③弘扬本民族文化并努力引领世界文化潮流
- ④加强文化交流合作共同推动人类文明进步

A. ①③ B. ①④ C. ②③ D. ②④

21. “天上会掉馅饼吗?谁都以为自己会是个例外!”漫画(图4)给我们的哲学启示是



图4

- A. 充分发挥意识的主动创造性
- B. 正确认识和把握事物的联系
- C. 善于抓住机遇促进质的飞跃
- D. 承认事物的矛盾具有特殊性

22. 发展是解决我国一切问题的基础和关键,破解突出矛盾和问题,防范化解各类风险隐患,归根到底要靠发展;同时,推动创新发展、协调发展、绿色发展、开放发展、共享发展,前提都是国家安全、社会稳定。在新征程中,我们要更好统筹发展和安全。这说明

- ①社会领域中的事物都是相互影响、相互制约的
- ②优化系统内部的结构可以提升事物的整体功能
- ③坚持两点论和重点论的统一才能认清事物本质
- ④矛盾双方既对立又统一推动事物的变化和发展

A. ①② B. ①③
C. ②④ D. ③④

23. 过去,人们站在城乡分割角度看乡村,它只是农产品生产和农民生活的地方;现在,人们站在统筹城乡发展角度看乡村,它具有生态价值、景观价值、文化价值等多重价值。乡村振兴要努力将乡村的资源优势、生态优势转化为发展优势。这表明

- ①事物的价值随主客体关系的变化而变化
- ②事物价值取决于人们视野的广度和深度
- ③事物自身属性改变是其价值变化的前提
- ④人的价值观影响事物价值的创造与转化

A. ①② B. ①④
C. ②③ D. ③④

24. 商朝农作物以粟、黍为主,春种秋收,时人分一年为春、秋两季。西周春秋之间,随着冬种秋收的小麦种植逐渐推广,春夏秋冬“四时”观念逐渐形成,“以时序政”“依时行政”也逐步成为统治集团的共识。这反映出

- A. 自然规律决定国家治理理念
- B. 传统历法体系趋于完备
- C. 农耕文明赋予中华文化底色
- D. 农业生产实现精耕细作

25. 《史记》记述人物籍贯的方式多样,或记封国国名,或记县名、郡名、郡县名。《汉书》在记述司马迁以后的人物籍贯时,很少有忽略郡名的。造成这一变化的主要原因是

- A. 统治疆域的拓展
- B. 中央集权的强化
- C. 儒学正统的确立
- D. 史书体例的更新

26. 魏晋南北朝时期，新编的蒙学教材逐渐普及且无不渗透经学思想，士人幼习五经已趋普遍，私家经传注疏数量远超两汉。这一现象

- A. 展现了儒学传承的活力
- B. 反映了官办教育的盛况
- C. 扭转了士族的清谈风尚
- D. 阻遏了佛道学说的流播

27. 表1 关于1517年葡属马六甲总督派员出使中国的相关记载

文献记载	文献出处
“……船上满载胡椒。葡人欲往广东，中国官吏不许，（舰队指挥官）强驶入内河，放炮举敬礼。抵广东后，国使与随员登陆，中国人接待颇优，择安寓以舍之。”	16世纪葡萄牙历史学家巴罗斯著《亚细亚》
“蓦（蓦然）有大海船二只，直至广城怀远驿，称系佛郎机国进贡……以其人不知礼，令于光孝寺习仪三日，而后引见。”	《筹海图编》引时任广东按察金事顾应祥语

表1可以用来说明

- A. 中西实力对比逆转
- B. 中国国门被迫打开
- C. 西学东渐由此开启
- D. 朝贡体系受到冲击

28. 1895年端午节，成都街头出现了写有“某家有牛忽作人语，言后年外人将攻占四川”“日本向中国开仗，英法美三国不力逐去（日本），故不使三国之人在川居住”等内容的揭贴。这些揭贴意在

- A. 反对朝廷以夷制夷
- B. 谴责列强瓜分中国
- C. 鼓动民众反帝救亡
- D. 宣传变法自强思想

29. 表2 上海外白渡桥通行交通工具变化情况（单位：人/天）

年份	步行	人力车	马车	轿子	脚踏车	汽车	公共汽车	有轨电车
1889	11770	6984	544	9	0	0	0	0
1926	50823	14600	0	0	3459	3764	172	922

表2可以反映出民国时期的上海

- A. 城市化的机遇与挑战并存
- B. 城市治理水平得到提升
- C. 民众出行以新式交通为主
- D. 封建习俗退出历史舞台

30. 1938年，毛泽东不仅提出“一切有相当研究能力的共产党员，都要研究马克思、恩格斯、列宁、斯大林的理论，都要研究我们民族的历史”，还亲自主持编辑了包括调查研究类在内的一系列党的历史文献集和思想理论集，供全党学习之用。这

- A. 促成了中国共产党工作重心的转移
- B. 强化了对苏联模式的认同
- C. 推动了抗日民族统一战线的建立
- D. 适应了民族战争的新形势

31. 1980年，上海人民美术出版社印刷的宣传画（图5）敏锐地切中了时代的脉动，一经上市便被抢购一空。据此可知



图5

- A. 上海引领思想变革潮流
- B. 人民生活水平显著提高
- C. 科教强国观念受到重视
- D. 现代主义成为艺术主流

32. 罗马共和国中晚期，罗马城盛行“权力支持下的表演”。将军们纷纷用战利品建造公共神庙，又当众向士兵分发战利品；贵族们竞相进行公共演说，还在艺术等领域展示自己和家族的功绩与德性。对此解释合理的是

- A. 自然法精神影响贵族的行为
- B. 平民在政治上具有重要作用
- C. 重视品德成为社会主流价值
- D. 参与公众活动属于贵族职责

33. 现代史学家布罗代尔指出：“近代早期的英国农村早已被纳入英国的市场网络体系之中，它不仅为城市及其居民提供粮食，也是英国国内市场的主要构成部分，而国内市场正是发展中的英国工业首要的销售场所。”该学者在此强调的是

- A. 产业革命的动力
- B. 圈地运动的局限性
- C. 市场统一的作用
- D. 自由主义的优越性

34. 1921年，俄共（布）建立监察委员会，其任务是同官僚主义和升官发财思想以及滥用职权的行为作斗争。监察委员不能兼任其他行政职务，有权出席本级党委会以及苏维埃委员会的一切会议并有发言权。本级党委会必须执行监委通过的决议。这一举措

- A. 确立了高度集中的政治体制
- B. 实现了公权力的制约与平衡
- C. 有益于经济政策的长期施行
- D. 利于维护革命队伍的纯洁性

35. 一位墨西哥学者在论述当代拉丁美洲的文化时指出：“虽然人们已不再像20世纪初那样不加批判地抄袭法兰西的文学艺术时尚，但是种种‘波普艺术’和‘北方庞然大物’的消费模式的表现已深深地渗入了拉丁美洲的文化。”这一观点体现了

- A. 殖民体系的全面崩溃
- B. 发展中国家民族文化的生存困境
- C. 拉美文明的重大贡献
- D. 全球化与区域集团化之间的冲突

第 II 卷 (非选择题, 共 160 分)

二、非选择题: 共 160 分。第 36~42 题为必考题, 每个试题考生都必须作答。第 43~47 题为选考题, 考生根据要求作答。

(一) 必考题: 共 135 分

36. 阅读图文材料, 完成下列要求。(22 分)

新西兰 (图 6) 经济发达, 但南岛、北岛发展不平衡, 全国人口仅 512 万, 76% 的人口分布在北岛。畜牧业为该国经济支柱, 生产高度机械化, 牛肉、羊肉、羊毛等畜产品出口率均高于 80%。工业以轻工业为主, 主要产品有奶制品、毛毯、皮革等。近年来, 新西兰计划发展钢铁、石油化工和农用飞机制造等重工业。

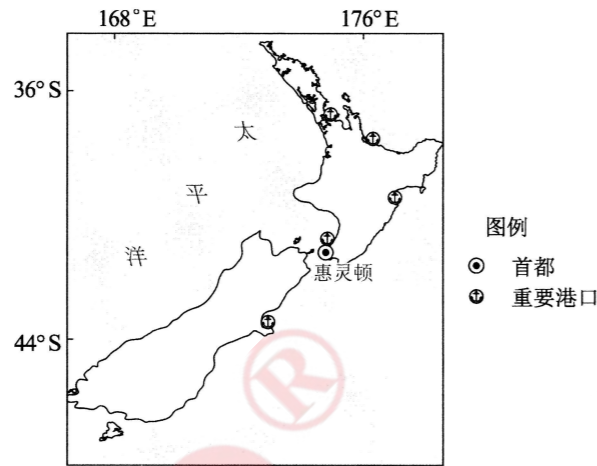


图 6

- (1) 与南岛相比, 简述新西兰北岛重要港口较多的原因。(4 分)
- (2) 简述新西兰畜产品出口率高的原因。(8 分)
- (3) 说明新西兰工业对畜牧业的促进作用。(4 分)
- (4) 有人建议把重工业布局在南岛。你是否赞同? 请表明你的态度并说明理由。(6 分)

37. 阅读图文材料, 完成下列要求。(24 分)

洛须自然保护区于 1997 年成立, 位于金沙江上游甘孜州石渠县, 分布着典型的高原山地森林, 是区域重要的水源涵养地和固碳区。植物碳储量是指植物体中所存储的总碳量, 该保护区森林碳储量集中在陡险坡。图 7 为该保护区地形及不同类型森林碳储量和碳密度分布图。

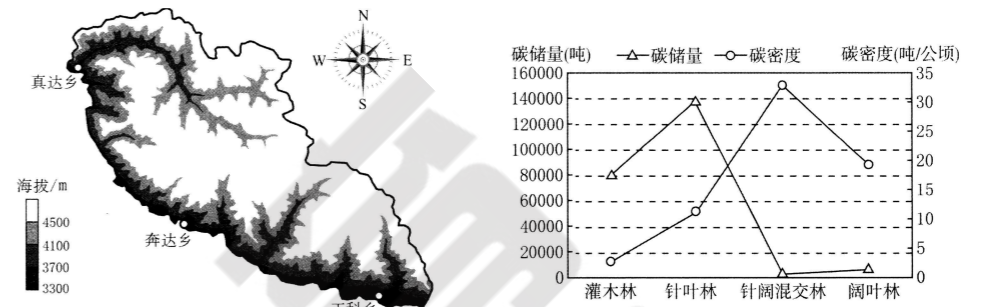


图 7

- (1) 描述该保护区森林碳密度随海拔高度的变化。(4 分)
- (2) 判断该保护区四类森林类型中面积最大的类型, 并说明判断依据。(6 分)
- (3) 该保护区森林碳储量集中在陡险坡, 试对此现象做出合理解释。(6 分)
- (4) 分析该保护区阔叶林碳储量小的原因。(8 分)

38. 阅读材料, 完成下列要求。(14 分)

2023 年是中国提出共建“一带一路”倡议十周年。十年来, 中国与沿线各国坚持共商共建共享原则, 推动“软联通”“硬联通”“心联通”。截至 2023 年 2 月, 中国已与 151 个国家、32 个国际组织签署 200 余份共建“一带一路”合作文件。十年来, 中国与沿线国家货物贸易额从 1.04 万亿美元扩大到 2.07 万亿美元。诸多重点项目落地, 为当地创造了大量就业机会, 许多老百姓也改变了以往没有电、没有路的生活。通过文化、标准、技术对接, 各国人民交流更加频繁, 民心相通带来了国家之间的互信。到 2022 年底, 中欧班列发送货物 160 万标箱, 西部陆海新通道班列发送货物 75.6 万标箱, “钢铁驼队”为保障国际供应链产业链稳定畅通提供了有力支撑。一个个项目在欧亚地区构建起走廊通道, 让东西方人员和货物往来畅通无阻。

如今, “一带一路”已成为重要的国际公共产品和国际合作平台, 朋友圈越来越大, 它犹如一支巨笔, 书写出全人类携手同行的新篇章。

“一带一路”是沿线国家的“发展之路”和人民的“幸福之路”, 为世界经济发展提供了有力支撑。结合材料和经济生活知识对此加以说明。

39. 阅读材料, 完成下列要求。(12 分)

金融是现代经济的核心, 金融安全是国家安全的重要组成部分。近年来, 受国际国内多重因素影响, 我国金融领域的矛盾和问题日益凸显, 亟需调整和完善金融监管体制, 促进金融稳定健康发展。

2023 年 3 月, 《党和国家机构改革方案》发布。根据方案, 在党中央机构改革方面, 组建中央金融委员会、中央金融工作委员会, 由中央金融委员会负责金融稳定和发展的顶层设计、统筹协调、整体推进、督促落实, 研究审议金融领域重大政策、重大问题等。这意味着, 金融监管工作从原来的国务院议事协调上升为党中央决策议事。在国务院机构改革方面, 组建国家金融监督管理总局、中国证券监督管理委员会调整为国务院直属机构、统筹推进中国人民银行分支机构改革、深化地方金融监管体制改革……改革内容涉及金融机构的调整优化, 致力于解决中央和地方、多个部门之间多重监管或监管缺失问题, 建立以中央金融管理部门地方派出机构为主的地方金融监管体制, 以更好地防控金融风险。

结合材料和所学政治生活知识, 说明我国金融监管体制改革对提高金融治理能力的意义。

40. 阅读材料，完成下列要求。(26分)

“实事求是”一词最初出现于东汉，史学家班固在《汉书》中称赞河间献王刘德“修学好古，实事求是”。唐代经学家颜师古注解“实事求是”：务得事实，每求真是也。1941年，毛泽东同志在《改造我们的学习》的报告中，对这句古语作了全新的解释：“‘实事’就是客观存在着的一切事物，‘是’就是客观事物的内部联系，即规律性，‘求’就是我们去研究。”从此，“实事求是”作为中国化的马克思主义哲学的核心命题，成为党的思想路线的精髓。在党百年奋斗历程中，坚持农村包围城市、武装夺取政权的革命道路，走中国特色社会主义道路，发展中国式现代化等一系列重大决策和取得的重大成果，都是在坚持实事求是精神的指引下进行的。

重视调查研究，是我们党一以贯之的优良传统。习近平总书记强调，“要大兴调查研究之风，多到分管领域的基层一线去，多到困难多、群众意见集中、工作打不开局面的地方去，体察实情、解剖麻雀，全面掌握情况，做到心中有数”。当前，面对繁重艰巨的国内改革发展稳定任务和复杂多变的外部环境，迫切需要到基层去、到群众中去，开展实地调研，听真话、察实情，认真研判面临的新情况、新问题，找到破解难题的办法和路径。然后结合本地区本部门的实际情况，努力把调研成果转化为破解难题的实招、硬招，以调研成果推动工作落实。2023年3月，中共中央办公厅印发《关于在全党大兴调查研究的工作方案》，要求各地区各部门结合实际认真贯彻落实。

(1) 结合材料和文化生活知识，说明党的实事求是精神对当代青年担当民族复兴大任有何启示。(10分)

(2) 结合材料，运用实践是认识基础的知识，说明在全党大兴调查研究的重要意义。(12分)

(3) 在中国古诗文中，有许多强调实践重要性的词句，请你列举两例。(4分)

41. 阅读材料，完成下列要求。(25分)

材料一 在古代中国，历代王朝在与边疆少数民族政权的交流与冲突中，逐渐产生了“守中治边”“守在四夷”的边疆观。第二次鸦片战争后，清政府在与西方列强的交涉中，使用了“专辖之内洋”“公共海洋”“万国律例”等近代国际法术语。甲午战后，清政府开始在沿海地区、海岸带、海岛上建立军事设施并派兵驻守。民国初年，政府每交涉边务时，中方必然“查察地势，会勘情形”。1937年，国民政府教育部颁布边疆教育计划大纲，明确表述“国境之边界或边缘地带，谓之地理的边疆”。由此，在国人边疆观念之中，对边疆外围的认识不再是漫无边际的空间想象，而是形成了一道稳定而明晰的边界线。

——据周平《中国的边疆及边疆治理》

材料二 19世纪中期，美国人视开疆拓土为上帝赋予的使命，不断向西扩张，把陆地边疆推进到太平洋沿岸。受马汉海权扩张理论和特纳的“移动边疆”理论影响，19世纪末美国依次获取了夏威夷、菲律宾、波多黎各等海外殖民地。二战后，“战略边疆”被美国纳入边疆观念的体系中，并逐步向全世界乃至外太空扩张。1960年，肯尼迪政府提出“新边疆”政策，对亚洲、非洲、拉丁美洲的不发达国家提供了大量援助，以此阻止其向苏联靠拢。1981年，里根政府首次提出“高边疆”战略，后将其列入国家开发太空的军事、科学计划；20世纪80年代中期，又提出了“利益边疆”概念，明确强调“商业发展到哪里，我们的国家利益伸展到哪里，军队就应该跟到哪里，不管是在陆地、海洋还是空中”。

——据李朝辉《中美两国边疆观形成与演进对比研究》

(1) 根据材料一并结合所学知识，指出近代中国边疆观念的主要变化。(8分)

(2) 根据材料二并结合所学知识，概括近代以来美国边疆观念的基本特点，并分析这些特点形成的原因。(12分)

(3) 根据材料并结合所学知识，谈谈你对边疆安全的认识。(5分)

42. 阅读材料，完成下列要求。(12分)

成都杜甫草堂，是唐代诗人杜甫流寓成都时的故居，他曾在此创作了240余首诗歌。唐末诗人韦庄寻得草堂遗址，重结茅屋，宋元明清历代修葺扩建，使之成为中国保存最完好、最具特色的杜甫行踪遗迹地。据不完全统计，杜甫草堂现有馆藏珍贵文献3万余册(含十数种语言的外译本和朝鲜、日本出版的刻本120余部)；各类文物2000余件，包括古今与杜甫及杜诗有关的碑刻、书画、对联、印章等，它们共同构成杜甫草堂“文本化的风景”。

表3 成都杜甫草堂部分“文本化风景”

内 容	来 源
所以见公像，再拜涕泗流。推公之心古亦少，愿起公死从之游。	北宋王安石为《杜甫画像》题诗(部分)
异代不同时，问如此江山，龙蜺虎卧几诗客？先生亦流寓，有长流天地，月白风清一草堂。	晚清名士顾复初于光绪年间题写、现代书法家邵章补书
世上疮痍，诗中圣哲；民间疾苦，笔底波澜。	学者郭沫若1953年题联
安得广厦千万间，大庇天下寒士俱欢颜，风雨不动安如山！	学者谢无量1955年书杜甫《茅屋为秋风所破歌》(部分)
对人类最伟大的诗人致以最崇高的敬意。	法国前总统希拉克2004年题词

——据《杜甫草堂诗艺文研究》等整理

围绕杜甫草堂“文本化的风景”，提炼出一个观点，并结合材料中的信息和所学知识予以解读。(要求：观点明确，史论结合，表述清晰)

(二) 选考题: 共 25 分

请考生在第 43、44 两道地理题中任选一题作答, 如有多做, 则按所做第一题计分。并用 2B 铅笔在答题卡上把所选题目题号后的方框涂黑。

43. [地理—选修 3: 旅游地理] (10 分)

某企业利用其位于杭州钱塘区工业园内闲置空地, 依托工业园优质参观游览区及完整配套设施, 以太空作为设计灵感, 打造集参观游览、商务游学、研学实践、亲子体验、一站式购物、个性化服务等功能为一体的浙江省工业旅游示范基地。自 2022 年 6 月正式营业以来, 基地接待游客量近 7 万人次, 游客满意度达 98% 以上。

说明该基地游客满意度高的原因。

44. [地理—选修 6: 环境保护] (10 分)

雨水资源水权交易是指企业通过汇总绿地、屋顶和地面的雨水, 经过截污、过滤等处理后存储, 再以比城市自来水低 20% 的价格转让给市政环卫部门, 用来替代园林绿化、环卫清扫所需的自来水。至 2022 年底, 长沙市已累计建设雨水收集利用工程 1000 余处, 完成总量约 6 万立方米的水权交易, 形成了多元化雨水综合利用系统。

分析长沙市实施雨水资源水权交易对当地水环境的有利影响。

请考生在第 45、46、47 三道历史题中任选一题作答, 如果多做, 则按所做第一题计分。并用 2B 铅笔在答题卡上把所选题目题号后的方框涂黑。

45. [历史—选修 1: 历史上重大改革回眸] (15 分)

材料 金灭辽后, 沿袭以词赋为科目的科举制, 既无定数, 亦无定期。金灭北宋后, 金太宗“以辽、宋之制不同, 诏南、北各因其所习之业取士, 号为南北选”。金熙宗即位后, 实行乡、府、省三级考试制度, 三年一试, 由于南北士人学习内容渐趋一致, 南北均以经义、词赋两科录取文士。海陵王时, “并南北选为一, 命以五经、三史正文内出题”。其后, 金世宗决定对女真学生单独开设进士科, 且诏京师设女真国子学, 教材以译成女真文字的儒家典籍为主。不同于中原王朝以诗赋取士, 女真科考只考一场试策, 五百字即可, 且使用女真文字。到金中后期, 女真族文人辈出, 读书著文蔚然成风。此后在元、清两朝都出现过分榜取士的做法。

——据白寿彝主编《中国通史(辽宋夏金卷)》等

(1) 根据材料并结合所学知识, 概括金朝前中期科举改革的特点。(7 分)

(2) 根据材料并结合所学知识, 简析金朝前中期科举改革的意义。(8 分)

46. [历史—选修 3: 20 世纪的战争与和平] (15 分)

材料 20 世纪初期, 把战争看作一种政治工具的观点被欧洲各国统治者普遍接受, 第一次世界大战爆发前, 各国军事领导人对战争后果丝毫没有担忧。然而, 战争的庞大损失引发了各国的反思。1928 年多国签署的《非战公约》宣布“废弃以战争作为推行国家政策的工具”, 强调“一切争端或冲突, 不论其性质或起因如何, 只能用和平方法加以处理或解决”。这一观念在 30 年代风行一时, 甚至在德、意法西斯上台后, 各国的和平主义者仍天真地信守着废弃战争的承诺。但事与愿违, 新的世界战争再次爆发。二战结束后, 法西斯的残暴统治令人们不得不重新考虑原来对战争的认识: 简单地否定战争并不能永久地保住和平。这种认识直接导致了正义战争论的衍生——当一个独立国家的领土完整和政治主权受到侵略时, 其自卫战争是正当的。

——据梁占军《第二次世界大战前后国际战争观的转向与衍生》

(1) 根据材料并结合所学知识, 概括 20 世纪战争观的变化。(6 分)

(2) 根据材料并结合所学知识, 简析 20 世纪战争观变化的共同原因。(9 分)

47. [历史—选修 4: 中外历史人物评说] (15 分)

材料 宋庆龄是中国妇女解放运动的前驱和领导者。1913 年, 她在美国就读大学的校刊上发表文章论述男女平等的必然性。国民革命时期, 她指出东西方妇女应为改造世界联合起来, 为反对帝国主义、殖民主义而战斗, 还与共产党员向警予、邓颖超亲密合作, 支援妇女罢工。抗日战争期间, 面对国统区内对妇女运动的压制与“贤妻良母主义”的鼓吹, 她号召妇女砸碎精神上的封建枷锁, 积极参加社会生产, 投身抗战。1949 年 12 月, 宋庆龄在亚洲妇女代表会议上倡议各国对妇女开展扫盲和技术培训, 推动妇女参政, 建立更多产科医院、幼儿园, 让妇女从家务中解放。晚年宋庆龄依然坚持推动妇女权益保护, 为新中国乃至世界妇女解放事业做出卓越贡献。

——据盛永华《宋庆龄与中国妇女解放运动》

(1) 根据材料并结合所学知识, 概括宋庆龄妇女解放思想的内涵。(8 分)

(2) 根据材料并结合所学知识, 指出宋庆龄致力于妇女解放运动的原因。(7 分)

成都市2020级高中毕业班第三次诊断性检测
文科综合答题卡

姓名	座位号
贴条形码区 (正面朝上切勿贴出虚线框外)	
考籍号	

考生禁填

缺考标记

缺考考生由监考员贴条形码,并用2B铅笔填涂上面的缺考标记。

注意事项

- 1 答题前,考生务必先认真核对条形码上的姓名、考籍号和座位号,无误后将本人姓名、考籍号和座位号填写在相应位置,同时将背面左上角相应的座位号涂黑。
- 2 选择题填涂时,必须使用2B铅笔按图示规范填涂;非选择题必须使用0.5毫米的黑色签字笔作答。
- 3 必须在题目所指示的答题区域内作答,超出答题区域的答案无效,在草稿纸、试卷卷上答题无效。
- 4 保持答题卡清洁、完整,严禁折叠,严禁使用涂改液和修正带。

第 I 卷

(须用2B铅笔填涂)

填涂样例 错误填涂 正确填涂

- | | | | |
|--------------------|--------------------|--------------------|--------------------|
| 1 [A] [B] [C] [D] | 6 [A] [B] [C] [D] | 11 [A] [B] [C] [D] | 16 [A] [B] [C] [D] |
| 2 [A] [B] [C] [D] | 7 [A] [B] [C] [D] | 12 [A] [B] [C] [D] | 17 [A] [B] [C] [D] |
| 3 [A] [B] [C] [D] | 8 [A] [B] [C] [D] | 13 [A] [B] [C] [D] | 18 [A] [B] [C] [D] |
| 4 [A] [B] [C] [D] | 9 [A] [B] [C] [D] | 14 [A] [B] [C] [D] | 19 [A] [B] [C] [D] |
| 5 [A] [B] [C] [D] | 10 [A] [B] [C] [D] | 15 [A] [B] [C] [D] | 20 [A] [B] [C] [D] |
| 21 [A] [B] [C] [D] | 26 [A] [B] [C] [D] | 31 [A] [B] [C] [D] | |
| 22 [A] [B] [C] [D] | 27 [A] [B] [C] [D] | 32 [A] [B] [C] [D] | |
| 23 [A] [B] [C] [D] | 28 [A] [B] [C] [D] | 33 [A] [B] [C] [D] | |
| 24 [A] [B] [C] [D] | 29 [A] [B] [C] [D] | 34 [A] [B] [C] [D] | |
| 25 [A] [B] [C] [D] | 30 [A] [B] [C] [D] | 35 [A] [B] [C] [D] | |

第 II 卷 【必考题】

(须用0.5毫米的黑色签字笔书写)

36.(1)

(2)

(3)

(4)

请在各题规定的黑色矩形区域内答题,超出该区域的答案无效!

请在各题规定的黑色矩形区域内答题,超出该区域的答案无效!

37.(1)

(2)

(3)

(4)

请在各题规定的黑色矩形区域内答题,超出该区域的答案无效!

请在各题规定的黑色矩形区域内答题,超出该区域的答案无效!

39.

40.(1)

(2)

请在各题规定的黑色矩形区域内答题,超出该区域的答案无效!

请在各题目的答题区域内作答,超出答题区域的答案无效

请在各题规定的黑色矩形区域内答题,超出该区域的答案无效!

(3)

41.(1)

(2)

请在各题规定的黑色矩形区域内答题,超出该区域的答案无效!

请在各题规定的黑色矩形区域内答题,超出该区域的答案无效!

(3)

42.

请在各题规定的黑色矩形区域内答题,超出该区域的答案无效!

请在各题规定的黑色矩形区域内答题,超出该区域的答案无效!

第II卷【选考题】

以下为选考题,每个答题区只允许选答一题,答题前,请考生务必将所选题号用2B铅笔涂黑。

地理选考题

[43]

[44]

请考生从43、44两题中任选一题作答,并用2B铅笔将所选题号涂黑,多涂、错涂、漏涂均不得分,如果多做,则按所做的第一题计分。

历史选考题

[45]

[46]

[47]

请考生从45、46、47三题中任选一题作答,并用2B铅笔将所选题号涂黑,多涂、错涂、漏涂均不得分,如果多做,则按所做的第一题计分。

(1)

(2)

请在各题规定的黑色矩形区域内答题,超出该区域的答案无效!

请在各题目的答题区域内作答,超出答题区域的答案无效

请在各题目的答题区域内作答,超出答题区域的答案无效