

成都市 2017 级高中毕业班第三次诊断性检测

文科综合

本试卷分选择题和非选择题两部分。第 I 卷(选择题)1 至 7 页,第 II 卷(非选择题)8 至 12 页,共 12 页;满分 300 分,考试时间 150 分钟。

注意事项:

1. 答题前,务必将自己的姓名、考籍号填写在答题卡规定的位置上。
2. 答选择题时,必须使用 2B 铅笔将答题卡上对应题目的答案标号涂黑,如需改动,用橡皮擦擦干净后,再选涂其它答案标号。
3. 答非选择题时,必须使用 0.5 毫米黑色签字笔,将答案书写在答题卡规定的位置上。
4. 所有题目必须在答题卡上作答,在试题卷上答题无效。
5. 考试结束后,只将答题卡交回。

第 I 卷 (选择题,共 140 分)

一、选择题:本大题共 35 小题,每小题 4 分,共 140 分。在每小题给出的四个选项中,只有一项是符合题目要求的。

我国甘蔗种植地主要限于北纬 24°以南地区,多为春播秋收,播种期一般要求气温 13°C 以上,高温潮湿利于其生长,气温日较差大的冷凉干燥、晴朗无霜的天气对甘蔗成熟及品质提高非常有利。近年来石家庄、青岛等城市郊区出现了甘蔗种植地块。图 1 为南方甘蔗生长后期剥掉枯黄脚叶景观图。据此完成 1~3 题。



图 1

1. 与南方相比,石家庄、青岛等城郊种植的甘蔗
 - A. 育苗成本较低
 - B. 播种时间较晚
 - C. 甘蔗汁更丰富
 - D. 病虫害较多
2. 石家庄、青岛等城市郊区发展甘蔗种植主要目的是
 - A. 弥补制糖原料不足
 - B. 满足居民鲜食需要
 - C. 培育甘蔗新的品种
 - D. 缓解南北交通压力

3. 在我国南方地区,甘蔗生长后期往往需要剥掉枯黄脚叶,其主要目的是
 - ①提高甘蔗的品质
 - ②保持土壤湿润
 - ③提高甘蔗的产量
 - ④使甘蔗免遭冻害
 - ⑤增加甘蔗田的通透性
 - A. ①③⑤
 - B. ②③⑤
 - C. ①③④
 - D. ②④⑤

甲国富煤贫油少气,煤电是该国主要的电力来源。为应对煤炭资源枯竭与能源需求增加的矛盾,该国提出了可再生能源发展战略。图 2 为甲国区域示意图。据此完成 4~6 题。

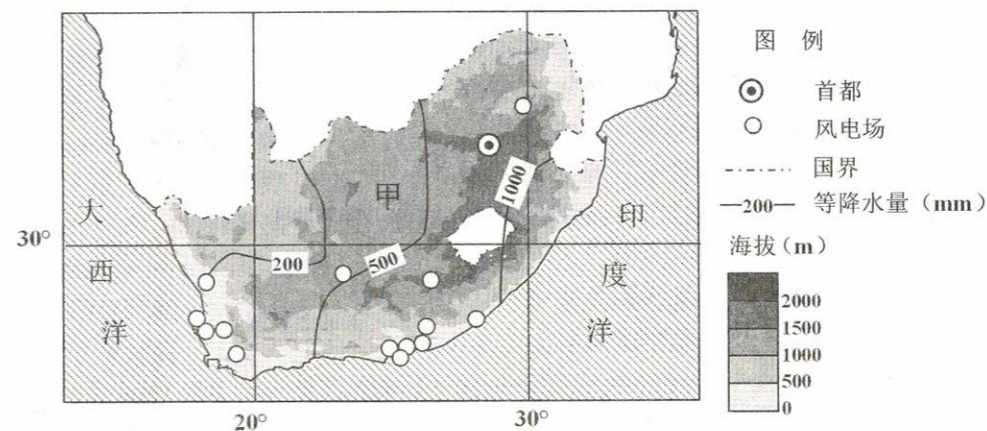


图 2

4. 该国西部沿海风电场发电量最丰富的时段为
 - A. 12—2 月
 - B. 3—5 月
 - C. 6—8 月
 - D. 9—11 月
5. 除风能外,该国最有可能重点发展的可再生能源是
 - A. 沼气
 - B. 潮汐能
 - C. 太阳能
 - D. 核能
6. 造成该国降水空间分布特征的主要原因是
 - A. 受印度洋东南信风的影响
 - B. 受沿岸洋流的影响
 - C. 受大西洋盛行西风的影响
 - D. 受地形地势的影响

江西篁岭古村为典型的徽派建筑,多为砖木构造,异常古朴。马头墙(图 3 左图)特指高于屋面的墙垣,因形状酷似马头而得名。篁岭因晒秋闻名遐迩,当秋日的阳光把古村唤醒时,家家户户利用房前屋后及自家窗台屋顶架晒、挂晒辣椒、夏菊、玉米、稻谷等农作物,整个山村变成色彩斑斓的画卷。图 3 右图为篁岭古村晒秋图。据此完成 7~8 题。




图 3

7. 马头墙的主要功能是
A. 遮风 B. 挡雨 C. 防火 D. 防盗
8. 决定篁岭古村农产品晾晒方式的主要因素是
A. 房屋朝向 B. 天气状况 C. 建筑风格 D. 地形地势

为了研究陕北地区季节性冻土坡面与未冻土坡面受雨水侵蚀出现的产沙强度情况差异,某研究小组模拟相同降雨强度($1.2\text{mm}\cdot\text{min}^{-1}$)持续 60 分钟的降水对比实验,其产沙强度情况如图 4 所示。据此完成 9~11 题

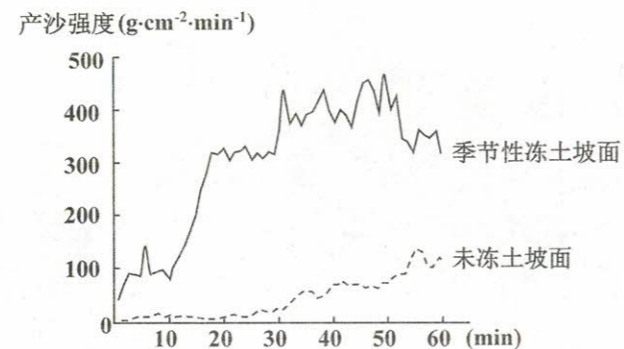


图 4

9. 季节性冻土最大深度主要取决于
A. 土壤孔隙度 B. 土壤厚度 C. 地表起伏 D. 地表温度
10. 未冻土坡面前 25 分钟产沙强度增长微弱的主要原因可能是
A. 降水强度小 B. 坡面径流小 C. 地下径流小 D. 雨水下渗小
11. 季节性冻土坡面 10—20 分钟阶段产沙强度迅速上升的原因可能是
A. 坡面细沟出现 B. 坡面径流减小 C. 坡面植被破坏 D. 坡面沟谷稳定
12. 许多原本的奢侈品往往到最后会成为生活必需品。比如,上世纪 90 年代初,一部被称为“大哥大”的无线可移动电话要上万元人民币,是实实在在的奢侈品。而现在,一部具有上网、照相、通话等多种功能的智能手机一般只要几千元,成了人们的生活必需品。对这类现象解读正确的是
①奢侈品和生活必需品是相对的,会随经济条件变化而变化
②一种商品是奢侈品还是生活必需品,取决于商品价格高低
③技术进步使奢侈品变为生活必需品,商品的需求弹性变小
④从奢侈品演变为生活必需品,往往是一个行业衰退的开始
A. ①② B. ①③ C. ②④ D. ③④
13. 2020 年 3 月,为应对疫情带来的不利影响,某线上平台开发非接触式产品服务,通过视频、VR360 度全息影像方式打造线上博物馆,让大众足不出户即可观赏祖国的文化瑰宝,一经推出便受到消费者的热捧。这一做法的成功之处在于
①降低生产成本,增强盈利能力 ②创新消费方式,提升消费体验
③运用现代科技,开发新兴市场 ④提高生产效率,增加产品供给
A. ①③ B. ①④ C. ②③ D. ②④

14. 2020 年 3 月 30 日,《中共中央国务院关于构建更加完善的要素市场化配置体制机制的意见》发布,明确了土地、劳动力、资本、技术、数据等五个要素领域的改革方向,要求畅通要素流动渠道,保障不同市场主体平等获取生产要素,推动要素配置依据市场规则、市场价格、市场竞争实现效益最大化和效率最优化。这一改革意在
①弱化政府对要素市场的监管,激发要素市场的活力
②完善要素自由流动的体制机制,全面放开要素市场
③充分发挥市场的决定性作用,提高要素的配置效率
④营造良好的营商环境,让创造创新的源泉充分涌流
A. ①② B. ①③ C. ②④ D. ③④
15. 新冠肺炎疫情发生以来,国际物流中的海运、空运不同程度受阻,而横跨欧亚大陆的中欧班列却凭借独特优势逆势增长。2020 年 4 月,中欧班列总开行 979 列、运送货物 8.8 万标箱。其中,去程同比增长六成以上,回程同比增长近三成。这有利于
①稳定国际供应链,助力全球共同抗击新冠肺炎疫情
②促进沿途国家的经贸往来,高质量共建“一带一路”
③转变对外贸易发展方式,推动外贸结构的优化升级
④打破贸易壁垒,助推国内企业参与国际竞争与合作
A. ①② B. ①④ C. ②③ D. ③④
16. 2019 年 6 月开始,中国共产党在全党开展了“不忘初心、牢记使命”主题教育。各级党组织有力推动,广大党员、干部积极投入,人民群众热情支持,取得了重大成果。党的十九届四中全会提出,“建立不忘初心、牢记使命的制度”,把不忘初心、牢记使命作为加强党的建设的永恒课题和全体党员、干部的终身课题。此举意在
①坚持不懈地锤炼党员、干部忠诚干净担当的政治品格
②匡正党风、严明党纪,为全面从严治党提供法治支撑
③推进主题教育常态化长效化,永葆党的先进性和纯洁性
④完善人民当家作主的制度体系,发展社会主义民主政治
A. ①② B. ①③ C. ②④ D. ③④
- 全面打赢脱贫攻坚战是党对全国人民庄严的承诺,也是时代的历史责任。回答 17—18 题。
17. 凉山彝族自治州是四川打赢脱贫攻坚战的主战场。2020 年,四川全省需要实现 7 个贫困县摘帽、300 个贫困村退出、20 万贫困人口脱贫。全省剩余贫困人口中,87%在凉山,县摘帽、村退出的脱贫任务全在凉山。推动少数民族地区全面脱贫致富
①对我国实现全面建成小康社会的目标具有重要意义
②是少数民族地区经济社会各项事业全面发展的前提
③旨在切实保障少数民族管理本民族内部事务的权利
④能够增强实现民族平等和维护民族团结的物质基础
A. ①③ B. ①④ C. ②③ D. ②④

18. 30年前,下党乡是福建省唯一一个无公路、无自来水、无电灯照明、无财政收入、无政府办公场所的“五无乡镇”,人们的生产生活条件十分艰苦。在党和政府的关怀下,下党乡干部群众齐心协力,发挥“滴水穿石”的奋斗精神,在绝壁上修路、在大山中谋发展,成功实现了整体脱贫。这表明

- ①持续进行量的积累必然引起事物质的飞跃
- ②坚定的意志能够在实践中转化为物质力量
- ③离开人的主观能动性就不会有质变的发生
- ④坚持不懈奋斗能改变事物变化的必然趋势

A. ①② B. ①④ C. ②③ D. ③④

2017年,中央提出加强规划建设一批国家文化公园,使之成为中华文化重要标识。2019年,国家文化公园建设进入实质性推进阶段。回答19—20题。

19. 2019年11月,全国政协文化文史和学习委员会视察团在江西进行考察,委员们就如何落实党中央关于革命文物保护利用和国家文化公园建设有关精神,进一步加强长征文物保护和红色旅游线路建设等问题与江西方面进行了深入的交流。这体现了全国政协

- ①参与政治协商完善党的文化发展方针
- ②通过协商民主推动文化政策有效实施
- ③积极建言献策履行参政议政国家职能
- ④加强民主监督推进革命文化保护传承

A. ①② B. ①③ C. ②④ D. ③④

20. 2019年12月,中共中央办公厅、国务院办公厅印发《长城、大运河、长征国家文化公园建设方案》,强调要以长城、大运河、长征沿线一系列主题明确、内涵清晰、影响突出的文物和文化资源为主干建设国家文化公园。这是基于

- ①保护和传承文化遗产有利于守住民族文化的根脉
- ②开发利用是推动文化遗产保护和传承的根本途径
- ③让文化遗产“活”起来能够增强人们的文化自信
- ④挖掘文化遗产的经济价值才能够发挥其社会效益

A. ①② B. ①③ C. ②④ D. ③④

21. 澳门回归祖国20年来,特区政府全面贯彻“一国两制”方针,通过各种方式进行公民爱国主义教育,增进澳门人民对国家发展成就的了解,激发他们心向祖国、为国效力的责任感,使这20年成为经济社会发展最快的时期。由此可见,爱国主义

- ①在澳门被赋予了新的时代内涵
- ②是支配澳门前途与命运的决定力量
- ③为澳门的繁荣提供了根本保证
- ④成为澳门人民团结奋斗的一面旗帜

A. ①③ B. ①④ C. ②③ D. ②④

22. 2020年3月20日,中共中央、国务院印发《关于全面加强新时代大中小学劳动教育的意见》,强调把劳动教育纳入人才培养全过程,贯通大中小学各学段,贯穿家庭、学校、社会各方面,积极探索具有中国特色的劳动教育模式,促进学生形成正确的世界观、人生观、价值观。为此应该

- ①把握育人导向,把引导学生树立正确劳动观作为劳动教育的归宿
- ②抓住关键环节,将生产劳动设置为各级各类学校的核心课程内容
- ③体现时代特征,适应现代科技发展要求提高学生创造性劳动能力
- ④尊重教育规律,根据学生年龄特点开设相应课程提升育人实效性

A. ①② B. ①③ C. ②④ D. ③④

23. 1990年4月,中央同意上海浦东实行经济技术开发区和经济特区的特殊政策,浦东新区的开发正式开启。30年来,从初期的“小政府、大社会”,到自贸区成立后的外商投资负面清单、商事登记制度改革,一项项“浦东试点”上升为“中国经验”。这说明

- ①“认识—实践—再认识”是成功改革的必由之路
- ②改革是推动中国特色社会主义发展的强大动力
- ③符合客观实际的改革政策具有直接现实性特征
- ④制度创新是全面深化改革顺利推进的重要保证

A. ①② B. ①③ C. ②④ D. ③④

24. 成书于战国末期的《吕氏春秋》,用拼凑式的做法把诸子百家思想综合起来,并不追求一个内在的思想系统,成为“兼儒墨,合名法”“于百家之道无不贯通”的“杂家”代表作。这

- A. 反映了学术创新的停滞
- B. 重振了百家争鸣的气象
- C. 体现了政治统一的趋势
- D. 阻碍了社会经济的转型

25. 西汉盛行比武、斗兽、狩猎等危险、激烈的体育娱乐活动,数量众多的社会上层分子和文人也亲身参与。由此可见,当时

- A. 军事形势严峻
- B. 弃文从武成风
- C. 贵族引领时尚
- D. 世风阳刚劲健

26. 西晋和东晋政权面临着政治上与经济上的双重压力,在长达近一个半世纪的时期内未曾铸造铜钱。但在民间,汉五铢钱和各种旧钱并行,且盗铸铜钱现象严重。这表明当时

- A. 庶族掌控铸币实权
- B. 民间力量制约皇权
- C. 商品经济仍具活力
- D. 抑商观念上下背离

27. 明代以前,关庙主要集中在“燕赵荆楚”之间,但在作为关羽“敌国”的原吴国地区,关羽信仰较为淡漠。明万历年间,关羽被朝廷加封为“协天护国忠义大帝”,成为司科举之命的“武曲星”。由此,江南文士积极修建关庙,关羽信仰逐步在民间普及。这反映出

- A. 北方经济影响力增强
- B. 南北文化格局发生剧变
- C. 儒教纲常走向社会化
- D. 政府引导社会文化整合

28. 图5为1893年汉口租界工部局设立的汉口书信馆(Hankow Local Post Office,即汉口商埠邮局)发行的邮票,图上是一位挑运茶叶的农民。这可以用来说明

- A. 茶叶贸易在汉口具有独特地位
- B. 租界当局主导了武汉的近代化
- C. 个体劳动仍是生产活动的主体
- D. 中西文化融合成为了社会主流

29. 第一次国共合作时期,国共两党都认为,妇女缠足是受到男人、礼教等的压迫。国共关系破裂后,该观念在国民党的话语体系中逐渐淡出,而共产党则继续高举反封建的旗帜开展反缠足运动。这反映出

- A. 国共两党关系受制于社会性质变化
- B. 新文化运动对国共两党的影响不同
- C. 国民党与封建势力相互勾结反对放足
- D. 中共坚持革命理想与现实政治的统一



图5

30. 抗战时期,中国共产党《新华日报》关于百团大战和太平洋战争的报道分别为 110 篇、65 篇,其中使用“我军”等第一人称代词分别为 208 次、30 次。国民党《中央日报》的同类报道分别为 71 篇、69 篇,使用“我军”等第一人称代词分别为 2 次、48 次。二者报道的差异反映出
- A. 中共开始构建独立话语体系
B. 意识形态影响媒体报道立场
C. 国家命运主导媒体报道策略
D. 国共合作深受国际形势制约

31. 图 6 所示为现代中国某一时期迅速发展的几类农民专业合作组织。这些组织
- A. 促进了现代工业体系初步建立
B. 导致了农业劳动力向城市转移
C. 改变了家庭联产承包经营体制
D. 有利于农民共享产业发展成果

能人大户带动型
农技部门牵头型
农产品批发中介型
基层供销社改造型
农业龙头企业联结型

图 6

32. 罗马帝国时代,出现了这样一种流行趋势:不允许分离奴隶的家庭,不能单独出卖丈夫而留下妻子和孩子;人们正式地埋葬奴隶,而不是让他们暴尸荒野或是让其他奴隶埋葬他们。这种趋势说明
- A. 罗马劳动力日益匮乏
B. 自然法观念影响增强
C. 奴隶的政治地位提高
D. 万民法得以贯彻实施
33. 1853 年,马克思在致恩格斯的信中称,英国殖民者对印度土地公有制和村社制度的破坏是一场“革命”,认为它充当了印度社会发展的“历史的不自觉的工具”。1879 年,马克思在笔记中指出,印度村社等传统制度存在着发展动力,英国殖民者的破坏行为“不是使当地人民前进,而是使他们后退”。可见,马克思
- A. 批判了资本主义文明的扩张性
B. 认识到现代化道路具有多样性
C. 揭示了传统文明消亡的危害性
D. 强调了殖民主义影响的进步性

34. 表 1 1881~1953 年英国皇家学会会员数量变化表(单位:人)

来源 时间	杰出的 门外汉	船员	应用 科学家	非实用的 科学家	牧师	其他
1881 年	54	13	62	134	14	201
1914 年	38	6	79	289	4	57
1953 年	8	2	134	348	0	55

皇家学会作为英国最具名望的科学学术机构,吸纳了各行业的人才。据表 1 可知,当时英国

- A. 科学研究的职业化趋势日益明显
B. 自然科学摆脱了宗教神学控制
C. 业余爱好者的科研兴趣持续降低
D. 科学转换为生产力的速度加快
35. 20 世纪 50 年代起,俄语和东欧研究一直是美国政府支持的重点。到了 80 年代,美国政府则特别重视日语、汉语及其相关研究,汉语更是成为其第一关键外语。美国的政策调整
- A. 实现了其外交重心的东移
B. 反映了冷战形势的缓和
C. 体现了其国际战略的前瞻性
D. 推动了国际格局的多极化

第 II 卷 (非选择题,共 160 分)

二、非选择题:共 160 分。第 36~42 题为必考题,每个试题考生都必须作答。第 43~47 题为选考题,考生根据要求作答。

(一)必考题:共 135 分

36. (24 分)阅读图文材料,回答下列问题。

20 世纪 80 年代以来,浙江广大村镇逐渐形成了“一村一品、一镇一品”的区域经济格局。诸暨市的大唐镇起初只有零星的几户家庭制袜作坊,随后迅速发展,袜子产量迅速提升,当地政府确立了“以贸兴镇”的发展思路,建立袜子交易市场。目前大唐镇的袜子产量占全球三分之一左右,成为名副其实的“中国袜都”,使越来越多的袜机制造厂、纺纱厂等相关企业逐渐在大唐镇集聚。图 7 为大唐镇位置图。



图 7

- (1) 说明大唐制袜企业最初以家庭作坊为主的优势。(6 分)
(2) 简述“一村一品、一镇一品”模式对村镇企业发展的积极作用。(4 分)
(3) 分析大唐镇“以贸兴镇”的有利条件。(8 分)
(4) 分析袜机制造厂、纺纱厂等企业向大唐镇集聚的原因。(6 分)

37. (22 分)阅读图文材料,回答下列问题。

青藏高原被称为“世界屋脊”,平均海拔 4000 米以上,光照充足,太阳辐射强,夏季高原气温较周边同高度大气高出 4°C — 6°C ,甚至达 10°C 。高原面的热力上升运动,带动四周水汽向高原集聚辐合上升,形成降水,使高原面上冰川、积雪广布,成为众多湖泊、大江大河的补给来源,被称为“亚洲水塔”。高原面上的热力上升运动对周边地区也产生重大的影响,甚至打破周边区域的水平衡,如导致我国塔里木盆地水资源越来越少。图 8 为夏季热力作用下青藏高原与周边地区大气运动示意图。

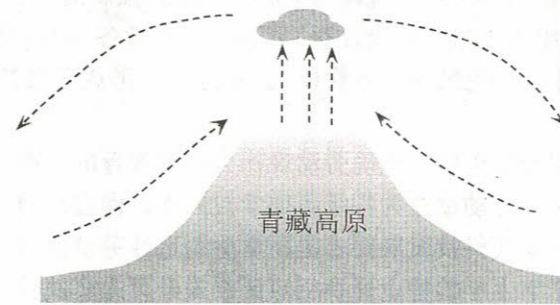


图 8

- (1)分析夏季青藏高原气温较周边同高度大气高的原因。(8分)
- (2)分析青藏高原的隆升导致塔里木盆地水资源越来越少的的原因。(8分)
- (3)简述近几十年全球气候变暖对青藏高原冰川积雪、湖泊产生的影响。(6分)

38. (14分)阅读材料,完成下列要求。

新冠肺炎疫情突如其来,给经济社会发展带来了巨大的冲击。但经济社会是一个动态循环系统,不能长时间停摆。2020年4月17日召开的中央政治局会议强调,要在常态化疫情防控中全面推进复工复产达产,恢复正常经济社会秩序,要积极扩大有效投资,加强传统基础设施和新型基础设施投资。

传统基建主要是指铁路、公路、机场、水利工程等基础设施建设。“新基建”主要包括三个方面:一是信息基础设施,指基于新一代信息技术演化生成的基础设施,比如5G、物联网、人工智能、区块链、数据中心等基础设施;二是融合基础设施,指深度应用互联网、大数据、人工智能等技术推动传统基础设施转型升级的建设,如智能交通、智慧能源等基础设施;三是创新基础设施,指支撑科学研究、技术开发、产品研制等具有公益属性的基础设施,如重大科技基础设施、科教基础设施等。

加强“新基建”不仅对当前经济社会发展具有重要意义,而且将成为支撑未来中国经济社会繁荣发展的重要基石。请运用经济生活知识并结合材料对此加以说明。

39. (10分)阅读材料,完成下列要求。

1955年,国务院作出交通大学内迁西安的重大决定。从1956年到1959年,四年中迁校总人数达一万五千余人。在迁校以及新校建设发展历程中,广大师生员工克服各种艰难险阻,在田野四围的简陋校舍中认真开展教学和科研,取得了丰硕的成果,形成了“胸怀大局、无私奉献、弘扬传统、艰苦创业”的“西迁精神”,为西部发展、国家建设奉献了智慧和力量。

2020年4月22日,习近平总书记在西安交通大学考察时勉励广大师生不忘初心、牢记使命,大力弘扬“西迁精神”,抓住新时代新机遇,到祖国最需要的地方建功立业,在新征程上创造属于我们这代人的历史功绩。

结合材料和中华民族精神的知识,谈谈新时代青年应如何弘扬“西迁精神”,在新征程上创造属于我们这代人的历史功绩。

40. (28分)阅读材料,完成下列要求。

材料一 “绿水青山就是金山银山”理念的核心内容是,经济发展不能以破坏生态为代价,生态本身就是经济,保护生态就是发展生产力。

上世纪90年代,浙江安吉县为发展经济,大力发展造纸、化工、建材、印染等产业,GDP高速增长的红火,却掩盖不住溪流浑浊、烟尘漫天的黯淡。痛定思痛,该县干部群众认识到,生态环境才是安吉最大的也是最宝贵的资源。该县以“绿水青山就是金山银山”理念为指导,确立了生态立县的发展思路,淘汰高污染、高能耗企业,大力发展低污染、环保型新兴产业,经过不懈努力,走出了一条生态美、产业兴、百姓富的发展之路。

材料二 近年来,安吉县政府将大数据融入社会治理,在矛盾纠纷化解、数字乡村建设等方面积极探索,“数据治理”有声有色。依托大数据,打造信息归集、数据分析、资源共享、趋势预测等一体化、集成化服务统一平台,从横向上打通政府业务部门的协作,纵向上打通县、乡、村三级联动。建立全覆盖的“村级便民服务中心+自助服务终端+代办员”办事模式,打通服务群众“最后一公里”,实现特殊群体服务“零跑腿”。目前,该县推出政务服务项目中“网办率”占99.84%，“掌办率”占94.40%，企业和群众满意度测评达到99%。

(1)结合材料一,运用价值判断和价值选择的知识,说明安吉县是如何践行“绿水青山就是金山银山”理念以推动经济社会高质量发展的。(12分)

(2)结合材料二和政治生活知识,说明安吉县的“数据治理”对提高政府治理效能的作用。(12分)

(3)假如你所在的班级要就“实现人与自然的和谐共生”向全校师生发出倡议,请你为该倡议书列两个要点。(4分)

41. (25分)阅读材料,完成下列要求。

材料一 中医是我国人民在生产、生活实践中的经验总结。战国秦汉时期,《黄帝内经》《神农本草经》《伤寒杂病论》这三部中医学理论、药学、临床体系的奠基之作问世。南朝时期,《本草经集注》收录了民间广泛应用的外来药物。唐代,孙思邈在《千金方》中提出了“大医精诚”思想;《唐本草》是世界上第一部由政府颁布的药典。五代时期,《海药本草》记录了海外传入的百余种药物。宋代,政府专设“太医局”培养中医人才,专设“校正医书局”搜集、整理、考证和校勘历代医籍;文仕通医及文人从医以“兼济天下”成为潮流。明清时期,李时珍写成《本草纲目》;政府和民间大力推行人痘接种以预防天花;广誉远、同仁堂、九芝堂等老字号中药堂、中药铺兴起。

——据李成文《中医发展史》

材料二 近代前期,“求进步的中国人”坚信“要救国,只有学外国”。当时中医界“或立奇方以欺世;或假托仙佛之方;或托西术东艺,欺人图利”。陈独秀指出,中医“既不解人身之构造,复不事药性之分析,菌毒传染,更无闻焉”。知识精英们“以科学的名义”对中医的批判,最终酿成民国政府三次试图废除中医的行动。随着外国侵略进一步加剧,“传统力量”反而渐渐显现出真实价值。1920年代中后期以降,中医与中国民族、身体、思想、文化系统的关联逐渐紧密。钱穆认为,包括中医在内的中国传统文化“不仅可以容受近代西方之科学文明,应该还能融化能开新”。

——据皮国立《近代中西医的博弈:中医抗菌史》等

材料三 21世纪以来,随着科技水平的极大提高,生产工艺不断优化,中药的作用机理、中药材的有关物质基础不断被发现。中医学由疾病医学转向综合性的健康医学,其养生保健、防病治病、调养康复等优势受到国内外广泛关注。抗癌药物“青蒿素”挽救了全球数百万人生命;蜜炼川贝枇杷膏在美国市场悄然走红;“中医针灸”被列入联合国教科文组织人类非物质文化遗产名录。中医药已成为中国与各国开展人文交流的载体。

——据朱建平《百年中医史》

(1)根据材料一并结合所学知识,概括古代中医学发展的主要特点。(8分)

(2)根据材料二并结合所学知识,指出中国近代知识精英对中医学态度的变化并分别分析其原因。(12分)

(3)根据材料三并结合所学知识,说明中医学的时代价值。(5分)

42. (12分) 阅读材料, 完成下列要求。

材料 1954年5月, 美国最高法院宣布公立学校中的黑白种族隔离制度违反宪法, 但南方许多州拒绝有色人种进入白人学校, 最严重的一起冲突事件发生在阿肯色州的首府小石城。1957年9月2日, 该州州长福布斯派出国民警卫队阻止黑人学生入学, 但未成功。23日, 在州长的纵容下, 上千名种族主义分子包围学校, 殴打黑人记者, 并把8名入学的黑人学生赶走。25日, 艾森豪威尔总统不得不动用美国陆军101空降师, “占领”了小石城, 保护黑人儿童入学。

“小石城危机”爆发后, 莫斯科电台在三个月内发布了160条批评美国的评论, 大多都面向亚洲和中东。西欧的许多人对美国作为民主榜样的名声进一步受损感到惋惜。拉美的记者常常列举他们自己种族融合的传统, 表达出更明确的批评立场。近东和远东的记者则对美国虐待少数民族表达了强烈的谴责, 如首尔的《韩国日报》称美国的隔离问题成为世界有色人种对美国民主和美国生活方式产生怀疑和批评的主要原因。这些报道令艾森豪威尔政府大为沮丧。

——据刘绪贻《美国通史》第6卷等

从上述材料中提取相关信息, 指出它所反映的某一重大历史现象, 并结合世界近现代史的所学知识加以评述。(要求: 简要写出所提取的信息及历史现象, 评述需史论结合、逻辑清晰。)

(二) 选考题: 共25分

请考生在第43、44两道地理题中任选一题作答, 如有多做, 则按所做第一题计分。并用2B铅笔在答题卡上把所选题目号后的方框涂黑。

43. (10分) [地理——选修3: 旅游地理]

2019年春节期间国内夜间总体消费金额、消费笔数分别达全天消费量的28.5%、25.7%, 游客的夜间消费占比近三成。夜间旅游已成为旅游目的地夜间消费市场的重要组成部分, 众多城市都已将“夜游”作为旅游发展的重点之一。

简述发展夜间旅游对城市旅游业的意义以及需采取的相关措施。

44. (10分) [地理——选修6: 环境保护]

黄河三角洲为典型的滨海盐碱地, 具有含盐度高、肥力低、透气性差、板结现象严重等特点。1980年初, 黄河三角洲地区开始大规模营造人工林和种植耐盐植物, 提高植被覆盖率, 对滨海盐碱地起到了很好的改良作用。

简析黄河三角洲盐碱地众多的自然原因以及植被对盐碱地的改良作用。

请考生在第45、46、47三道历史题中任选一题作答, 如果多做, 则按所做第一题计分。并用2B铅笔在答题卡上把所选题目号后的方框涂黑。

45. (15分) [历史——选修1: 历史上重大改革回眸]

材料 安史之乱后, 各藩镇纷纷派员在长安设立进奏院, 作为与中央的信息联系渠道。此外, 进奏院还承担处理藩镇在长安的经济事务、为本镇进京官员服务及提供中央情报等诸多职能, 成为藩镇在长安的常驻办事处。宋初沿用了这一旧制。公元981年, 宋太宗对散居都城的各州进奏院进行整合, 在大内之侧设置了都进奏院, 并从原有人员中筛选出150人为进奏官。

文科综合“三诊”考试题 第11页(共12页)

所有进奏官均在院内集中办公, 各自负责一州或数州的文书转递, 地方上呈的文书必须迅速移交上级主管部门, 朝廷下发文书也必须按时发出。朝廷明令进奏官只能在朝廷许可的范围内传送消息, 不得私自拆封机密文件, 不得泄露朝廷情况和国家机密, 承发文字亦只能在院内完成。尽管如此, 文书的延误和泄密等事件在宋代仍然屡有发生。

——据游彪《庙堂之上与江湖之间: 宋代研究若干论题的考察》等

(1) 根据材料并结合所学知识, 指出宋太宗改革前后进奏院的变化。(7分)

(2) 根据材料并结合所学知识, 简要评价宋太宗对进奏院的改革。(8分)

46. (15分) [历史——选修3: 20世纪的战争与和平]

材料 1940年春夏之交, 法西斯德国在欧洲的“辉煌胜利”, 加剧了对美洲大陆的战争威胁, 同时也刺激了日本进一步在太平洋区域扩大侵略的野心。有鉴于此, 制定战时大战略成了美国的当务之急。1940年6月, 马歇尔首次提出了“先德后日”的战略构想。太平洋战争爆发后, 蒋介石希望以此为契机, 争取使美国将战略中心转向远东太平洋方面。但是, 蒋介石的努力并没有奏效。这意味着中国所面临的战略局面不会有根本的改观。从1942年7月到1943年6月, 苏联获得了美国700万吨的军火和其他物资, 而中国则在为每月得到5000吨的物资援助作最大努力。作为补偿, 美国除了尽力通过驼峰航线维持对华空运外, 还以废除不平等条约、支持中国的战时大国地位等方式在精神上给中国以鼓励。

——据韩永利《战时美国大战略与中国抗日战场(1941~1945年)》

(1) 根据材料并结合所学知识, 指出美国制定“先德后日”战略的原因。(8分)

(2) 根据材料并结合所学知识, 概括美国“先德后日”战略对中国抗战产生的影响。(7分)

47. (15分) [历史——选修4: 中外历史人物评说]

材料 霍英东(1923~2006), 香港中华总商会会长、亚洲足联副会长、国际足联执委。1970年代, 在霍英东协助下, 中华人民共和国恢复了在国际足联等国际体育联合会的合法权利。在谈判与斗争中, 霍英东提出了既恢复中国的合法席位, 同时允许台湾以中国地方名义入会的方案, 这最终成为解决中国席位的基础。在申奥问题上, 霍英东父子也做了大量游说工作。他带头在国内捐建体育中心、训练基地、体育博物馆、学校体育馆等各种重要场馆30余处, 还特别强调学校体育馆应对学生免费开放。他设立“霍英东体育基金会”, 赞助国际体育赛事; 资助取得优异成绩的运动员; 扶植发展体育科研及其他体育事业。霍英东为人坦诚直率, 言必信行必果, 与许多世界体坛名人都有深厚交往, 在世界上被尊称为“中国民间体育大使”。

——据马明达、耿之鑫《体坛功臣——霍英东》

(1) 根据材料并结合所学知识, 概括霍英东为中国体育事业发展所作出的贡献, 并予以说明。(9分)

(2) 根据材料并结合所学知识, 指出霍英东能够为中国体育作出贡献的原因。(6分)

文科综合“三诊”考试题 第12页(共12页)